

附件 6

**2024 年全国行业职业技能竞赛  
——第四届全国工业设计职业技能大赛  
决赛理论试题库**

**小型家用电器制造工**

2024 年全国行业职业技能竞赛  
——第四届全国工业设计职业技能大赛  
组委会技术工作委员会

2024 年 9 月

一、单项选择题（共 1185 题）

1. 电器制造工在操作过程中应遵守的首要原则是什么（ ）

- A. 个人安全
- B. 效率优先
- C. 节约成本
- D. 团队协作

答案：A

2. 在电器制造中，以下哪项行为是不道德的（ ）

- A. 严格按照操作规程工作
- B. 及时报告生产中的问题
- C. 隐瞒生产事故
- D. 积极参与质量改进

答案：C

3. 电器制造工在发现产品质量问题时应该：

- A. 继续生产，不报告问题
- B. 立即停止生产，报告问题
- C. 忽视问题，继续生产
- D. 只报告给直接上级

答案：B

4. 电器制造工应如何对待工作中的创新（ ）

- A. 抵制创新
- B. 积极参与，提出改进建议
- C. 忽视创新
- D. 只按照传统方法工作

答案：B

5. 电器制造工在生产过程中应如何保证产品安全（ ）

- A. 忽视安全规定
- B. 严格遵守安全操作规程
- C. 只关注生产效率
- D. 仅在上级监督下注意安全

答案：B

6. 电器制造工在团队中应如何表现（ ）

- A. 只关注个人成就
- B. 积极协作，共同进步
- C. 推卸责任
- D. 忽视团队目标

答案：B

7. 电器制造工在处理客户反馈时应该：

- A. 忽视客户反馈
- B. 认真分析，及时改进
- C. 只报告给上级
- D. 将问题归咎于客户

答案：B

8. 电器制造工在面对工作中的压力时应该:

- A. 放弃工作
- B. 寻求帮助
- C. 隐瞒问题
- D. 自行解决, 不与他人沟通

答案: B

9. 电器制造工在对待工作中的不公平现象时应该:

- A. 保持沉默
- B. 积极举报, 维护正义
- C. 只关心自己的利益
- D. 与同事一起隐瞒事实

答案: B

10. 电器制造工在生产过程中应如何对待环境:

- A. 忽视环境保护
- B. 遵守环保规定, 减少污染
- C. 只关注生产效率
- D. 仅在上级监督下注意环保

答案: B

11. 电器制造工在对待工作中的知识产权时应:

- A. 随意泄露
- B. 严格保密
- C. 根据需要选择性地分享
- D. 仅与同事讨论

答案: B

12. 电器制造工在生产中发现设备故障时应该:

- A. 继续使用, 不报告
- B. 立即停止使用, 报告维修
- C. 忽视故障, 继续生产
- D. 只报告给直接上级

答案: B

13. 电器制造工在对待工作中的同事时应:

- A. 尊重并支持
- B. 忽视同事
- C. 推卸责任给同事
- D. 与同事竞争, 不合作

答案: A

14. 电器制造工在对待工作中的挑战时应:

- A. 逃避挑战
- B. 积极面对, 寻求解决方案
- C. 推卸责任
- D. 忽视挑战

答案: B

15. 电器制造工在对待工作中的新技术时应:

- A. 抵制新技术

- B. 学习并尝试应用新技术
- C. 忽视新技术
- D. 只按照传统方法工作

答案：B

16. 电器制造工在对待工作中的培训时应：

- A. 忽视培训
- B. 积极参与，提升技能
- C. 只参加强制性培训
- D. 推卸培训责任

答案：B

17. 电器制造工在生产中应如何对待原材料（ ）

- A. 浪费原材料
- B. 合理使用，避免浪费
- C. 只关注生产效率
- D. 仅在上级监督下节约原材料

答案：B

18. 电器制造工在对待工作中的紧急情况时应：

- A. 保持冷静，按照预案行动
- B. 惊慌失措
- C. 推卸责任
- D. 忽视紧急情况

答案：A

19. 电器制造工在对待工作中的创新提议时应：

- A. 抵制创新提议
- B. 认真考虑，积极反馈
- C. 忽视创新提议
- D. 只按照传统方法工作

答案：B

20. 电器制造工在对待工作中的个人发展时应：

- A. 只依赖公司提供的机会
- B. 积极寻求个人发展机会
- C. 利用不正当手段提升自己的地位
- D. 忽视个人发展，只关注当前工作

答案：B

21. 电器制造工在生产中应如何对待产品缺陷（ ）

- A. 隐瞒不报
- B. 立即报告并进行修复
- C. 继续生产，等待质检发现
- D. 只报告给直接上级

答案：B

22. 电器制造工在工作时应如何对待公司规章制度（ ）

- A. 严格遵守
- B. 随意违反
- C. 只在上级监督下遵守

D. 根据个人利益选择性遵守

答案: A

23. 电器制造工在团队工作中应如何表现 ( )

- A. 只做自己的工作
- B. 积极沟通, 协作解决问题
- C. 推卸责任给其他团队成员
- D. 忽视团队合作的重要性

答案: B

24. 电器制造工在生产过程中应如何对待安全培训 ( )

- A. 认真参加, 提高安全意识
- B. 忽视培训, 认为自己已经足够安全
- C. 只参加强制性培训
- D. 推卸培训责任

答案: A

25. 电器制造工在对待工作中的批评时应:

- A. 积极接受, 反思改进
- B. 抵触批评, 拒绝改进
- C. 推卸责任, 指责他人
- D. 忽视批评, 继续自己的工作

答案: A

26. 电器制造工在生产中应如何对待生产效率 ( )

- A. 牺牲产品质量以提高效率
- B. 在保证质量的前提下提高效率
- C. 只关注效率, 忽视质量
- D. 忽视效率, 只关注质量

答案: B

27. 电器制造工在对待工作中的同事关系时应:

- A. 建立良好的同事关系
- B. 与同事保持距离
- C. 利用同事关系谋取私利
- D. 忽视同事关系的重要性

答案: A

28. 电器制造工在对待工作中的加班问题时应:

- A. 拒绝加班, 只做规定时间内的的工作
- B. 根据工作需要, 合理安排加班
- C. 经常无故加班以显示工作态度
- D. 忽视加班对个人生活的影响

答案: B

29. 电器制造工在对待工作中的设备维护时应:

- A. 忽视设备维护, 只关注生产
- B. 定期进行设备维护, 确保设备正常运行
- C. 只在上级要求下进行设备维护
- D. 推卸设备维护责任

答案: B

30. 电器制造工在对待工作中的环保问题时:

- A. 忽视环保, 只关注生产
- B. 积极参与环保活动, 减少污染
- C. 只在上级要求下关注环保
- D. 推卸环保责任

答案: B

31. 电器制造工在对待工作中的紧急事故时:

- A. 保持冷静, 迅速采取行动
- B. 惊慌失措, 不知如何是好
- C. 推卸责任, 逃避现场
- D. 忽视事故, 继续工作

答案: A

32. 电器制造工在对待工作中的机密信息时:

- A. 严格保密, 不泄露给无关人员
- B. 随意分享, 不重视保密
- C. 根据个人利益选择性保密
- D. 仅在上级监督下保密

答案: A

33. 电器制造工在对待工作中的顾客反馈时:

- A. 认真分析, 及时改进
- B. 忽视顾客反馈, 认为自己总是对的
- C. 推卸责任, 将问题归咎于顾客
- D. 仅在上级要求下关注顾客反馈

答案: A

34. 电器制造工在对待工作中的个人健康时:

- A. 忽视个人健康, 只关注工作
- B. 重视个人健康, 合理安排工作和休息
- C. 只在生病时才关注健康
- D. 推卸健康责任, 依赖公司提供的健康服务

答案: B

35. 电器制造工在对待工作中的合同义务时:

- A. 严格遵守合同条款
- B. 随意违反合同条款
- C. 根据个人利益选择性遵守合同
- D. 仅在上级监督下遵守合同

答案: A

36. 电器制造工在对待工作中的公平竞争时:

- A. 公平竞争, 尊重对手
- B. 采取不正当手段, 损害对手
- C. 忽视公平竞争, 只关注个人利益
- D. 推卸竞争责任, 依赖他人

答案: A

37. 电器制造工在对待工作中的自我提升时:

- A. 积极学习, 不断提升自己

- B. 满足现状，不思进取
- C. 利用不正当手段提升自己
- D. 忽视自我提升，只依赖他人

答案：A

38. 电器制造工在对待工作中的团队分歧时应：

- A. 通过沟通和协商解决分歧
- B. 采取对抗态度，加剧分歧
- C. 推卸责任，逃避问题
- D. 忽视分歧，任其发展

答案：A

39. 电器制造工在对待工作中的资源节约时应：

- A. 积极节约资源，减少浪费
- B. 忽视资源节约，只关注生产
- C. 只在上级要求下节约资源
- D. 推卸资源节约责任

答案：A

40. 电器制造工在对待工作中的创新机会时应：

- A. 积极抓住机会，尝试创新
- B. 忽视创新机会，坚持传统
- C. 根据个人利益选择性创新
- D. 仅在上级监督下创新

答案：A

41. 电器制造工在对待工作中的跨部门合作时应：

- A. 积极沟通，促进合作
- B. 忽视跨部门合作，只关注自己部门
- C. 推卸合作责任，逃避问题
- D. 仅在上级要求下进行合作

答案：A

42. 电器制造工在对待工作中的质量管理时应：

- A. 严格遵守质量标准，确保产品质量
- B. 忽视质量管理，只关注生产速度
- C. 只在上级要求下关注质量
- D. 推卸质量管理责任

答案：A

43. 电器制造工在对待工作中的个人目标时应：

- A. 将个人目标与公司目标相结合
- B. 只追求个人目标，忽视公司利益
- C. 忽视个人目标，只关注公司要求
- D. 根据个人利益选择性追求目标

答案：A

44. 电器制造工在对待工作中的诚信问题时应：

- A. 诚实守信，不欺骗他人
- B. 为了个人利益，不惜欺骗
- C. 只在上级监督下保持诚信

D. 推卸诚信责任

答案：A

45. 电器制造工在对待工作中的绩效考核时应：

- A. 诚实面对，接受评价
- B. 采取不正当手段提高绩效
- C. 忽视绩效考核，只关注工作
- D. 推卸绩效考核责任

答案：A

46. 电器制造工在对待工作中的团队领导时应：

- A. 尊重领导，积极配合
- B. 忽视领导，自行其是
- C. 推卸责任，指责领导
- D. 仅在上级监督下尊重领导

答案：A

47. 电器制造工在对待工作中的职业道德教育时应：

- A. 积极参与，提高职业道德水平
- B. 忽视教育，认为自己已经足够道德
- C. 只在上级要求下参加教育
- D. 推卸教育责任

答案：A

48. 电器制造工在对待工作中的客户需求时应：

- A. 认真倾听，满足客户需求
- B. 忽视客户需求，只关注生产
- C. 推卸满足客户需求的責任
- D. 仅在上级要求下关注客户需求

答案：A

49. 电器制造工在对待工作中的个人隐私保护时应：

- A. 尊重并保护同事的个人隐私
- B. 随意泄露同事的个人隐私
- C. 根据个人利益选择性保护隐私
- D. 仅在上级监督下保护隐私

答案：A

50. 电器制造工在对待工作中的社会责任时应：

- A. 积极履行社会责任，关注社会影响
- B. 忽视社会责任，只关注个人和公司利益
- C. 只在上级要求下履行社会责任
- D. 推卸社会责任

答案：A

51. 电器制造工在进行产品测试时，发现测试结果不稳定，应该：

- A. 选择最好的数据报告
- B. 重复测试，确保数据的准确性
- C. 忽视问题，直接报告
- D. 只报告给直接上级

答案：B



52. 电器制造工在生产中遇到技术难题时, 应该:

- A. 独立解决, 不寻求帮助
- B. 积极寻求同事或专家的帮助
- C. 推卸责任, 认为不是自己的问题
- D. 忽视问题, 希望它自行消失

答案: B

53. 电器制造工在制定工作计划时, 应该:

- A. 只考虑自己的工作量
- B. 考虑团队的整体进度和协调
- C. 忽视计划, 随机工作
- D. 只按照上级的指示制定计划

答案: B

54. 电器制造工在处理工作中的冲突时, 应该:

- A. 避免冲突, 不采取行动
- B. 主动沟通, 寻求共识
- C. 推卸责任, 让冲突升级
- D. 只听从上级的决策

答案: B

55. 电器制造工在对待工作中的失败时应:

- A. 从失败中学习, 避免重复错误
- B. 忽视失败, 认为不是自己的责任
- C. 推卸责任, 将失败归咎于他人
- D. 忽视失败, 继续工作

答案: A

56. 电器制造工在对待工作中的反馈机制时应:

- A. 积极提供和接受反馈
- B. 忽视反馈, 只关注自己的工作
- C. 只提供正面反馈, 避免冲突
- D. 只接受上级的反馈

答案: A

57. 电器制造工在对待工作中的多样性和包容性时应:

- A. 尊重不同背景的同事, 促进多元化
- B. 忽视多样性, 只与相似背景的人合作
- C. 推卸促进多样性的责任
- D. 仅在上级要求下考虑多样性

答案: A

58. 电器制造工在对待工作中的持续改进时应:

- A. 持续寻求改进机会, 提高工作效率
- B. 满足现状, 不寻求变化
- C. 仅在上级要求下进行改进
- D. 忽视改进, 只关注完成任务

答案: A

59. 电器制造工在对待工作中的合规性时应:

- A. 严格遵守行业规范和法律法规

- B. 忽视合规性，只追求结果
- C. 只在被监管时考虑合规性
- D. 推卸合规责任，依赖他人

答案：A

60. 电器制造工在对待工作中的透明度时应：

- A. 保持工作过程和结果的透明度
- B. 隐藏工作过程和结果，避免责任
- C. 只在上级要求下保持透明度
- D. 忽视透明度，只关注个人利益

答案：A

61. 工业设计的核心目标是什么（ ）

- A. 降低成本
- B. 提高产品美观度
- C. 满足用户需求
- D. 增加产品功能

答案：C

62. 人体工程学在工业设计中的应用主要体现在：

- A. 外观设计
- B. 材料选择
- C. 用户操作舒适性
- D. 成本控制

答案：C

63. 下列哪项不是工业设计常用的设计方法（ ）

- A. 头脑风暴
- B. 六项思考帽
- C. 快速原型
- D. 批量生产

答案：D

64. 工业设计中，产品的形态设计主要考虑以下哪个因素（ ）

- A. 成本
- B. 功能
- C. 美观
- D. 所有以上因素

答案：D

65. 工业设计流程中，哪个阶段是将设计概念可视化（ ）

- A. 市场调研
- B. 概念设计
- C. 原型制作
- D. 生产准备

答案：B

66. 在工业设计中，CMF 代表什么（ ）

- A. 颜色、材料、制造
- B. 颜色、材料、完成
- C. 颜色、市场、反馈

D. 市场、材料、反馈

答案: B

67. 哪种软件通常用于工业设计的三维建模 ( )

A. Adobe Photoshop

B. AutoCAD

C. SketchUp

D. Microsoft Office

答案: C

68. 工业设计中, 进行用户研究的目的是为了:

A. 降低生产成本

B. 确定目标用户群体

C. 选择材料

D. 制定市场策略

答案: B

69. 哪种原型制作方法适合快速迭代和测试 ( )

A. 3D 打印

B. 手工雕刻

C. 注塑成型

D. 激光切割

答案: A

70. 工业设计中, 产品的可用性主要取决于:

A. 外观设计

B. 材料强度

C. 用户界面

D. 品牌影响力

答案: C

71. 工业设计中, 哪个概念是指设计要符合用户的直觉和习惯 ( )

A. 人体工程学

B. 可用性

C. 通用设计

D. 美学

答案: C

72. 工业设计中, 进行市场调研的目的是:

A. 确定产品价格

B. 了解用户需求

C. 选择制造工艺

D. 决定产品颜色

答案: B

73. 工业设计中, 产品的持久性主要取决于:

A. 外观设计

B. 材料选择

C. 制造工艺

D. 所有以上因素

答案: D

74. 哪种设计理念强调产品的环保和可持续性 ( )
- A. 极简设计
  - B. 绿色设计
  - C. 功能主义
  - D. 装饰主义
- 答案: B
75. 工业设计中, 产品的安全性设计应该考虑哪些因素 ( )
- A. 产品外观
  - B. 用户操作
  - C. 产品成本
  - D. 产品重量
- 答案: B
76. 工业设计中, 设计评审的目的是:
- A. 确定设计方案
  - B. 发现潜在问题
  - C. 选择材料
  - D. 制定生产计划
- 答案: B
77. 工业设计中, TRIZ 理论主要用于:
- A. 市场分析
  - B. 技术预测
  - C. 解决设计冲突
  - D. 用户研究
- 答案: C
78. 工业设计中, 哪个阶段是进行用户测试 ( )
- A. 概念设计
  - B. 原型制作
  - C. 生产准备
  - D. 产品发布
- 答案: B
79. 工业设计中, 产品的便携性主要取决于:
- A. 产品重量
  - B. 产品尺寸
  - C. 产品设计
  - D. 所有以上因素
- 答案: D
80. 工业设计中, 产品的品牌识别度主要体现在:
- A. 产品功能
  - B. 产品材料
  - C. 产品颜色和形状
  - D. 产品价格
- 答案: C
81. 工业设计中, 哪种测试用于评估产品在实际使用中的表现 ( )
- A. 材料测试

- B. 耐用性测试  
C. 用户体验测试  
D. 安全性测试  
答案：C
82. 工业设计中，哪种设计方法强调从用户的角度出发（ ）  
A. 以市场为导向的设计  
B. 以技术为导向的设计  
C. 以用户为中心的设计  
D. 以生产为导向的设计  
答案：C
83. 工业设计中，产品的易用性主要取决于：  
A. 产品外观  
B. 用户界面设计  
C. 产品价格  
D. 产品品牌  
答案：B
84. 工业设计中，哪种设计理念强调产品的多功能性（ ）  
A. 通用设计  
B. 模块化设计  
C. 极简设计  
D. 装饰主义设计  
答案：B
85. 工业设计中，产品的生产成本主要受哪些因素影响（ ）  
A. 设计复杂度  
B. 材料选择  
C. 制造工艺  
D. 所有以上因素  
答案：D
86. 工业设计中，产品的维护性设计应该考虑哪些因素（ ）  
A. 产品外观  
B. 产品结构  
C. 产品价格  
D. 产品品牌  
答案：B
87. 工业设计中，哪种设计理念强调减少产品的环境影响（ ）  
A. 绿色设计  
B. 功能主义设计  
C. 装饰主义设计  
D. 极简设计  
答案：A
88. 工业设计中，产品的包装设计应该考虑哪些因素（ ）  
A. 产品保护  
B. 运输便利性  
C. 视觉吸引力

- D. 所有以上因素  
答案: D
89. 工业设计中, 产品的生命周期评估包括哪些方面 ( )  
A. 成本评估  
B. 环境影响  
C. 用户体验  
D. 技术可行性  
答案: B
90. 工业设计中, 设计思维过程通常包括哪些阶段 ( )  
A. 同理心、定义、构思、原型、测试  
B. 市场调研、概念设计、原型制作、生产  
C. 用户研究、设计评审、用户测试、发布  
D. 概念发展、技术实现、成本分析、市场推广  
答案: A
91. 工业设计中, 哪种原型制作方法适合精细的细节展示 ( )  
A. 3D 打印  
B. CNC 加工  
C. 手工制作  
D. 铸造  
答案: B
92. 工业设计中, 产品的形态美主要取决于:  
A. 颜色搭配  
B. 材料质感  
C. 形状比例  
D. 所有以上因素  
答案: D
93. 工业设计中, 设计约束通常包括哪些类型 ( )  
A. 技术约束  
B. 成本约束  
C. 时间约束  
D. 所有以上因素  
答案: D
94. 工业设计中, 设计创新通常涉及哪些方面 ( )  
A. 功能创新  
B. 形态创新  
C. 材料创新  
D. 所有以上因素  
答案: D
95. 工业设计中, 产品的可靠性测试是为了评估:  
A. 产品的外观质量  
B. 产品在长期使用中的表现  
C. 产品的制造成本  
D. 产品的市场接受度  
答案: B

96. 工业设计中，设计策略通常包括哪些方面（ ）
- A. 产品策略
  - B. 用户策略
  - C. 市场策略
  - D. 所有以上因素
- 答案：D
97. 工业设计中，设计语言是指：
- A. 设计师的沟通方式
  - B. 产品的视觉和感官特征
  - C. 设计过程的文档记录
  - D. 设计团队的工作语言
- 答案：B
98. 工业设计中，产品的可持续性设计主要考虑哪些因素（ ）
- A. 产品的环境影响
  - B. 产品的经济性
  - C. 产品的社会责任
  - D. 所有以上因素
- 答案：D
99. 工业设计中，设计研究方法通常包括哪些（ ）
- A. 定性研究
  - B. 定量研究
  - C. 案例研究
  - D. 所有以上因素
- 答案：D
100. 工业设计中，产品的生命周期包括哪些阶段（ ）
- A. 概念设计、详细设计、生产制造
  - B. 市场调研、产品规划、产品开发
  - C. 产品设计、生产制造、销售与服务、废弃处理
  - D. 研发、测试、发布、迭代
- 答案：C
101. 工业设计中，哪个术语指的是产品与用户之间的交互方式（ ）
- A. 用户界面（UI）
  - B. 用户体验（UX）
  - C. 交互设计（IXD）
  - D. 所有以上因素
- 答案：D
102. 工业设计中，进行设计迭代的主要目的是什么（ ）
- A. 增加产品功能
  - B. 提高产品美观度
  - C. 优化产品设计以更好地满足用户需求
  - D. 减少生产成本
- 答案：C
103. 工业设计中，设计评审通常由哪些人员参与（ ）
- A. 设计师

- B. 工程师  
C. 市场营销人员  
D. 所有以上因素  
答案: D
104. 工业设计中, 哪种测试用于评估产品在极端条件下的性能 ( )  
A. 压力测试  
B. 兼容性测试  
C. 用户接受度测试  
D. 可用性测试  
答案: A
105. 工业设计中, 设计原则“形式遵循功能”是由哪位设计师提出的 ( )  
A. 菲利普·斯塔克  
B. 路易·沙利文  
C. 乔纳森·伊夫  
D. 迪特尔·拉姆斯  
答案: B
106. 工业设计中, 产品的可制造性设计主要考虑哪些方面 ( )  
A. 生产成本  
B. 生产效率  
C. 生产工艺  
D. 所有以上因素  
答案: D
107. 工业设计中, 设计思维中的“定义”阶段主要做什么 ( )  
A. 确定设计问题  
B. 产生设计概念  
C. 制作原型  
D. 测试解决方案  
答案: A
108. 工业设计中, 哪种技术常用于快速成型和验证设计概念 ( )  
A. 激光切割  
B. 3D 打印  
C. 注塑  
D. 铸造  
答案: B
109. 工业设计中, 产品的可回收性设计主要考虑哪些因素 ( )  
A. 材料选择  
B. 产品结构  
C. 回收成本  
D. 所有以上因素  
答案: D
110. 工业设计中, 设计调研的目的是什么 ( )  
A. 寻找设计灵感  
B. 确定设计方向  
C. 收集用户需求



D. 所有以上因素

答案: D

111. 工业设计中, 哪种原型开发方法允许设计者快速修改和测试 ( )

A. 硬质泡沫原型

B. 3D 打印原型

C. 金属铸造原型

D. 注塑成型原型

答案: B

112. 工业设计中, 产品的重量和尺寸对以下哪个因素影响最大 ( )

A. 材料成本

B. 运输成本

C. 制造工艺

D. 用户体验

答案: B

113. 工业设计中, 设计转移是指什么 ( )

A. 从概念设计到详细设计的过渡

B. 从设计阶段到生产阶段的过渡

C. 从用户研究到设计实施的过渡

D. 从原型制作到市场推广的过渡

答案: B

114. 工业设计中, 产品的感知质量主要取决于哪些因素 ( )

A. 产品功能

B. 产品材料和制造工艺

C. 产品价格

D. 产品品牌

答案: B

115. 工业设计中, 设计标准化的目的是什么 ( )

A. 降低设计成本

B. 提高生产效率

C. 确保设计一致性

D. 所有以上因素

答案: D

116. 工业设计中, 设计多样性的目的是什么 ( )

A. 满足不同用户的需求

B. 提高产品销量

C. 增加设计工作的复杂性

D. 展示设计师的创造力

答案: A

117. 工业设计中, 产品的维护性设计主要考虑哪些方面 ( )

A. 产品的易拆卸性

B. 配件的通用性

C. 维护成本

D. 所有以上因素

答案: D

118. 工业设计中，设计符号学是什么（ ）

- A. 使用符号来提高设计的沟通效果
- B. 研究产品形状与用户情感的关系
- C. 使用符号来装饰产品
- D. 研究产品如何传达信息

答案：D

119. 工业设计中，产品的模块化设计的主要优势是什么（ ）

- A. 降低生产成本
- B. 增加产品功能
- C. 提高产品的可定制性
- D. 所有以上因素

答案：D

120. 工业设计中，设计伦理关注哪些问题（ ）

- A. 产品对环境的影响
- B. 产品对社会的影响
- C. 设计师的职业道德
- D. 所有以上因素

答案：D

121. 电学中，电流的符号通常是：

- A. V
- B. I
- C. R
- D. W

答案：B

122. 欧姆定律的公式是：

- A.  $V = IR$
- B.  $I = V + R$
- C.  $R = V / I$
- D.  $W = VI$

答案：A

123. 以下哪个不是直流电机的类型（ ）

- A. 永磁电机
- B. 串激电机
- C. 感应电机
- D. 无刷直流电机

答案：C

124. 电阻的基本单位是：

- A. 欧姆（ $\Omega$ ）
- B. 安培 A.
- C. 伏特（V）
- D. 瓦特（W）

答案：A

125. 电气安全规程中，以下哪个行为是正确的（ ）

- A. 带电操作

- B. 使用损坏的电缆
- C. 工作时穿戴绝缘手套
- D. 忽视警告标志

答案：C

126. 以下哪个元件不是半导体元件（ ）

- A. 二极管
- B. 晶体管
- C. 电容器
- D. 场效应管

答案：C

127. 产品接线图中，通常用哪个符号表示接地（ ）

- A. +
- B.
- C. E
- D.  $\perp$

答案：D

128. 电容器的单位是：

- A. 法拉 (F)
- B. 欧姆 ( $\Omega$ )
- C. 安培 A.
- D. 伏特 (V)

答案：A

129. 以下哪个是交流电机的类型（ ）

- A. 步进电机
- B. 伺服电机
- C. 同步电机
- D. 所有选项都是

答案：D

130. 电路中，电压源的符号通常是：

- A. V
- B. I
- C. R
- D. E

答案：D

131. 电气设备接地的主要目的是：

- A. 节能
- B. 防止设备损坏
- C. 保护人身安全
- D. 提高设备效率

答案：C

132. 以下哪个元件用于限制电流的流动（ ）

- A. 电阻器
- B. 电容器
- C. 电感器

D. 变压器

答案: A

133. 电气安全规程中, 使用万用表测量电压时, 应:

- A. 接触裸露的导线
- B. 确保万用表设置在正确的电压范围
- C. 同时测量交流和直流电压
- D. 直接测量设备内部电压

答案: B

134. 以下哪个符号通常用来表示断路器 ( )

- A. F
- B. Q
- C. S
- D. T

答案: C

135. 在电气布线图中, 颜色代码通常用于区分:

- A. 电压等级
- B. 导线类型
- C. 接地线
- D. 导线连接方式

答案: B

136. 以下哪个单位用来衡量功率 ( )

- A. 瓦特 (W)
- B. 伏特 (V)
- C. 安培 A.
- D. 欧姆 ( $\Omega$ )

答案: A

137. 以下哪个元件用于储存能量 ( )

- A. 电阻器
- B. 电容器
- C. 电感器
- D. 二极管

答案: B

138. 电气安全规程中, 发现有人触电时, 应立即:

- A. 用手拉开触电者
- B. 切断电源
- C. 继续工作
- D. 呼叫触电者

答案: B

139. 以下哪个元件不是基本的线性电子元件 ( )

- A. 电阻器
- B. 电容器
- C. 电感器
- D. 逻辑门

答案: D

140. 在电气设备上，通常用哪个颜色的导线表示火线（L线）（ ）

- A. 黑色
- B. 蓝色
- C. 红色
- D. 黄色

答案：C

141. 电学中，电压源的正极通常用哪种标记表示（ ）

- A. 黑色圆点
- B. 红色线条
- C. 蓝色圆圈
- D. 绿色方块

答案：A

142. 以下哪个是半导体材料的典型特性（ ）

- A. 导电性低于绝缘体
- B. 导电性高于导体
- C. 导电性介于导体和绝缘体之间
- D. 完全不导电

答案：C

143. 电流的国际单位是：

- A. 欧姆（ $\Omega$ ）
- B. 伏特（V）
- C. 安培 A.
- D. 瓦特（W）

答案：C

144. 以下哪种电机不是由转子和定子组成的（ ）

- A. 直流电机
- B. 交流电机
- C. 步进电机
- D. 变压器

答案：D

145. 电容器在交流电路中主要起到什么作用（ ）

- A. 阻断直流
- B. 短路交流
- C. 阻抗作用
- D. 放大作用

答案：C

146. 电气安全规程要求，当电气设备发生故障时，应：

- A. 立即自行修理
- B. 继续使用
- C. 标记并停止使用
- D. 更换保险丝后继续使用

答案：C

147. 以下哪个元件不是电源电路中的元件（ ）

- A. 整流器

- B. 滤波器
- C. 稳压器
- D. 电感器

答案: D

148. 在电学中, 电感的单位是:

- A. 欧姆 ( $\Omega$ )
- B. 亨利 (H)
- C. 法拉 (F)
- D. 安培 A.

答案: B

149. 以下哪个符号通常用来表示三相电源 ( )

- A. U
- B. V
- C. W
- D. M

答案: C

150. 电气设备接地的目的是:

- A. 提供电源
- B. 防止电磁干扰
- C. 保护人身安全
- D. 改善设备性能

答案: C

151. 以下哪个元件不是数字电路中的元件 ( )

- A. 逻辑门
- B. 触发器
- C. 运算放大器
- D. 变压器

答案: D

152. 电学中, 电阻的国际单位是:

- A. 欧姆 ( $\Omega$ )
- B. 安培 A.
- C. 伏特 (V)
- D. 瓦特 (W)

答案: A

153. 以下哪个不是电气安全规程中的基本要求 ( )

- A. 正确使用个人防护装备
- B. 定期检查电气设备
- C. 随意更改电气设备设置
- D. 遵守操作规程

答案: C

154. 在电学中, 功率的公式是:

- A.  $P = IV$
- B.  $P = IR$
- C.  $P = V^2 / R$

D.  $P = I^2 R$

答案: A

155. 以下哪个元件不用于信号放大 ( )

- A. 晶体管
- B. 运算放大器
- C. 二极管
- D. 场效应管

答案: C

156. 电气设备中, 通常用哪种颜色的导线表示中性线 (N线) ( )

- A. 黑色
- B. 蓝色
- C. 红色
- D. 黄色/黑色条纹

答案: B

157. 以下哪个不是电学符号的国际标准 ( )

- A. IEC
- B. ANSI
- C. ISO
- D. ANSIB

答案: D

158. 电学中, 串联电路的总电阻是各个电阻值的:

- A. 平均值
- B. 最小值
- C. 最大值
- D. 总和

答案: D

159. 以下哪个元件在电路中起到分压作用 ( )

- A. 电阻器
- B. 电容器
- C. 电感器
- D. 变压器

答案: D

160. 电气安全规程中, 使用手持电动工具时, 应:

- A. 穿戴湿手套
- B. 确保工具接地
- C. 忽视工具的绝缘情况
- D. 站在湿地面上操作

答案: B

161. 以下哪个元件不是用来储存能量的 ( )

- A. 电池
- B. 电容器
- C. 电感器
- D. 二极管

答案: D

162. 电气设备上，通常用哪种颜色的导线表示相线（L线）（ ）

- A. 黑色
- B. 蓝色
- C. 红色或棕色
- D. 黄色

答案：C

163. 以下哪个元件不是电源电路中的整流元件（ ）

- A. 整流二极管
- B. 整流桥
- C. 稳压二极管
- D. 肖特基二极管

答案：C

164. 在电气设备上，通常用哪个符号表示警告（ ）

- A. 感叹号（!）
- B. 问号（?）
- C. 星号（\*）
- D. 骷髅头

答案：A

165. 以下哪个不是电学中的基本物理量（ ）

- A. 电压
- B. 电流
- C. 电阻
- D. 频率

答案：D

166. 电气安全规程中，对于高压设备，应保持的安全距离是：

- A. 尽可能靠近
- B. 至少1米
- C. 至少5米
- D. 没有特定要求

答案：B

167. 电学中，电感的单位亨利（H）是以哪位科学家的名字命名的（ ）

- A. 亨利·福特
- B. 迈克尔·法拉第
- C. 约瑟夫·亨利
- D. 安德烈·安培

答案：C

168. 以下哪个元件在电路中起到滤波作用（ ）

- A. 电阻器
- B. 电容器
- C. 电感器
- D. 二极管

答案：B

169. 电气安全规程中，使用绝缘工具的目的是：

- A. 提高工作效率



- B. 增加设备寿命
- C. 防止电击
- D. 减少设备重量

答案：C

170. 电学中，电容器的容抗与频率的关系是：

- A. 容抗与频率成正比
- B. 容抗与频率成反比
- C. 容抗与频率无关
- D. 容抗随频率的增加而减少

答案：B

171. 机械制图中，哪个视图显示了物体的正面（ ）

- A. 俯视图
- B. 侧视图
- C. 后视图
- D. 正视图

答案：D

172. 法定计量单位系统中，速度的主单位是什么（ ）

- A. 米每秒（m/s）
- B. 千米每小时（km/h）
- C. 英尺每分钟（ft/min）
- D. 英里每小时（mph）

答案：A

173. 在机械制图中，中心线用于表示什么（ ）

- A. 对称线
- B. 物体的边缘
- C. 物体的中心
- D. 物体的厚度

答案：C

174. 国际标准化组织（ISO）制定的标准主要是什么类型的标准（ ）

- A. 机械制图
- B. 法定计量单位
- C. 产品标准
- D. 所有选项都是

答案：C

175. 机械制图中，剖面图的符号是什么（ ）

- A. 实线
- B. 虚线
- C. 点画线
- D. 双点画线

答案：B

176. 法定计量单位系统中，压力的单位是什么（ ）

- A. 帕斯卡（Pa）
- B. 千克力每平方厘米（kgf/cm<sup>2</sup>）
- C. 标准大气压（atm）

D. 毫米汞柱 (mmHg)

答案: A

177. 机械制图中, 尺寸线通常用什么线型表示 ( )

- A. 实线
- B. 虚线
- C. 点画线
- D. 双点画线

答案: A

178. 产品标准中, DIN 标准主要是什么国家的 ( )

- A. 德国
- B. 法国
- C. 英国
- D. 美国

答案: A

179. 机械制图中, 螺纹的标注通常不包括以下哪项 ( )

- A. 螺纹直径
- B. 螺距
- C. 螺纹长度
- D. 螺纹的材质

答案: D

180. 电热元件中, 电阻丝通常由什么材料制成 ( )

- A. 镍铬合金
- B. 不锈钢
- C. 铝合金
- D. 铜合金

答案: A

181. 机械制图中, 焊接符号用于表示什么 ( )

- A. 焊接类型
- B. 焊接位置
- C. 焊接尺寸
- D. 所有选项都是

答案: D

182. 法定计量单位系统中, 温度的主单位是什么 ( )

- A. 摄氏度 ( $^{\circ}\text{C}$ )
- B. 开尔文 (K)
- C. 华氏度 ( $^{\circ}\text{F}$ )
- D. 兰金度 ( $^{\circ}\text{R}$ )

答案: B

183. 机械制图中, 表面粗糙度的标注通常包括哪些信息 ( )

- A. 粗糙度等级
- B. 粗糙度符号
- C. 粗糙度值
- D. 所有选项都是

答案: D

184. 电热元件中，电热管通常用于什么（ ）
- A. 液体加热
  - B. 空气加热
  - C. 固体加热
  - D. 所有选项都是

答案：D

185. 机械制图中，尺寸标注中的公差表示什么（ ）
- A. 尺寸的绝对值
  - B. 尺寸的允许偏差
  - C. 尺寸的测量方法
  - D. 尺寸的单位

答案：B

186. 法定计量单位系统中，力的单位是什么（ ）
- A. 牛顿（N）
  - B. 千克力（kgf）
  - C. 磅力（lbf）
  - D. 吨力

答案：A

187. 机械制图中，剖视图用于显示什么（ ）
- A. 物体的内部结构
  - B. 物体的外部形状
  - C. 对称物体的一半
  - D. 物体的截面形状

答案：A

188. 电热元件中，电热线通常由什么材料制成（ ）
- A. 镍铬合金
  - B. 不锈钢
  - C. 铁铬铝合金
  - D. 铜合金

答案：C

189. 机械制图中，哪种线型用于表示物体的轮廓线（ ）
- A. 实线
  - B. 虚线
  - C. 点画线
  - D. 双点画线

答案：A

190. 产品标准中，CE 标志通常表示什么（ ）
- A. 产品符合欧盟安全、卫生和环保要求
  - B. 产品获得国际专利
  - C. 产品通过了 ISO 认证
  - D. 产品符合 DIN 标准

答案：A

191. 机械制图中，螺纹的螺距是指什么（ ）
- A. 螺纹的直径

- B. 相邻两个螺纹之间的轴向距离
- C. 螺纹的深度
- D. 螺纹的外径

答案: B

192. 法定计量单位系统中, 能量的单位是什么 ( )

- A. 焦耳 (J)
- B. 卡路里 (cal)
- C. 千瓦时 (kWh)
- D. 所有选项都是

答案: A

193. 机械制图中, 哪种线型用于表示物体的对称线 ( )

- A. 实线
- B. 虚线
- C. 点画线
- D. 双点画线

答案: C

194. 电热元件中, 电热板通常用于什么 ( )

- A. 工业烘箱
- B. 家用电器
- C. 实验室设备
- D. 所有选项都是

答案: D

195. 机械制图中, 尺寸标注中的半径尺寸通常用什么符号表示 ( )

- A. 圆弧
- B. 圆圈
- C. 半径线
- D. 箭头

答案: C

196. 在机械制图中, 局部视图用于显示物体的哪个部分 ( )

- A. 整个物体
- B. 物体的局部区域
- C. 物体的内部结构
- D. 物体的对称面

答案: B

197. 法定计量单位系统中, 功率的单位千瓦 (kW) 是瓦特 (W) 的多少倍 ( )

- A. 10 倍
- B. 100 倍
- C. 1000 倍
- D. 10000 倍

答案: C

198. 机械制图中, 断裂符号用于表示什么 ( )

- A. 物体的对称性
- B. 物体的内部结构
- C. 物体的局部区域

D. 物体的连续性被打断

答案: D

199. 电热元件中, 加热带通常用于什么 ( )

- A. 塑料加工
- B. 金属热处理
- C. 食品加工
- D. 所有选项都是

答案: D

200. 机械制图中, 哪种符号用于表示螺纹的终止 ( )

- A. 箭头
- B. 圆圈
- C. 叉号
- D. 三角形

答案: A

201. 法定计量单位系统中, 电流的单位是什么 ( )

- A. 安培 A.
- B. 伏特 (V)
- C. 欧姆 ( $\Omega$ )
- D. 瓦特 (W)

答案: A

202. 机械制图中, 详图用于什么 ( )

- A. 显示物体的大致形状
- B. 显示物体的细节部分
- C. 显示物体的尺寸
- D. 显示物体的材料

答案: B

203. 电热元件中, 铸铝加热器通常用于什么 ( )

- A. 小型加热设备
- B. 大型工业加热系统
- C. 家用电器
- D. 所有选项都是

答案: B

204. 机械制图中, 哪个符号表示螺纹的旋向 ( )

- A. 箭头
- B. 圆圈
- C. 叉号
- D. 三角形

答案: A

205. 法定计量单位系统中, 电压的单位是什么 ( )

- A. 伏特 (V)
- B. 安培 A.
- C. 欧姆 ( $\Omega$ )
- D. 瓦特 (W)

答案: A

206. 机械制图中，第三角投影法主要用于哪个国家（ ）
- A. 中国
  - B. 美国
  - C. 德国
  - D. 所有选项都是

答案：B

207. 电热元件中，陶瓷加热器通常具有什么特点（ ）
- A. 高功率密度
  - B. 低热效率
  - C. 长寿命
  - D. 所有选项都是

答案：A

208. 机械制图中，哪种线型用于表示物体的不可见边缘（ ）
- A. 实线
  - B. 虚线
  - C. 点画线
  - D. 双点画线

答案：B

209. 电热元件中，远红外加热器通常用于什么（ ）
- A. 医疗设备
  - B. 工业干燥
  - C. 家庭取暖
  - D. 所有选项都是

答案：D

210. 机械制图中，链线（或称折断线）用于表示什么（ ）
- A. 物体的一部分被移除
  - B. 物体的一部分不可见
  - C. 物体的一部分被遮挡
  - D. 物体的一部分在另一个视图中显示

答案：D

211. 法定计量单位系统中，电阻的单位是什么（ ）
- A. 欧姆（ $\Omega$ ）
  - B. 安培 A.
  - C. 伏特（V）
  - D. 瓦特（W）

答案：A

212. 机械制图中，哪种符号用于表示焊接符号的参考线（ ）
- A. 点画线
  - B. 实线
  - C. 虚线
  - D. 双点画线

答案：A

213. 电热元件中，电热圈通常用于什么（ ）
- A. 塑料挤出机

- B. 化学反应釜
- C. 家用热水器
- D. 所有选项都是

答案: D

214. 机械制图中, 尺寸标注中的极限偏差通常用来表示什么 ( )
- A. 尺寸的最大值
  - B. 尺寸的最小值
  - C. 尺寸的最大值和最小值之间的差
  - D. 尺寸的准确值

答案: C

215. 电热元件中, 电热盘通常用于什么 ( )
- A. 实验室加热
  - B. 家用烹饪
  - C. 工业熔炼
  - D. 所有选项都是

答案: B

216. 机械制图中, 哪种符号用于表示物体的断裂处 ( )
- A. 点画线
  - B. 实线
  - C. 虚线
  - D. 双点画线

答案: D

217. 法定计量单位系统中, 频率的单位是什么 ( )
- A. 赫兹 (Hz)
  - B. 秒 (s)
  - C. 分钟 (min)
  - D. 小时 (h)

答案: A

218. 机械制图中, 哪种符号用于表示物体的中心线 ( )
- A. 实线
  - B. 虚线
  - C. 点画线
  - D. 双点画线

答案: C

219. 电热元件中, 电热带通常用于什么 ( )
- A. 管道伴热
  - B. 食品保温
  - C. 医疗热敷
  - D. 所有选项都是

答案: D

220. 机械制图中, 哪种符号用于表示物体的不可见线 ( )
- A. 实线
  - B. 虚线
  - C. 点画线

D. 双点画线

答案: B

221. 在自动化技术中, 以下哪个参数与系统的稳定性有关 ( )

- A. 增益
- B. 相位
- C. 频率
- D. 所有选项都是

答案: D

222. 电气自动化中, 以下哪个设备主要用于信号的采集 ( )

- A. 传感器
- B. 放大器
- C. 执行器
- D. PLC

答案: A

223. 在自动化技术中, 以下哪个不是控制系统的组成部件 ( )

- A. 传感器
- B. 控制器
- C. 执行器
- D. 显示器

答案: D

224. 电气自动化系统中, 以下哪个设备主要用于过电压保护 ( )

- A. 熔断器
- B. 避雷器
- C. 断路器
- D. 接触器

答案: B

225. 在自动化技术中, 以下哪个参数与系统的动态性能无关 ( )

- A. 响应时间
- B. 稳态误差
- C. 截止频率
- D. 增益

答案: B

226. 电气自动化中, 以下哪个设备主要用于电机的速度控制 ( )

- A. 传感器
- B. 变频器
- C. PLC
- D. 断路器

答案: B

227. 在自动化技术中, 以下哪个是控制系统的负反馈的特点 ( )

- A. 减少误差
- B. 增加系统复杂性
- C. 降低控制精度
- D. 增加能源消耗

答案: A



228. 电气自动化系统中，以下哪个设备主要用于信号的隔离（ ）

- A. 继电器
- B. 隔离器
- C. 接触器
- D. 断路器

答案：B

229. 在自动化技术中，以下哪个参数与系统的控制精度有关（ ）

- A. 分辨率
- B. 增益
- C. 截止频率
- D. 所有选项都是

答案：D

230. 电气自动化中，以下哪个设备主要用于信号的转换（ ）

- A. 传感器
- B. 变送器
- C. PLC
- D. 断路器

答案：B

231. 在自动化技术中，以下哪个不是控制系统的负反馈的优点（ ）

- A. 提高稳定性
- B. 提高精度
- C. 增加系统响应速度
- D. 抑制噪声

答案：C

232. 电气自动化系统中，以下哪个设备主要用于电机的启动和停止控制（ ）

- A. 传感器
- B. 接触器
- C. PLC
- D. 断路器

答案：B

233. 在自动化技术中，以下哪个参数与系统的抗干扰能力无关（ ）

- A. 增益
- B. 截止频率
- C. 相位裕度
- D. 电阻

答案：D

234. 电气自动化中，以下哪个设备主要用于实现自动化控制逻辑（ ）

- A. 传感器
- B. PLC
- C. 伺服电机
- D. 断路器

答案：B

235. 在自动化技术中，以下哪个不是控制系统的组成部件（ ）

- A. 传感器

- B. 控制器
- C. 执行器
- D. 电源

答案：D

236. 电气自动化系统中，以下哪个设备主要用于测量温度（ ）

- A. 温度传感器
- B. 压力传感器
- C. 光电传感器
- D. 接近传感器

答案：A

237. 在自动化技术中，以下哪个参数与系统的动态响应有关（ ）

- A. 延迟时间
- B. 增益
- C. 截止频率
- D. 所有选项都是

答案：D

238. 电气自动化中，以下哪个设备主要用于测量压力（ ）

- A. 温度传感器
- B. 压力传感器
- C. 光电传感器
- D. 接近传感器

答案：B

239. 在自动化技术中，以下哪个参数与系统的稳态性能无关（ ）

- A. 稳态误差
- B. 增益
- C. 截止频率
- D. 分辨率

答案：C

240. 电气自动化系统中，以下哪个设备主要用于测量位移（ ）

- A. 温度传感器
- B. 位移传感器
- C. 光电传感器
- D. 接近传感器

答案：B

241. 在自动化技术中，以下哪个参数与系统的过渡过程无关（ ）

- A. 延迟时间
- B. 增益
- C. 相位裕度
- D. 电阻

答案：D

242. 电气自动化中，以下哪个设备主要用于测量物体的接近距离（ ）

- A. 温度传感器
- B. 位移传感器
- C. 光电传感器

D. 接近传感器

答案: D

243. 在自动化技术中, 以下哪个参数与系统的控制精度无关 ( )

- A. 分辨率
- B. 增益
- C. 截止频率
- D. 电阻

答案: D

244. 电气自动化系统中, 以下哪个设备主要用于实现自动化控制的逻辑处理 ( )

- A. 传感器
- B. PLC
- C. 伺服电机
- D. 断路器

答案: B

245. 在自动化技术中, 以下哪个参数与系统的响应速度有关 ( )

- A. 延迟时间
- B. 增益
- C. 截止频率
- D. 所有选项都是

答案: D

246. 电气自动化中, 以下哪个设备主要用于电机的速度与方向控制 ( )

- A. 传感器
- B. 变频器
- C. PLC
- D. 断路器

答案: B

247. 在自动化技术中, 以下哪个参数与系统的稳定性有关 ( )

- A. 增益
- B. 相位
- C. 频率
- D. 所有选项都是

答案: D

248. 电气自动化系统中, 以下哪个设备主要用于测量流量 ( )

- A. 温度传感器
- B. 流量计
- C. 光电传感器
- D. 接近传感器

答案: B

249. 在自动化技术中, 以下哪个参数与系统的控制效果无关 ( )

- A. 稳态误差
- B. 增益
- C. 截止频率
- D. 电阻

答案: D

250. 电气自动化中，以下哪个设备主要用于电机的正反转控制（ ）

- A. 传感器
- B. 接触器
- C. PLC
- D. 断路器

答案：B

251. 智能制造的核心目标是：

- A. 降低成本
- B. 提高生产效率
- C. 实现自动化生产
- D. 增强生产系统的灵活性和智能化

答案：D

252. 工业 4.0 强调的智能化生产模式不包括：

- A. 定制化生产
- B. 批量生产
- C. 去中心化控制
- D. 实时数据分析

答案：B

253. 在智能制造中，数字孪生技术主要用于：

- A. 产品原型设计
- B. 产品虚拟测试
- C. 产品性能优化
- D. 所有选项都是

答案：D

254. 智能制造中的物联网(IoT)技术主要用于：

- A. 收集生产数据
- B. 实现设备远程监控
- C. 优化生产流程
- D. 所有选项都是

答案：D

255. 智能制造中的大数据分析可以用于：

- A. 设备故障预测
- B. 生产过程优化
- C. 产品质量控制
- D. 所有选项都是

答案：D

256. 智能制造中的人工智能技术可以：

- A. 自动调整生产参数
- B. 智能识别产品缺陷
- C. 优化生产计划
- D. 所有选项都是

答案：D

257. 智能制造中的机器视觉技术主要用于：

- A. 产品尺寸测量

- B. 产品缺陷检测
- C. 产品分类
- D. 所有选项都是

答案: D

258. 智能制造中的增材制造技术, 如 3D 打印, 主要用于:

- A. 快速原型制造
- B. 复杂零件制造
- C. 定制化产品生产
- D. 所有选项都是

答案: D

259. 智能制造中的自适应控制系统可以:

- A. 减少生产过程中的浪费
- B. 提高生产效率
- C. 优化生产质量
- D. 所有选项都是

答案: D

260. 智能制造中的虚拟现实 (VR) 技术可以用于:

- A. 员工培训
- B. 产品设计
- C. 客户展示
- D. 所有选项都是

答案: D

261. 智能产品开发中, MVP 代表什么 ( )

- A. 最小可行产品
- B. 最大价值产品
- C. 市场价值定位
- D. 移动视频平台

答案: A

262. 用户体验 (UX) 设计主要关注以下哪个方面 ( )

- A. 产品外观
- B. 产品功能
- C. 用户与产品交互的质量
- D. 产品成本

答案: C

263. 在智能产品开发中, 敏捷开发方法的核心是什么 ( )

- A. 严格的计划
- B. 快速迭代和适应变化
- C. 长期项目规划
- D. 单一开发团队

答案: B

264. 智能产品开发中, 哪个环节是验证产品概念的第一步 ( )

- A. 市场调研
- B. 原型制作
- C. 用户测试

D. 产品发布

答案: B

265. 以下哪个是智能产品开发中数据分析的主要目的 ( )

- A. 降低成本
- B. 提升用户体验
- C. 提高开发速度
- D. 增加产品功能

答案: B

266. 物联网 (IoT) 产品开发中, 哪个方面是安全性的关键 ( )

- A. 数据加密
- B. 硬件质量
- C. 用户界面
- D. 软件更新

答案: A

267. 在智能产品开发中, 以下哪个不是用户研究的方法 ( )

- A. 观察法
- B. 访谈法
- C. 问卷调查
- D. 猜测法

答案: D

268. 智能产品开发中, 哪个阶段通常使用 A/B 测试 ( )

- A. 概念验证
- B. 原型测试
- C. 产品迭代
- D. 产品发布

答案: C

269. 以下哪个是智能产品开发中硬件设计的基本原则 ( )

- A. 成本最小化
- B. 功能最大化
- C. 模块化设计
- D. 复杂化设计

答案: C

270. 在智能产品开发中, 哪个环节是测试产品在真实环境中的表现 ( )

- A. 单元测试
- B. 集成测试
- C. 现场测试
- D. 用户验收测试

答案: C

271. 以下哪个是智能产品开发中软件设计的常见模式 ( )

- A. 单一职责原则
- B. 多任务处理
- C. 单一接口原则
- D. 单一数据流原则

答案: A

272. 智能产品开发中，哪个阶段是确定产品需求的（ ）
- A. 概念阶段
  - B. 规划阶段
  - C. 设计阶段
  - D. 实施阶段
- 答案：B
273. 在智能产品开发中，以下哪个是产品可制造性的关键因素（ ）
- A. 材料选择
  - B. 设计复杂度
  - C. 制造成本
  - D. 所有选项都是
- 答案：D
274. 以下哪个是智能产品开发中进行市场调研的常用工具（ ）
- A. SWOT 分析
  - B. PEST 分析
  - C. 五力模型
  - D. 所有选项都是
- 答案：D
275. 智能产品开发中，以下哪个是产品测试的主要类型（ ）
- A. 功能测试
  - B. 性能测试
  - C. 安全性测试
  - D. 所有选项都是
- 答案：D
276. 在智能产品开发中，以下哪个是产品认证的常见领域（ ）
- A. 电磁兼容性（EMC）
  - B. 无线通信认证
  - C. 安全标准认证
  - D. 所有选项都是
- 答案：D
277. 以下哪个是智能产品开发中数据分析的常见方法（ ）
- A. 描述性分析
  - B. 诊断性分析
  - C. 预测性分析
  - D. 所有选项都是
- 答案：D
278. 智能产品开发中，以下哪个是提升用户体验的方法（ ）
- A. 增加产品功能
  - B. 简化用户界面
  - C. 提供个性化选项
  - D. 所有选项都是
- 答案：D
279. 在智能产品开发中，以下哪个是产品可扩展性的关键考虑因素（ ）
- A. 硬件升级能力

- B. 软件更新机制
- C. 数据存储扩展
- D. 所有选项都是

答案: D

280. 以下哪个是智能产品开发中进行敏捷开发的潜在优势 ( )

- A. 快速响应变化
- B. 提高团队协作
- C. 缩短开发周期
- D. 所有选项都是

答案: D

281. 智能产品开发中, 以下哪个是产品发布后需要持续进行的活动 ( )

- A. 用户反馈收集
- B. 产品维护更新
- C. 市场监控
- D. 所有选项都是

答案: D

282. 以下哪个是智能产品开发中进行用户研究的方法 ( )

- A. 焦点小组讨论
- B. 用户访谈
- C. 情境分析
- D. 所有选项都是

答案: D

283. 在智能产品开发中, 以下哪个是产品原型的作用 ( )

- A. 验证设计概念
- B. 测试用户交互
- C. 展示产品功能
- D. 所有选项都是

答案: D

284. 以下哪个是智能产品开发中进行技术评估的考虑因素 ( )

- A. 技术成熟度
- B. 技术兼容性
- C. 技术成本
- D. 所有选项都是

答案: D

285. 智能产品开发中, 以下哪个是产品安全性测试的内容 ( )

- A. 硬件安全测试
- B. 软件安全漏洞扫描
- C. 数据保护措施评估
- D. 所有选项都是

答案: D

286. 在智能产品开发中, 哪种类型的测试主要用于确保软件满足用户需求 ( )

- A. 单元测试
- B. 集成测试
- C. 系统测试



D. 验收测试

答案: D

287. 智能产品开发中, 哪种技术常用于实现设备间的无线通信 ( )

- A. 蓝牙
- B. WiFi
- C. NFC
- D. 所有选项都是

答案: D

288. 在智能产品开发中, 哪个概念指的是产品与用户之间的交互方式 ( )

- A. 用户界面 (UI)
- B. 用户体验 (UX)
- C. 用户研究 (UR)
- D. 用户测试 (UT)

答案: A

289. 智能产品开发中, 哪种方法可以帮助团队更好地理解用户需求 ( )

- A. 焦点小组
- B. 问卷调查
- C. 人物角色建模
- D. 所有选项都是

答案: C

290. 在智能产品开发中, 哪种技术用于收集用户使用产品时的行为数据 ( )

- A. 服务器日志分析
- B. 客户端分析
- C. 眼动追踪
- D. 所有选项都是

答案: D

291. 智能产品开发中, 哪种测试用于评估产品的可用性 ( )

- A. A/B 测试
- B. 可用性测试
- C. 性能测试
- D. 安全性测试

答案: B

292. 在智能产品开发中, 哪种文档详细描述了产品的功能和操作 ( )

- A. 技术规格说明书
- B. 用户手册
- C. 需求规格说明书
- D. 测试计划

答案: B

293. 智能产品开发中, 哪种方法可以用于评估产品的市场潜力 ( )

- A. 市场调研
- B. 用户访谈
- C. 竞争分析
- D. 所有选项都是

答案: D

294. 在智能产品开发中，哪种技术用于确保用户数据的安全性（ ）

- A. 加密
- B. 访问控制
- C. 安全审计
- D. 所有选项都是

答案：D

295. 智能产品开发中，哪种测试用于检测软件中的性能问题（ ）

- A. 负载测试
- B. 压力测试
- C. 耐久性测试
- D. 所有选项都是

答案：D

296. 在智能产品开发中，哪种工具可以帮助团队更有效地管理项目（ ）

- A. 敏捷看板
- B. 甘特图
- C. 里程碑图
- D. 所有选项都是

答案：D

297. 智能产品开发中，哪种方法可以帮助团队识别和解决潜在的冲突（ ）

- A. 定期团队会议
- B. 冲突解决培训
- C. 团队建设活动
- D. 所有选项都是

答案：D

298. 在智能产品开发中，哪种技术用于实现设备的远程监控和管理（ ）

- A. 物联网（IoT）
- B. 云计算
- C. 移动应用
- D. 所有选项都是

答案：D

299. 智能产品开发中，哪种测试用于评估产品的用户满意度（ ）

- A. 满意度调查
- B. 用户体验测试
- C. 客户反馈收集
- D. 所有选项都是

答案：D

300. 在智能产品开发中，哪种方法可以用于快速迭代和改进产品（ ）

- A. 瀑布模型
- B. 敏捷开发
- C. 螺旋模型
- D. 所有选项都是

答案：B

301. 智能产品开发中，哪种技术用于收集用户在不同情境下的使用数据（ ）

- A. 实验室测试

- B. 现场测试
- C. 远程用户测试
- D. 所有选项都是

答案: D

302. 在智能产品开发中, 哪种文档定义了产品的需求和约束 ( )
- A. 功能规格说明书
  - B. 技术规格说明书
  - C. 需求规格说明书
  - D. 设计规格说明书

答案: C

303. 智能产品开发中, 哪种测试用于评估产品的安全性和隐私保护措施 ( )
- A. 安全性测试
  - B. 隐私影响评估
  - C. 合规性测试
  - D. 所有选项都是

答案: D

304. 在智能产品开发中, 哪种方法用于评估产品的可访问性 ( )
- A. 可用性测试
  - B. 可访问性测试
  - C. 功能性测试
  - D. 性能测试

答案: B

305. 智能产品开发中, 哪种技术用于实现产品的个性化推荐 ( )
- A. 机器学习
  - B. 数据挖掘
  - C. 人工智能
  - D. 所有选项都是

答案: D

306. 在智能产品开发中, 哪种文档提供了产品开发过程中的详细记录 ( )
- A. 项目计划
  - B. 项目日志
  - C. 会议记录
  - D. 所有选项都是

答案: D

307. 智能产品开发中, 哪种测试用于评估产品的稳定性和可靠性 ( )
- A. 压力测试
  - B. 耐久性测试
  - C. 长期运行测试
  - D. 所有选项都是

答案: D

308. 在智能产品开发中, 哪种技术用于收集用户在使用产品时的视觉数据 ( )
- A. 眼动追踪
  - B. 屏幕录像
  - C. 热图分析

D. 所有选项都是

答案: D

309. 智能产品开发中, 哪种方法可以帮助团队更好地理解市场和用户 ( )

A. 市场调研

B. 用户访谈

C. 竞争分析

D. 所有选项都是

答案: D

310. 智能制造中的虚拟现实 (VR) 技术可以用于:

A. 员工培训

B. 产品设计

C. 客户展示

D. 所有选项都是

答案: D

311. 智能制造中的供应链管理包括:

A. 物料需求计划

B. 库存控制

C. 物流优化

D. 所有选项都是

答案: D

312. 智能制造中的精益生产方法主要关注:

A. 提高生产速度

B. 减少生产浪费

C. 提升产品质量

D. 降低生产成本

答案: B

313. 智能制造中的生产执行系统 (MES) 的主要功能是:

A. 生产计划制定

B. 生产过程监控

C. 生产数据收集

D. 所有选项都是

答案: D

314. 智能制造中的企业资源计划 (ERP) 系统主要用于:

A. 财务管理

B. 人力资源管理

C. 供应链管理

D. 所有选项都是

答案: D

315. 智能制造中的质量管理体系可以:

A. 实现质量控制

B. 跟踪产品缺陷

C. 收集质量数据

D. 支持质量改进

答案: D

316. 智能制造中的预测性维护可以:

- A. 减少意外停机
- B. 延长设备寿命
- C. 降低维护成本
- D. 所有选项都是

答案: D

317. 智能制造中的客户关系管理(CRM)系统可以:

- A. 提高客户满意度
- B. 增强客户忠诚度
- C. 优化销售流程
- D. 所有选项都是

答案: D

318. 智能制造中的智能物流系统可以:

- A. 提高物流效率
- B. 减少物流成本
- C. 实现自动化配送
- D. 优化库存管理

答案: D

319. 智能制造中的设备管理系统可以:

- A. 监控设备状态
- B. 预测设备故障
- C. 管理设备维护
- D. 提高设备利用率

答案: D

320. 智能制造中的环境监测系统可以:

- A. 检测环境参数
- B. 确保生产安全
- C. 优化能源使用
- D. 符合环保标准

答案: D

321. 智能制造中的客户定制化生产可以:

- A. 提高客户满意度
- B. 增强产品多样性
- C. 降低生产成本
- D. 提升市场竞争力

答案: A, D

322. 智能制造中的人才培养需要:

- A. 跨学科知识
- B. 技术技能
- C. 创新能力
- D. 团队合作

答案: D

323. 智能制造中的云平台可以提供:

- A. 数据存储服务

- B. 计算资源
- C. 软件应用
- D. 所有选项都是

答案: D

324. 智能制造中的边缘计算技术主要用于:

- A. 实时数据处理
- B. 减少数据传输延迟
- C. 增强系统安全性
- D. 所有选项都是

答案: D

325. 智能制造中的区块链技术可以用于:

- A. 产品追溯
- B. 供应链管理
- C. 确保数据安全
- D. 所有选项都是

答案: D

326. 智能制造中的机器学习算法可以应用于:

- A. 自动缺陷分类
- B. 预测设备维护
- C. 优化生产调度
- D. 所有选项都是

答案: D

327. 在智能制造中, 使用增强现实(AR)技术的主要好处是:

- A. 提高操作员的培训效率
- B. 简化复杂装配过程的指导
- C. 增强远程协作和支持
- D. 所有选项都是

答案: D

328. 智能制造中, 用于确保生产过程符合预定质量标准的技术是:

- A. 统计过程控制(SPC)
- B. 统计质量管理(SQC)
- C. 六西格玛管理法
- D. 所有选项都是

答案: A

329. 智能制造中的自适应机器人技术可以:

- A. 适应不同形状和大小的工件
- B. 学习新的任务
- C. 自主调整工作策略
- D. 所有选项都是

答案: D

330. 智能制造中的数据分析和人工智能技术可以用于:

- A. 优化能源消耗
- B. 提高材料利用率
- C. 减少生产废料

D. 所有选项都是

答案: D

331. 在智能制造中, 以下哪项不是智能制造平台的关键组成部分 ( )

- A. 数据集成和分析工具
- B. 机器学习模型
- C. 传统的串行生产线
- D. 物联网集成

答案: C

332. 智能制造中的模块化设计允许:

- A. 快速产品迭代
- B. 灵活适应不同需求
- C. 简化生产流程
- D. 所有选项都是

答案: D

333. 智能制造中的智能传感器能够:

- A. 实时监测设备状态
- B. 预测潜在故障
- C. 与控制系统集成
- D. 所有选项都是

答案: D

334. 智能制造中的数字主线技术用于:

- A. 确保产品设计与生产过程的一致性
- B. 连接产品开发和制造的各个阶段
- C. 提供产品全生命周期的数据支持
- D. 所有选项都是

答案: D

335. 智能制造中的智能决策支持系统可以:

- A. 提供基于数据的洞察
- B. 辅助制定生产计划
- C. 优化资源分配
- D. 所有选项都是

答案: D

336. 在智能制造中, 以下哪项不是智能物流的关键特点 ( )

- A. 自动化运输
- B. 实时追踪
- C. 固定运输路线
- D. 智能调度

答案: C

337. 智能制造中的集成质量管理体系可以:

- A. 自动检测产品缺陷
- B. 记录质量数据
- C. 实施质量控制措施
- D. 所有选项都是

答案: D

338. 智能制造中的智能维护系统可以：

- A. 预测设备故障
- B. 减少意外停机时间
- C. 优化维护计划
- D. 所有选项都是

答案：D

339. 智能制造中的协同机器人(Cobot)主要用于：

- A. 与人类工人协同工作
- B. 执行高精度任务
- C. 独立完成复杂任务
- D. 所有选项都是

答案：A

340. 智能制造中的智能调度系统可以：

- A. 应对生产过程中的实时变化
- B. 优化生产流程
- C. 提高生产效率
- D. 所有选项都是

答案：D

341. 在智能制造中，以下哪项不是智能工厂的关键特征（ ）

- A. 高度自动化
- B. 灵活的生产线
- C. 固定的生产模式
- D. 集成的信息流

答案：C

342. 智能制造中的智能检测技术可以：

- A. 提高检测速度
- B. 减少人为错误
- C. 提升检测精度
- D. 所有选项都是

答案：D

343. 智能制造中的智能产品可以：

- A. 收集使用数据
- B. 自我优化性能
- C. 与用户或其他产品通信
- D. 所有选项都是

答案：D

344. 在智能制造中，以下哪项不是智能供应链的关键组成部分（ ）

- A. 需求预测
- B. 实时库存管理
- C. 静态定价策略
- D. 物流自动化

答案：C

345. 智能制造中的智能能源管理系统可以：

- A. 监控能源消耗



- B. 优化能源分配
- C. 减少能源浪费
- D. 所有选项都是

答案: D

346. 智能制造中的智能装配技术可以:

- A. 提高装配精度
- B. 减少装配时间
- C. 适应不同装配需求
- D. 所有选项都是

答案: D

347. 在智能制造中, 以下哪项不是智能服务的关键特点 ( )

- A. 预测性维护
- B. 定制化服务
- C. 标准化服务流程
- D. 远程服务支持

答案: C

348. 智能制造中的智能安全系统可以:

- A. 监测生产环境的安全状况
- B. 及时响应安全事件
- C. 预防潜在的安全风险
- D. 所有选项都是

答案: D

349. 智能制造中的智能工艺规划可以:

- A. 提升生产效率
- B. 降低生产成本
- C. 优化工艺流程
- D. 所有选项都是

答案: D

350. 在智能制造中, 以下哪项不是智能研发的关键组成部分 ( )

- A. 创新设计方法
- B. 快速原型制造
- C. 传统的研发流程
- D. 跨学科团队合作

答案: C

351. 电子信息工程技术中, 数字信号的主要优点是:

- A. 易于放大
- B. 抗干扰性强
- C. 传输损耗小
- D. 易于生成

答案: B

352. 在数字通信中, 信噪比 (SNR) 的单位是:

- A. dB
- B. Hz
- C. mV

D.  $\Omega$

答案: A

353. 以下哪个是模拟信号的特点 ( )

- A. 离散性
- B. 连续性
- C. 数字化
- D. 线性

答案: B

354. 电子信息工程技术中, 傅里叶变换用于:

- A. 时域分析
- B. 频域分析
- C. 相位分析
- D. 时延分析

答案: B

355. 以下哪种调制技术可以提供最大的频带效率 ( )

- A. AM
- B. FM
- C. PM
- D. PSK

答案: D

356. 在数字图像处理中, 用于减少图像噪声的常见技术是:

- A. 锐化
- B. 滤波
- C. 增强
- D. 压缩

答案: B

357. 电子信息工程技术中, PCM 代表:

- A. 脉冲编码调制
- B. 相位调制
- C. 频率调制
- D. 幅度调制

答案: A

358. 在射频 (RF) 电路设计中, 阻抗匹配的主要目的是:

- A. 提高信号增益
- B. 减少信号反射
- C. 增加信号失真
- D. 提升电源效率

答案: B

359. 以下哪个是数字滤波器相对于模拟滤波器的优势 ( )

- A. 成本更低
- B. 性能更稳定
- C. 无需电源
- D. 易于实现复杂滤波

答案: D

360. 在电子信息系统中，带宽的增加通常意味着：

- A. 信号质量下降
- B. 传输距离增加
- C. 数据传输速率提升
- D. 系统成本降低

答案：C

361. 以下哪个是数字信号处理（DSP）的优势（ ）

- A. 无需专用硬件
- B. 灵活性高
- C. 成本低廉
- D. 易于实现实时处理

答案：B

362. 电子信息工程技术中，以下哪个不是同步通信的优点（ ）

- A. 传输速度快
- B. 抗干扰能力强
- C. 无需同步信息
- D. 传输可靠性高

答案：C

363. 在数字通信中，误码率（BER）是：

- A. 传输错误比特与总传输比特的比率
- B. 传输错误帧与总传输帧的比率
- C. 传输功率与接收功率的比率
- D. 发送速率与接收速率的比率

答案：A

364. 以下哪种编码方式具有自然的错误检测和纠正能力（ ）

- A. 曼彻斯特编码
- B. 非归零编码
- C. 汉明编码
- D. 差分编码

答案：C

365. 在电子信息系统中，以下哪个不是提高信号传输质量的方法（ ）

- A. 增加信号的调制深度
- B. 使用高质量的传输介质
- C. 减少信号的反射和折射
- D. 使用差分信号传输

答案：A

366. 电子信息工程技术中，以下哪个是模拟滤波器的类型（ ）

- A. 低通滤波器
- B. 高通滤波器
- C. 带通滤波器
- D. 所有选项都是

答案：D

367. 在数字通信中，以下哪个参数与信号的传输速率无关（ ）

- A. 符号率

- B. 信道带宽
- C. 调制方式
- D. 信号的峰值功率

答案: D

368. 电子信息工程技术中, 以下哪个不是数字信号的特点 ( )

- A. 离散性
- B. 易受干扰
- C. 易于存储
- D. 易于进行数字处理

答案: B

369. 在射频 (RF) 电路设计中, 以下哪个不是阻抗匹配的目的 ( )

- A. 减少信号损耗
- B. 提高信号增益
- C. 增加信号的传输距离
- D. 降低系统的复杂性

答案: D

370. 以下哪个是数字信号处理 (DSP) 的常见应用 ( )

- A. 音频压缩
- B. 图像识别
- C. 视频编码
- D. 所有选项都是

答案: D

371. 电子信息工程技术中, 以下哪个是数字滤波器的设计方法 ( )

- A. 脉冲响应法
- B. 频率采样法
- C. 双线性变换法
- D. 所有选项都是

答案: D

372. 在数字通信中, 以下哪个是提高信号传输速率的方法 ( )

- A. 增加调制指数
- B. 增加信道的带宽
- C. 使用更高阶的调制
- D. 所有选项都是

答案: D

373. 电子信息工程技术中, 以下哪个不是数字图像处理的常见应用 ( )

- A. 图像压缩
- B. 图像识别
- C. 图像传输
- D. 图像放大

答案: D

374. 在数字通信中, 以下哪个是实现信号解调的方法 ( )

- A. 匹配滤波器
- B. 相干解调
- C. 非相干解调

D. 所有选项都是

答案: D

375. 以下哪个是电子信息工程技术中提高电磁兼容性 (EMC) 的措施 ( )

- A. 使用屏蔽电缆
- B. 增加滤波器
- C. 优化电路布局
- D. 所有选项都是

答案: D

376. 在数字通信系统中, 采用纠错编码的主要目的是:

- A. 提高传输速率
- B. 增加传输距离
- C. 减少传输中的比特错误
- D. 降低信号的功率消耗

答案: C

377. 电子信息工程技术中, 天线的增益定义为:

- A. 天线长度与波长的比值
- B. 天线接收功率与输入功率的比值
- C. 天线辐射功率与接收功率的比值
- D. 天线辐射方向性与参考天线的比值

答案: D

378. 在数字信号处理中, 快速傅里叶变换 (FFT) 主要应用于:

- A. 信号的时域分析
- B. 信号的频域分析
- C. 信号的滤波
- D. 信号的调制

答案: B

379. 电子信息工程技术中, 以下哪个是数字调制技术 ( )

- A. AM
- B. FM
- C. QAM
- D. PM

答案: C

380. 在通信系统中, 多路复用技术的主要优点是:

- A. 提高信号的传输速率
- B. 降低信号的传输损耗
- C. 提高信道的利用率
- D. 增加信号的传输距离

答案: C

381. 电子信息工程技术中, 以下哪个不是数字滤波器的类型 ( )

- A. 有限冲激响应滤波器
- B. 无限冲激响应滤波器
- C. 递归滤波器
- D. 模拟滤波器

答案: D

382. 在数字图像处理中，图像的边缘检测通常依赖于：

- A. 图像的频率成分
- B. 图像的空间变化
- C. 图像的颜色信息
- D. 图像的纹理信息

答案：B

383. 电子信息工程技术中，以下哪个是模拟信号数字化的步骤（ ）

- A. 采样
- B. 量化
- C. 编码
- D. 所有选项都是

答案：D

384. 在通信系统中，信号的带宽决定了：

- A. 信号的传输速率
- B. 信号的传输距离
- C. 信号的调制方式
- D. 信号的功率消耗

答案：A

385. 电子信息工程技术中，以下哪个是提高信号放大器性能的方法（ ）

- A. 增加电源电压
- B. 使用负反馈
- C. 减少电路元件
- D. 增加信号源阻抗

答案：B

386. 在数字通信中，以下哪个参数与信号的传输距离无关（ ）

- A. 信号的频率
- B. 信号的功率
- C. 信号的调制方式
- D. 信号的相位噪声

答案：D

387. 电子信息工程技术中，以下哪个不是数字信号处理的应用（ ）

- A. 语音识别
- B. 图像处理
- C. 视频压缩
- D. 信号的模拟放大

答案：D

388. 在射频（RF）电路设计中，阻抗不匹配可能导致：

- A. 信号失真
- B. 功率损耗
- C. 信号反射
- D. 所有选项都是

答案：D

389. 电子信息工程技术中，以下哪个是模拟滤波器的设计方法（ ）

- A. 脉冲响应法

- B. 频率采样法
- C. 巴特沃斯设计
- D. 窗函数法

答案: C

390. 在数字通信中, 以下哪个是实现信号解调的方法 ( )

- A. 匹配滤波器
- B. 相干解调
- C. 非相干解调
- D. 所有选项都是

答案: D

391. 电子信息工程技术中, 以下哪个是数字信号的优势 ( )

- A. 易于放大
- B. 抗干扰性强
- C. 传输损耗小
- D. 易于生成

答案: B

392. 在通信系统中, 以下哪个参数与信号的传输速率无关 ( )

- A. 信道的带宽
- B. 调制方式
- C. 信号的频率
- D. 信号的相位变化

答案: D

393. 电子信息工程技术中, 以下哪个不是数字信号处理的应用 ( )

- A. 语音编码
- B. 图像增强
- C. 信号滤波
- D. 信号的模拟调制

答案: D

394. 在数字通信中, 以下哪个参数与信号的传输距离有关 ( )

- A. 信号的频率
- B. 信号的功率
- C. 信号的调制方式
- D. 信号的相位噪声

答案: B

395. 电子信息工程技术中, 以下哪个是提高信号放大器性能的方法 ( )

- A. 增加电源电压
- B. 使用负反馈
- C. 减少电路元件
- D. 增加信号源阻抗

答案: B

396. 在数字通信中, 以下哪个是提高信号传输速率的方法 ( )

- A. 增加调制指数
- B. 增加信道的带宽
- C. 使用更高阶的调制

D. 所有选项都是

答案: D

397. 电子信息工程技术中, 以下哪个不是数字图像处理的常见应用 ( )

- A. 图像压缩
- B. 图像识别
- C. 图像传输
- D. 图像放大

答案: D

398. 在数字通信中, 以下哪个参数与信号的传输速率有关 ( )

- A. 符号率
- B. 信道带宽
- C. 调制方式
- D. 所有选项都是

答案: D

399. 电子信息工程技术中, 以下哪个是数字滤波器的设计方法 ( )

- A. 脉冲响应法
- B. 频率采样法
- C. 双线性变换法
- D. 所有选项都是

答案: D

400. 在智能产品开发中, 哪种技术用于实现产品的智能化功能 ( )

- A. 机器学习
- B. 人工智能
- C. 物联网 (IoT)
- D. 所有选项都是

答案: D

401. 物联网 (IoT) 的核心网络形态是基于:

- A. 有线网络
- B. 无线网络
- C. 互联网
- D. 局域网

答案: C

402. RFID 技术在物联网中的应用主要是:

- A. 定位追踪
- B. 物品标识与识别
- C. 数据传输
- D. 网络连接

答案: B

403. 物联网与传感网的关系是:

- A. 物联网包含传感网
- B. 传感网包含物联网
- C. 两者互相独立
- D. 两者联系不大

答案: A



404. 以下哪个不是物联网的基本特征:

- A. 自动化
- B. 智能化
- C. 网络化
- D. 非实时性

答案: D

405. 物联网在我国的迅速升温是在:

- A. 2008 年
- B. 2009 年
- C. 2010 年
- D. 2011 年

答案: B

406. 物联网是在互联网基础上的延伸和拓展, 主要体现在:

- A. 信息共享
- B. 智能设备接入
- C. 网络通信
- D. 所有选项都是

答案: D

407. 物联网中的“物”可以在网络中共享:

- A. 被识别的编号
- B. 存储的数据
- C. 连接的设备
- D. 所有选项都是

答案: A

408. 以下哪个是物联网承载端的特点:

- A. 单一的承载网
- B. 多样化的网络技术
- C. 仅限于局域网
- D. 仅限于广域网

答案: B

409. 物联网感知层的关键技术是:

- A. 传感器技术
- B. 数据库技术
- C. 网络通信技术
- D. 云计算技术

答案: A

410. 以下哪个不是物联网数据处理技术的主要功能:

- A. 数据存储
- B. 数据处理
- C. 数据丢弃
- D. 数据分析

答案: C

411. 物联网中, 数据挖掘的主要作用是:

- A. 提供代表性概念

- B. 实现数据的高效应用
- C. 仅用于数据展示
- D. 辅助数据存储

答案：B

412. 物联网中间件的主要作用在于：

- A. 将实体对象转换为虚拟对象
- B. 提供网络通信
- C. 实现数据分析
- D. 存储大量数据

答案：A

413. 以下哪个不是物联网应用技术方面的测试要点：

- A. 可用性测试
- B. 安全性测试
- C. 连通性测试
- D. 外观设计测试

答案：D

414. 在物联网技术中，NFC 主要用于：

- A. 非接触式支付交易
- B. 家庭自动化
- C. 远程设备控制
- D. 工业设备监控

答案：A

415. 以下哪个是物联网技术中常用的通信技术：

- A. 蓝牙
- B. z 波
- C. WiFi
- D. 所有选项都是

答案：D

416. 物联网技术在医疗保健跟踪系统中的应用包括：

- A. 监测健康状况
- B. 收集心率数据
- C. 向医生发送报告
- D. 所有选项都是

答案：D

417. 以下哪个是物联网技术在智能物流中的应用：

- A. 提高仓储效率
- B. 优化配送路线
- C. 提高运输效率
- D. 所有选项都是

答案：D

418. 物联网技术在智能家居中的应用包括：

- A. 智能灯光控制
- B. 智能安防系统
- C. 智能家电管理

D. 所有选项都是

答案：D

419. 物联网技术在环境监测中的应用包括：

- A. 水污染检测
- B. 大气参数监测
- C. 森林生态监测
- D. 所有选项都是

答案：D

420. 以下哪个是物联网技术在金融与服务业中的应用：

- A. 实时交易处理
- B. 移动服务信息推送
- C. 无现金交易
- D. 所有选项都是

答案：D

421. 物联网技术在智慧医疗中的应用包括：

- A. 远程患者监护
- B. 智能医疗设备管理
- C. 电子健康记录
- D. 所有选项都是

答案：D

422. 物联网技术在智慧农业中的应用包括：

- A. 智能灌溉系统
- B. 农业环境监测
- C. 精准农业管理
- D. 所有选项都是

答案：D

423. 物联网技术在智慧工业中的应用包括：

- A. 生产线自动化
- B. 工业设备监控
- C. 预测性维护
- D. 所有选项都是

答案：D

424. 物联网技术在智能电网中的应用包括：

- A. 能源管理
- B. 需求响应
- C. 电网优化
- D. 所有选项都是

答案：D

425. 物联网技术在国防军事中的应用包括：

- A. 军事通信
- B. 情报收集
- C. 战场监控
- D. 所有选项都是

答案：D

426. 以下哪项不是物联网(IoT)的关键技术指标 ( )

- A. 互操作性
- B. 可扩展性
- C. 用户界面(UI)设计
- D. 连接性

答案: C

427. 物联网设备通常需要哪种类型的网络连接 ( )

- A. 仅支持有线连接
- B. 仅支持无线连接
- C. 同时支持有线和无线连接
- D. 无需网络连接

答案: C

428. 物联网中的 M2M 通信指的是什么 ( )

- A. 机器对机器
- B. 人对人
- C. 人对机器
- D. 机器对人

答案: A

429. 以下哪个协议不是物联网中常用的通信协议 ( )

- A. MQTT
- B. CoAP
- C. FTP
- D. AMQP

答案: C

430. 物联网设备收集的数据主要用于什么 ( )

- A. 存储在本地
- B. 仅用于设备自身
- C. 分析和决策支持
- D. 传输到其他设备

答案: C

431. 物联网中的大数据分析可以带来以下哪些好处 ( )

- A. 提高运营效率
- B. 降低成本
- C. 增强用户体验
- D. 所有选项都是

答案: D

432. 物联网设备的安全更新通常通过什么方式进行 ( )

- A. 手动更新
- B. 自动远程更新
- C. 通过连接到 PC 更新
- D. 不需要更新

答案: B

433. 以下哪个是物联网平台提供的主要功能 ( )

- A. 设备管理

- B. 数据存储
- C. 分析和可视化
- D. 所有选项都是

答案: D

434. 物联网中的边缘计算主要用于解决什么问题 ( )

- A. 减少数据传输延迟
- B. 降低设备成本
- C. 提高数据处理速度
- D. 所有选项都是

答案: D

435. 以下哪个不是物联网应用的行业 ( )

- A. 农业
- B. 制造业
- C. 教育
- D. 法律

答案: D

436. 物联网设备的能效管理主要关注什么 ( )

- A. 降低能耗
- B. 提高设备性能
- C. 减少设备体积
- D. 延长设备寿命

答案: A

437. 在物联网中, 哪种类型的传感器不依赖外部电源工作 ( )

- A. 有源传感器
- B. 无源传感器
- C. 混合传感器
- D. 被动传感器

答案: B

438. 物联网中的设备认证通常使用哪种技术 ( )

- A. 数字签名
- B. 密码
- C. 生物识别
- D. 所有选项都是

答案: A

439. 物联网中的设备通常如何标识自己 ( )

- A. 使用 IP 地址
- B. 使用 MAC 地址
- C. 使用设备 ID
- D. 使用用户定义的名称

答案: C

440. 物联网中的服务质量(QoS)主要关注什么 ( )

- A. 数据传输速度
- B. 数据传输的可靠性
- C. 数据传输的安全性

D. 所有选项都是

答案: B

441. 物联网中的设备通常在哪个层级进行数据处理 ( )

- A. 感知层
- B. 网络层
- C. 应用层
- D. 边缘层

答案: D

442. 物联网中的设备通常如何与云平台通信 ( )

- A. 使用蓝牙
- B. 使用 WiFi
- C. 使用蜂窝网络
- D. 使用所有可用的通信方式

答案: D

443. 物联网中的设备通常如何处理数据 ( )

- A. 在设备上实时处理
- B. 仅在云端处理
- C. 发送数据到云端后处理
- D. 根据需要在设备或云端处理

答案: D

444. 物联网中的设备如何确保数据的安全传输 ( )

- A. 使用 VPN
- B. 使用 TLS/SSL
- C. 使用端到端加密
- D. 所有选项都是

答案: D

445. 物联网中的设备如何适应不同的网络环境 ( )

- A. 使用网络切换技术
- B. 仅支持一种网络类型
- C. 使用多模通信模块
- D. 不需要适应

答案: C

446. 物联网中的设备如何实现远程监控和管理 ( )

- A. 使用远程访问软件
- B. 使用物联网平台
- C. 通过制造商的服务器
- D. 所有选项都是

答案: B

447. 物联网中的设备如何实现自动更新 ( )

- A. 通过用户手动更新
- B. 通过云端推送更新
- C. 通过连接到 PC 更新
- D. 设备不支持更新

答案: B

448. 物联网中的设备如何减少能源消耗 ( )

- A. 使用低功耗模式
- B. 仅在需要时唤醒设备
- C. 使用能量收集技术
- D. 所有选项都是

答案: D

449. 物联网中的设备如何实现智能决策支持 ( )

- A. 通过复杂的算法
- B. 通过云端分析
- C. 通过设备上的简单计算
- D. 通过集成的 AI 技术

答案: D

450. 物联网中的设备如何实现个性化用户体验 ( )

- A. 通过用户配置
- B. 通过学习用户行为
- C. 通过集成的机器学习
- D. 所有选项都是

答案: D

451. 智能控制技术的核心目标是:

- A. 降低系统成本
- B. 提高系统性能
- C. 增强系统的自适应能力
- D. 简化系统操作

答案: C

452. 模糊逻辑控制器主要用于处理:

- A. 线性系统
- B. 非线性系统
- C. 确定性系统
- D. 静态系统

答案: B

453. 神经网络在智能控制中的主要作用是:

- A. 数据存储
- B. 模式识别
- C. 硬件实现
- D. 信号放大

答案: B

454. 遗传算法在智能控制中主要用于:

- A. 解决线性问题
- B. 参数优化
- C. 实现自适应控制
- D. 模拟人类决策

答案: B

455. 专家系统在智能控制中的主要功能是:

- A. 自动执行任务

- B. 提供决策支持
- C. 实现复杂计算
- D. 增强系统稳定性

答案：B

456. 自适应控制技术主要用于：

- A. 静态系统
- B. 动态变化的系统
- C. 完全已知的系统
- D. 线性系统

答案：B

457. 智能控制系统的设计通常需要考虑以下哪个因素（ ）

- A. 系统的初始成本
- B. 系统的长期维护
- C. 系统的学习能力
- D. 所有选项都是

答案：D

458. 在智能控制中，强化学习主要用于：

- A. 优化固定算法
- B. 在未知环境中学习最佳行为
- C. 模拟人类行为
- D. 解决确定性问题

答案：B

459. 智能控制技术中的传感器融合主要目的是：

- A. 减少传感器数量
- B. 提高数据的一致性和可靠性
- C. 降低系统对传感器的依赖
- D. 增加系统的复杂性

答案：B

460. 在智能交通系统中，智能控制技术主要用于：

- A. 提高车速
- B. 减少交通拥堵
- C. 增加车辆数量
- D. 降低燃油消耗

答案：B

461. 智能控制在电力系统中的应用主要是为了：

- A. 增加发电量
- B. 提高能源效率
- C. 减少电力供应
- D. 降低电力需求

答案：B

462. 在智能制造中，智能控制技术可以：

- A. 降低产品质量
- B. 提高生产效率
- C. 增加生产成本



D. 减少生产灵活性

答案: B

463. 智能控制技术在环境监测中的应用主要是为了:

- A. 减少监测点数量
- B. 提高环境数据的准确性
- C. 降低监测频率
- D. 增加环境污染

答案: B

464. 在医疗领域, 智能控制技术主要用于:

- A. 增加医疗成本
- B. 提高诊疗精度
- C. 减少医疗服务
- D. 降低医疗质量

答案: B

465. 智能控制技术在农业自动化中的应用主要是为了:

- A. 增加农业劳动力需求
- B. 提高作物产量
- C. 降低农业机械化水平
- D. 减少作物种类

答案: B

466. 在金融领域, 智能控制技术主要用于:

- A. 增加金融风险
- B. 提高风险管理能力
- C. 降低金融服务质量
- D. 减少金融交易量

答案: B

467. 智能控制技术在安全监控中的应用主要是为了:

- A. 增加监控盲区
- B. 提高异常事件的识别能力
- C. 降低监控系统的响应速度
- D. 减少监控设备的数量

答案: B

468. 在通信网络中, 智能控制技术主要用于:

- A. 增加网络延迟
- B. 提高数据传输效率
- C. 降低网络服务质量
- D. 减少网络带宽使用

答案: B

469. 智能控制技术在电力系统中的应用主要是为了:

- A. 增加电力损耗
- B. 提高电力系统的稳定性
- C. 降低电力供应的可靠性
- D. 增加电力系统的复杂性

答案: B

470. 在石油和天然气行业，智能控制技术主要用于：

- A. 增加勘探成本
- B. 提高资源开发的效率
- C. 降低安全标准
- D. 减少资源利用率

答案：B

471. 智能控制技术在水处理中的应用主要是为了：

- A. 增加水处理成本
- B. 提高水质监测的准确性
- C. 降低污水处理标准
- D. 减少水资源的利用率

答案：B

472. 在建筑自动化中，智能控制技术主要用于：

- A. 增加建筑能耗
- B. 提高建筑环境的舒适度
- C. 降低建筑安全性
- D. 减少建筑维护需求

答案：B

473. 智能控制技术在教育领域的应用主要是为了：

- A. 增加学生的学习负担
- B. 提供个性化的学习体验
- C. 降低教育质量
- D. 减少教师的参与度

答案：B

474. 在智能控制技术中，自适应控制通常用于：

- A. 静态系统
- B. 具有确定性行为的系统
- C. 动态变化且不确定的系统
- D. 完全可预测的系统

答案：C

475. 智能控制技术在机器人技术中的应用主要是为了：

- A. 增加机器人的操作复杂性
- B. 提高机器人的自主性和灵活性
- C. 降低机器人的智能水平
- D. 减少机器人的功能性

答案：B

476. 在智能控制技术中，PID 控制器是一种：

- A. 开环控制器
- B. 模糊逻辑控制器
- C. 神经网络控制器
- D. 比例积分微分控制器

答案：D

477. 智能控制系统通常使用哪种学习方式优化性能（ ）

- A. 监督学习

- B. 无监督学习
- C. 强化学习
- D. 所有选项都是

答案：C

478. 智能控制技术中的传感器融合技术主要用于：

- A. 增加传感器数量
- B. 提高传感器数据的可靠性
- C. 减少传感器成本
- D. 降低传感器精度要求

答案：B

479. 在智能控制技术中，以下哪个算法常用于路径规划（ ）

- A. 遗传算法
- B. 神经网络
- C. A\*算法
- D. 模糊逻辑控制

答案：C

480. 智能控制技术在无线传感网络中的应用主要是为了：

- A. 增加网络覆盖范围
- B. 降低传感器数据的准确性
- C. 提高网络数据的收集效率
- D. 减少传感器的使用

答案：C

481. 在智能控制技术中，以下哪个指标用于评估控制系统的性能（ ）

- A. 稳定性
- B. 响应时间
- C. 精确度
- D. 所有选项都是

答案：D

482. 智能控制技术中的模式识别通常用于：

- A. 信号分类
- B. 数据存储
- C. 硬件设计
- D. 系统安全

答案：A

483. 在智能控制技术中，以下哪个方法可以用于提高系统的鲁棒性（ ）

- A. 增加系统复杂性
- B. 使用冗余传感器
- C. 减少传感器数量
- D. 忽略环境变化

答案：B

484. 智能控制技术在供应链管理中的应用主要是为了：

- A. 增加库存成本
- B. 提高物流效率
- C. 降低客户满意度

D. 减少产品多样性

答案: B

485. 在智能控制技术中, 以下哪个设备常用于实现自适应控制 ( )

- A. 传感器
- B. 执行器
- C. 控制器
- D. 所有选项都是

答案: D

486. 智能控制在智能建筑中的应用主要是为了:

- A. 增加建筑能耗
- B. 提高能源利用效率
- C. 降低居住舒适度
- D. 增加建筑维护成本

答案: B

487. 在智能控制技术中, 以下哪个参数是控制系统设计中不需要考虑的 ( )

- A. 控制精度
- B. 系统稳定性
- C. 用户体验
- D. 系统成本

答案: C

488. 智能控制在智能电网中的应用主要是为了:

- A. 增加电力损耗
- B. 提高电力分配的效率
- C. 降低电力供应的可靠性
- D. 减少电力用户的参与度

答案: B

489. 在智能控制技术中, 以下哪个算法常用于优化问题 ( )

- A. 神经网络
- B. 遗传算法
- C. 模糊逻辑
- D. 所有选项都是

答案: B

490. 智能控制在智能制造中的应用主要是为了:

- A. 增加生产成本
- B. 提高生产过程的自动化程度
- C. 降低产品质量
- D. 减少生产灵活性

答案: B

491. 在智能控制技术中, 以下哪个方法可以用于实现故障检测和诊断 ( )

- A. 神经网络
- B. 模糊逻辑
- C. 遗传算法
- D. 所有选项都是

答案: A

492. 智能控制技术在智能农业中的应用主要是为了：

- A. 增加农业劳动力需求
- B. 提高作物管理的精确度
- C. 降低农业资源的利用效率
- D. 减少农业产出

答案：B

493. 在智能控制技术中，以下哪个设备不适用于实现智能控制（ ）

- A. 传感器
- B. 微控制器
- C. 执行器
- D. 电阻器

答案：D

494. 智能控制技术在智能交通系统中的应用主要是为了：

- A. 增加交通拥堵
- B. 提高交通管理的智能化水平
- C. 降低交通系统的安全性
- D. 减少交通信息的实时性

答案：B

495. 在智能控制技术中，以下哪个参数是控制系统性能评估中不需要考虑的（ ）

- A. 稳定性
- B. 响应速度
- C. 能耗
- D. 系统复杂度

答案：D

496. 智能控制技术在智能穿戴设备中的应用主要是为了：

- A. 增加设备的重量
- B. 提高设备的功能性
- C. 降低用户的舒适度
- D. 减少设备的智能化水平

答案：B

497. 在智能控制技术中，以下哪个算法可以用于实现自适应滤波（ ）

- A. 卡尔曼滤波器
- B. 神经网络
- C. 遗传算法
- D. 所有选项都是

答案：A

498. 智能控制技术在智能水务管理中的应用主要是为了：

- A. 增加水资源浪费
- B. 提高水资源的利用效率
- C. 降低水务管理的自动化水平
- D. 减少水质监测的准确性

答案：B

499. 在智能控制技术中，以下哪个方法不适用于处理非线性系统（ ）

- A. 线性化方法

- B. 神经网络
- C. 模糊逻辑
- D. 遗传算法

答案：A

500. 在智能制造中，以下哪项不是智能研发的关键组成部分（ ）

- A. 创新设计方法
- B. 快速原型制造
- C. 传统的研发流程
- D. 跨学科团队合作

答案：C

501. 智能制造的核心目标是：

- A. 降低成本
- B. 提高生产效率
- C. 实现自动化生产
- D. 增强生产系统的灵活性和智能化

答案：D

502. 工业 4.0 强调的智能化生产模式不包括：

- A. 定制化生产
- B. 批量生产
- C. 去中心化控制
- D. 实时数据分析

答案：B

503. 在智能制造中，数字孪生技术主要用于：

- A. 产品原型设计
- B. 产品虚拟测试
- C. 产品性能优化
- D. 所有选项都是

答案：D

504. 智能制造中的物联网(IoT)技术主要用于：

- A. 收集生产数据
- B. 实现设备远程监控
- C. 优化生产流程
- D. 所有选项都是

答案：D

505. 智能制造中的大数据分析可以用于：

- A. 设备故障预测
- B. 生产过程优化
- C. 产品质量控制
- D. 所有选项都是

答案：D

506. 智能制造中的人工智能技术可以：

- A. 自动调整生产参数
- B. 智能识别产品缺陷
- C. 优化生产计划

D. 所有选项都是

答案: D

507. 智能制造中的机器视觉技术主要用于:

- A. 产品尺寸测量
- B. 产品缺陷检测
- C. 产品分类
- D. 所有选项都是

答案: D

508. 智能制造中的增材制造技术, 如 3D 打印, 主要用于:

- A. 快速原型制造
- B. 复杂零件制造
- C. 定制化产品生产
- D. 所有选项都是

答案: D

509. 智能制造中的自适应控制系统可以:

- A. 减少生产过程中的浪费
- B. 提高生产效率
- C. 优化生产质量
- D. 所有选项都是

答案: D

510. 智能制造中的供应链管理包括:

- A. 物料需求计划
- B. 库存控制
- C. 物流优化
- D. 所有选项都是

答案: D

511. 机电一体化技术中, 以下哪个元件用于实现精确的时间控制:

- A. 秒表
- B. 定时器
- C. 计数器
- D. 频率计

答案: B

512. 智能制造中的精益生产方法主要关注:

- A. 提高生产速度
- B. 减少生产浪费
- C. 提升产品质量
- D. 降低生产成本

答案: B

513. 智能制造中的生产执行系统 (MES) 的主要功能是:

- A. 生产计划制定
- B. 生产过程监控
- C. 生产数据收集
- D. 所有选项都是

答案: D

514. 智能制造中的企业资源计划(ERP)系统主要用于:

- A. 财务管理
- B. 人力资源管理
- C. 供应链管理
- D. 所有选项都是

答案: D

515. 智能制造中的质量管理体系可以:

- A. 实现质量控制
- B. 跟踪产品缺陷
- C. 收集质量数据
- D. 支持质量改进

答案: D

516. 智能制造中的预测性维护可以:

- A. 减少意外停机
- B. 延长设备寿命
- C. 降低维护成本
- D. 所有选项都是

答案: D

517. 智能制造中的客户关系管理(CRM)系统可以:

- A. 提高客户满意度
- B. 增强客户忠诚度
- C. 优化销售流程
- D. 所有选项都是

答案: D

518. 智能制造中的智能物流系统可以:

- A. 提高物流效率
- B. 减少物流成本
- C. 实现自动化配送
- D. 优化库存管理

答案: D

519. 智能制造中的设备管理系统可以:

- A. 监控设备状态
- B. 预测设备故障
- C. 管理设备维护
- D. 提高设备利用率

答案: D

520. 智能制造中的环境监测系统可以:

- A. 检测环境参数
- B. 确保生产安全
- C. 优化能源使用
- D. 符合环保标准

答案: D

521. 智能制造中的客户定制化生产可以:

- A. 提高客户满意度



- B. 增强产品多样性
- C. 降低生产成本
- D. 提升市场竞争力

答案: A, D

522. 智能制造中的人才培养需要:

- A. 跨学科知识
- B. 技术技能
- C. 创新能力
- D. 团队合作

答案: D

523. 智能制造中的云平台可以提供:

- A. 数据存储服务
- B. 计算资源
- C. 软件应用
- D. 所有选项都是

答案: D

524. 智能制造中的边缘计算技术主要用于:

- A. 实时数据处理
- B. 减少数据传输延迟
- C. 增强系统安全性
- D. 所有选项都是

答案: D

525. 智能制造中的区块链技术可以用于:

- A. 产品追溯
- B. 供应链管理
- C. 确保数据安全
- D. 所有选项都是

答案: D

526. 智能制造中的机器学习算法可以应用于:

- A. 自动缺陷分类
- B. 预测设备维护
- C. 优化生产调度
- D. 所有选项都是

答案: D

527. 在智能制造中, 使用增强现实(AR)技术的主要好处是:

- A. 提高操作员的培训效率
- B. 简化复杂装配过程的指导
- C. 增强远程协作和支持
- D. 所有选项都是

答案: D

528. 智能制造中, 用于确保生产过程符合预定质量标准的技术是:

- A. 统计过程控制(SPC)
- B. 统计质量管理(SQC)
- C. 六西格玛管理法

D. 所有选项都是

答案: A

529. 智能制造中的自适应机器人技术可以:

- A. 适应不同形状和大小的工件
- B. 学习新的任务
- C. 自主调整工作策略
- D. 所有选项都是

答案: D

530. 智能制造中的数据分析和人工智能技术可以用于:

- A. 优化能源消耗
- B. 提高材料利用率
- C. 减少生产废料
- D. 所有选项都是

答案: D

531. 在智能制造中, 以下哪项不是智能制造平台的关键组成部分 ( )

- A. 数据集成和分析工具
- B. 机器学习模型
- C. 传统的串行生产线
- D. 物联网集成

答案: C

532. 智能制造中的模块化设计允许:

- A. 快速产品迭代
- B. 灵活适应不同需求
- C. 简化生产流程
- D. 所有选项都是

答案: D

533. 智能制造中的智能传感器能够:

- A. 实时监测设备状态
- B. 预测潜在故障
- C. 与控制系统集成
- D. 所有选项都是

答案: D

534. 智能制造中的数字主线技术用于:

- A. 确保产品设计与生产过程的一致性
- B. 连接产品开发和制造的各个阶段
- C. 提供产品全生命周期的数据支持
- D. 所有选项都是

答案: D

535. 智能制造中的智能决策支持系统可以:

- A. 提供基于数据的洞察
- B. 辅助制定生产计划
- C. 优化资源分配
- D. 所有选项都是

答案: D

536. 在智能制造中，以下哪项不是智能物流的关键特点（ ）

- A. 自动化运输
- B. 实时追踪
- C. 固定运输路线
- D. 智能调度

答案：C

537. 智能制造中的集成质量管理体系可以：

- A. 自动检测产品缺陷
- B. 记录质量数据
- C. 实施质量控制措施
- D. 所有选项都是

答案：D

538. 智能制造中的智能维护系统可以：

- A. 预测设备故障
- B. 减少意外停机时间
- C. 优化维护计划
- D. 所有选项都是

答案：D

539. 智能制造中的协同机器人(Cobot)主要用于：

- A. 与人类工人协同工作
- B. 执行高精度任务
- C. 独立完成复杂任务
- D. 所有选项都是

答案：A

540. 智能制造中的智能调度系统可以：

- A. 应对生产过程中的实时变化
- B. 优化生产流程
- C. 提高生产效率
- D. 所有选项都是

答案：D

541. 在智能制造中，以下哪项不是智能工厂的关键特征（ ）

- A. 高度自动化
- B. 灵活的生产线
- C. 固定的生产模式
- D. 集成的信息流

答案：C

542. 智能制造中的智能检测技术可以：

- A. 提高检测速度
- B. 减少人为错误
- C. 提升检测精度
- D. 所有选项都是

答案：D

543. 智能制造中的智能产品可以：

- A. 收集使用数据

- B. 自我优化性能
- C. 与用户或其他产品通信
- D. 所有选项都是

答案：D

544. 在智能制造中，以下哪项不是智能供应链的关键组成部分（ ）

- A. 需求预测
- B. 实时库存管理
- C. 静态定价策略
- D. 物流自动化

答案：C

545. 智能制造中的智能能源管理系统可以：

- A. 监控能源消耗
- B. 优化能源分配
- C. 减少能源浪费
- D. 所有选项都是

答案：D

546. 智能制造中的智能装配技术可以：

- A. 提高装配精度
- B. 减少装配时间
- C. 适应不同装配需求
- D. 所有选项都是

答案：D

547. 在智能制造中，以下哪项不是智能服务的关键特点（ ）

- A. 预测性维护
- B. 定制化服务
- C. 标准化服务流程
- D. 远程服务支持

答案：C

548. 智能制造中的智能安全系统可以：

- A. 监测生产环境的安全状况
- B. 及时响应安全事件
- C. 预防潜在的安全风险
- D. 所有选项都是

答案：D

549. 智能制造中的智能工艺规划可以：

- A. 提升生产效率
- B. 降低生产成本
- C. 优化工艺流程
- D. 所有选项都是

答案：D

550. 智能控制技术在智能家居系统中的应用主要是为了：

- A. 增加家庭能耗
- B. 提高家居环境的安全性
- C. 降低家居生活的便利性

D. 减少家庭自动化设备的应用

答案: B

551. 机电一体化技术通常不涉及以下哪个领域:

- A. 控制系统设计
- B. 机械设计
- C. 计算机科学
- D. 文学创作

答案: D

552. 在机电一体化系统中, 传感器的主要作用是:

- A. 提供动力
- B. 转换信号
- C. 控制运动
- D. 存储数据

答案: B

553. 伺服电机在机电一体化技术中主要用于:

- A. 精确控制
- B. 存储能量
- C. 放大信号
- D. 过滤噪声

答案: A

554. 步进电机相比于伺服电机, 通常具有的成本优势是:

- A. 更高的成本
- B. 更低的成本
- C. 相同的成本
- D. 无法比较

答案: B

555. 机电一体化系统中, 控制器的主要功能是:

- A. 提供动力
- B. 执行动作
- C. 发送信号
- D. 指挥协调

答案: D

556. 在机电一体化中, 液压系统通常用于提供:

- A. 精确的位置控制
- B. 高功率密度
- C. 快速响应
- D. 所有选项都是

答案: D

557. 以下哪个不是机电一体化系统的优点:

- A. 高效率
- B. 高精度
- C. 高成本
- D. 易于维护

答案: C

558. 机电一体化技术中，气动系统通常用于：

- A. 直线运动
- B. 旋转运动
- C. 往复运动
- D. 所有选项都是

答案：D

559. 在机电一体化中，传动系统的作用是：

- A. 转换能量形式
- B. 放大或减少运动
- C. 改变运动方向
- D. 所有选项都是

答案：D

560. 机电一体化系统中，执行器的作用是：

- A. 控制信号
- B. 放大信号
- C. 执行物理动作
- D. 存储能量

答案：C

561. 以下哪个是机电一体化系统中常用的传感器类型：

- A. 温度传感器
- B. 压力传感器
- C. 光电传感器
- D. 所有选项都是

答案：D

562. 机电一体化系统中，反馈控制的主要目的是：

- A. 增加系统复杂性
- B. 提高系统稳定性
- C. 降低系统成本
- D. 减少系统响应时间

答案：B

563. 在机电一体化中，闭环控制系统相比于开环控制系统，通常具有的特点是：

- A. 更低的精度
- B. 更高的稳定性
- C. 更简单的设计
- D. 更低的成本

答案：B

564. 机电一体化技术中，PID控制器的“P”代表：

- A. 比例 (Proportional)
- B. 积分 (Integral)
- C. 微分 (Derivative)
- D. 编程 (Program)

答案：A

565. 以下哪个是机电一体化系统中的执行元件：

- A. 传感器

- B. 电机
- C. 控制器
- D. 变速器

答案: B

566. 机电一体化系统中, 传感器的精度对整个系统性能的影响是:

- A. 可以忽略
- B. 至关重要
- C. 无关紧要
- D. 有时重要

答案: B

567. 在机电一体化中, FMS 指的是:

- A. 柔性制造系统
- B. 固定制造系统
- C. 快速制造系统
- D. 反馈制造系统

答案: A

568. 机电一体化技术中, CNC 代表:

- A. 计算机化数字控制
- B. 计算机化模拟控制
- C. 计算机化网络控制
- D. 计算机化导航控制

答案: A

569. 以下哪个是机电一体化系统中常见的传动方式:

- A. 齿轮传动
- B. 皮带传动
- C. 链条传动
- D. 所有选项都是

答案: D

570. 机电一体化系统中, 液压传动的主要优点是:

- A. 体积小
- B. 重量轻
- C. 可实现大功率传动
- D. 维护简单

答案: C

571. 在机电一体化中, 机器人的自由度指的是:

- A. 机器人的运动范围
- B. 机器人的运动速度
- C. 机器人独立运动的参数数量
- D. 机器人的精度

答案: C

572. 机电一体化技术中, 自动化生产线通常包括:

- A. 传感器
- B. 控制器
- C. 执行器

D. 所有选项都是

答案: D

573. 以下哪个是机电一体化系统中的控制方法:

- A. 开环控制
- B. 闭环控制
- C. 线性控制
- D. 非线性控制

答案: B

574. 机电一体化系统中, 电磁兼容性 (EMC) 的主要目的是:

- A. 提高系统速度
- B. 增强系统稳定性
- C. 减少电磁干扰
- D. 增加系统复杂性

答案: C

575. 在机电一体化中, 以下哪个元件用于减少振动:

- A. 减震器
- B. 滤波器
- C. 阻尼器
- D. 所有选项都是

答案: D

576. 机电一体化技术中, 机器人的控制精度通常取决于:

- A. 传感器精度
- B. 控制器性能
- C. 执行器精度
- D. 所有选项都是

答案: D

577. 在机电一体化中, 以下哪个元件用于测量角位移:

- A. 电位器
- B. 编码器
- C. 加速度计
- D. 力传感器

答案: B

578. 机电一体化系统中, 同步电机主要用于:

- A. 产生连续旋转运动
- B. 产生直线运动
- C. 测量速度
- D. 控制位置

答案: A

579. 以下哪个是机电一体化系统中常用的测量设备:

- A. 卡尺
- B. 千分尺
- C. 激光测距仪
- D. 所有选项都是

答案: D



580. 机电一体化技术中，以下哪个元件可以用于直线运动的控制：

- A. 伺服电机
- B. 步进电机
- C. 电磁铁
- D. 所有选项都是

答案：D

581. 在机电一体化中，以下哪个元件用于实现精确的位置控制：

- A. 传感器
- B. 电机
- C. 编码器
- D. 变速器

答案：C

582. 机电一体化系统中，以下哪个元件用于实现精确的速度控制：

- A. 传感器
- B. 电机
- C. 测速发电机
- D. 变速器

答案：C

583. 以下哪个是机电一体化系统中常用的信号处理元件：

- A. 放大器
- B. 滤波器
- C. 模数转换器
- D. 所有选项都是

答案：D

584. 机电一体化技术中，以下哪个元件用于实现精确的力控制：

- A. 力传感器
- B. 电机
- C. 编码器
- D. 变速器

答案：A

585. 在机电一体化中，以下哪个元件用于测量线性位移：

- A. 电位器
- B. 位移传感器
- C. 加速度计
- D. 力传感器

答案：B

586. 机电一体化系统中，以下哪个元件用于实现精确的角度控制：

- A. 角度传感器
- B. 电机
- C. 编码器
- D. 变速器

答案：C

587. 在机电一体化中，以下哪个元件用于测量加速度：

- A. 加速度计

- B. 速度传感器
- C. 位移传感器
- D. 力传感器

答案: A

588. 机电一体化技术中, 以下哪个元件用于实现精确的扭矩控制:

- A. 扭矩传感器
- B. 电机
- C. 编码器
- D. 变速器

答案: A

589. 在机电一体化中, 以下哪个元件用于测量流体的压力:

- A. 压力传感器
- B. 温度传感器
- C. 流量传感器
- D. 力传感器

答案: A

590. 机电一体化系统中, 以下哪个元件用于实现精确的流量控制:

- A. 流量计
- B. 温度计
- C. 压力计
- D. 位移计

答案: A

591. 在机电一体化中, 以下哪个元件用于测量温度:

- A. 温度传感器
- B. 压力传感器
- C. 流量传感器
- D. 位移传感器

答案: A

592. 机电一体化技术中, 以下哪个元件用于实现精确的湿度控制:

- A. 湿度传感器
- B. 温度传感器
- C. 压力传感器
- D. 位移传感器

答案: A

593. 在机电一体化中, 以下哪个元件用于测量环境光照强度:

- A. 光敏电阻
- B. 温度传感器
- C. 压力传感器
- D. 位移传感器

答案: A

594. 机电一体化系统中, 以下哪个元件用于实现精确的气压控制:

- A. 气压传感器
- B. 温度传感器
- C. 湿度传感器

D. 位移传感器

答案: A

595. 在机电一体化中, 以下哪个元件用于测量电压:

- A. 电压表
- B. 电流表
- C. 电阻
- D. 电容

答案: A

596. 机电一体化技术中, 以下哪个元件用于实现精确的电流控制:

- A. 电流传感器
- B. 电压表
- C. 电阻
- D. 电容

答案: A

597. 在机电一体化中, 以下哪个元件用于测量电阻值:

- A. 欧姆表
- B. 电流表
- C. 电压表
- D. 电容表

答案: A

598. 机电一体化系统中, 以下哪个元件用于实现精确的电容控制:

- A. 电容传感器
- B. 电压表
- C. 电流表
- D. 电阻表

答案: A

599. 在机电一体化中, 以下哪个元件用于测量频率:

- A. 频率计
- B. 电压表
- C. 电流表
- D. 电阻表

答案: A

600. 在人工智能中, 场景理解是计算机视觉领域的一个任务, 其目的是:

- A. 理解图像中的场景内容
- B. 识别图像中的对象
- C. 重建三维场景
- D. 所有选项都是

答案: A

601. 增材制造技术主要基于以下哪个概念 ( )

- A. 材料去除
- B. 材料堆积
- C. 材料变形
- D. 材料转换

答案: B

602. 以下哪种不是增材制造技术使用的常见材料 ( )

- A. 塑料
- B. 金属
- C. 陶瓷
- D. 气体

答案: D

603. 增材制造技术在以下哪个领域应用最为广泛 ( )

- A. 航空航天
- B. 医疗
- C. 建筑
- D. 所有选项都是

答案: D

604. 以下哪个是增材制造技术的主要优点 ( )

- A. 制造速度快
- B. 材料利用率高
- C. 设计限制少
- D. 成本低廉

答案: C

605. 以下哪种增材制造技术使用激光作为能量源 ( )

- A. FDM
- B. SLA
- C. SLS
- D. EBM

答案: C

606. 增材制造技术中, FDM 代表什么 ( )

- A. 熔融沉积制造
- B. 选择性激光烧结
- C. 电子束熔化
- D. 数字光处理

答案: A

607. 以下哪个是增材制造技术的缺点 ( )

- A. 制造精度低
- B. 材料选择有限
- C. 制造成本高
- D. 设备复杂

答案: C

608. 增材制造技术中, SLA 技术使用的原材料是什么 ( )

- A. 金属粉末
- B. 光敏树脂
- C. 热塑性塑料丝
- D. 陶瓷粉末

答案: B

609. 在增材制造技术中, 哪项技术适用于制造大型零件 ( )

- A. FDM

- B. SLA
- C. SLS
- D. EBM

答案：C

610. 以下哪个不是增材制造技术的应用（ ）

- A. 快速原型制造
- B. 定制化产品制造
- C. 大规模批量生产
- D. 复杂结构制造

答案：C

611. 增材制造技术中，DLP 技术使用的光源类型是什么（ ）

- A. 激光
- B. LED
- C. 紫外光
- D. 卤素灯

答案：B

612. 以下哪种材料最适合用于 FDM 技术（ ）

- A. 金属粉末
- B. 光敏树脂
- C. 塑料丝材
- D. 陶瓷粉末

答案：C

613. 增材制造技术中，哪种技术可以制造出完全定制化的假肢（ ）

- A. FDM
- B. SLA
- C. SLS
- D. EBM

答案：C

614. 以下哪个不是增材制造技术的优点（ ）

- A. 设计灵活性高
- B. 材料浪费少
- C. 适合大规模生产
- D. 制造复杂部件

答案：C

615. 增材制造技术中，哪种技术使用电子束作为能量源（ ）

- A. SLA
- B. SLS
- C. EBM
- D. FDM

答案：C

616. 以下哪种材料不适合用于增材制造（ ）

- A. ABS 塑料
- B. PLA 塑料
- C. 聚碳酸酯

D. 液体水

答案: D

617. 增材制造技术中, 哪种技术可以用于打印电子电路 ( )

A. FDM

B. SLA

C. 3DP

D. SLS

答案: A

618. 以下哪个是增材制造技术在医疗领域的应用 ( )

A. 打印汽车零件

B. 打印航空部件

C. 打印人体植入物

D. 打印建筑模型

答案: C

619. 增材制造技术中, 哪种技术使用粉末材料 ( )

A. FDM

B. SLA

C. SLS

D. DLP

答案: C

620. 以下哪个不是增材制造技术的关键组成部分 ( )

A. 3D 打印机

B. 3D 打印材料

C. 3D 打印软件

D. 2D 设计工具

答案: D

621. 增材制造技术中, 哪种技术可以打印出多种颜色的物体 ( )

A. FDM

B. SLA

C. MJM

D. SLS

答案: C

622. 以下哪个是增材制造技术在珠宝设计中的应用 ( )

A. 打印珠宝盒

B. 打印珠宝设计原型

C. 打印珠宝包装

D. 打印珠宝广告

答案: B

623. 增材制造技术中, 哪种技术使用液态树脂作为原材料 ( )

A. FDM

B. SLA

C. SLS

D. MJM

答案: B

624. 以下哪个不是增材制造技术的优势 ( )

- A. 快速生产
- B. 减少设计限制
- C. 材料浪费多
- D. 定制化生产

答案: C

625. 增材制造技术中, 哪种技术适用于打印高精度的小型零件 ( )

- A. FDM
- B. SLA
- C. SLS
- D. DLP

答案: D

626. 增材制造技术中, 哪种技术使用熔融金属作为原材料 ( )

- A. FDM
- B. SLM
- C. SLS
- D. DLP

答案: B

627. 在增材制造技术中, 哪项技术适用于制造复杂的内部结构 ( )

- A. FDM
- B. SLA
- C. DMLS
- D. SLS

答案: C

628. 增材制造技术中, 哪种技术使用紫外线固化光敏树脂 ( )

- A. FDM
- B. SLA
- C. SLS
- D. EBM

答案: B

629. 在增材制造技术中, 哪项技术可以制造出多材料的零件 ( )

- A. FDM
- B. MJM
- C. SLS
- D. SLA

答案: B

630. 增材制造技术中, 哪种技术使用粉末床和熔化技术 ( )

- A. FDM
- B. SLS
- C. DMLS
- D. EBM

答案: B

631. 在增材制造技术中, 哪项技术适用于快速制造大型零件 ( )

- A. FDM

- B. SLA
- C. SLS
- D. MJM

答案：C

632. 增材制造技术中，哪种技术使用数字光处理技术（ ）

- A. FDM
- B. SLA
- C. DLP
- D. SLS

答案：C

633. 在增材制造技术中，哪项技术可以制造出高强度的金属零件（ ）

- A. FDM
- B. SLM
- C. SLS
- D. EBM

答案：B

634. 增材制造技术中，哪种技术使用电子束作为能量源进行金属零件制造（ ）

- A. SLA
- B. SLM
- C. EBM
- D. MJM

答案：C

635. 在增材制造技术中，哪项技术适用于制造精密的塑料零件（ ）

- A. FDM
- B. SLA
- C. SLS
- D. DLP

答案：B

636. 增材制造技术中，哪种技术使用喷墨技术沉积材料（ ）

- A. FDM
- B. IJP
- C. SLS
- D. EBM

答案：B

637. 在增材制造技术中，哪项技术可以制造出多颜色和多材料梯度的零件（ ）

- A. FDM
- B. MJM
- C. SLA
- D. DLP

答案：B

638. 增材制造技术中，哪种技术使用激光熔化金属粉末（ ）

- A. FDM
- B. SLM
- C. SLS



D. EBM

答案: B

639. 在增材制造技术中, 哪项技术可以用于制造生物可降解的医疗植入物 ( )

A. PLA FDM

B. PCL FDM

C. ABS SLA

D. Ti6Al4V EBM

答案: B

640. 增材制造技术中, 哪种技术适用于制造具有复杂几何形状的零件 ( )

A. FDM

B. SLA

C. SLS

D. MJM

答案: D

641. 在增材制造技术中, 哪项技术可以制造出具有生物活性的骨骼替代品 ( )

A. FDM

B. SLA

C. SLS

D. EBM

答案: D

642. 增材制造技术中, 哪种技术使用激光烧结技术制造零件 ( )

A. FDM

B. SLS

C. SLA

D. MJM

答案: B

643. 在增材制造技术中, 哪项技术可以用于制造具有复杂内部通道的零件 ( )

A. FDM

B. SLA

C. SLS

D. MJM

答案: C

644. 增材制造技术中, 哪种技术使用紫外线固化技术制造零件 ( )

A. FDM

B. SLA

C. SLS

D. MJM

答案: B

645. 在增材制造技术中, 哪项技术可以用于制造具有高强度和耐磨性的零件 ( )

A. FDM

B. SLA

C. SLS

D. EBM

答案: D

646. 增材制造技术中，哪种技术使用粉末材料和激光熔化技术（ ）

- A. FDM
- B. SLS
- C. SLM
- D. MJM

答案：C

647. 在增材制造技术中，哪项技术可以用于制造具有复杂形状的金属零件（ ）

- A. FDM
- B. SLA
- C. SLM
- D. DLP

答案：C

648. 增材制造技术中，哪种技术使用数字光处理技术制造零件（ ）

- A. FDM
- B. SLA
- C. DLP
- D. SLS

答案：C

649. 在增材制造技术中，哪项技术可以用于制造具有复杂几何形状的塑料零件（ ）

- A. FDM
- B. SLA
- C. SLS
- D. MJM

答案：A

650. 增材制造技术中，哪种技术使用喷墨打印技术制造零件（ ）

- A. FDM
- B. IJP
- C. SLS
- D. EBM

答案：B

651. 人工智能(AI)的最终目标是：

- A. 自动化日常任务
- B. 创造智能机器
- C. 模拟人类智能行为
- D. 替代所有人类工作

答案：C

652. 下列哪项不是人工智能的基本分支（ ）

- A. 机器学习
- B. 计算机视觉
- C. 神经科学
- D. 自然语言处理

答案：C

653. 在机器学习中，一个算法从数据中学习并做出决策或预测的过程称为：

- A. 数据挖掘

- B. 特征提取
- C. 训练
- D. 推理

答案：C

654. 深度学习是机器学习的一个子领域，主要使用：

- A. 决策树
- B. 随机森林
- C. 神经网络
- D. 支持向量机

答案：C

655. 在神经网络中，每个神经元的输出是通过什么函数计算的（ ）

- A. 线性函数
- B. 非线性激活函数
- C. 多项式函数
- D. 对数函数

答案：B

656. 卷积神经网络(CNN)主要用于：

- A. 图像识别
- B. 时间序列预测
- C. 语音识别
- D. 所有选项都是

答案：A

657. 循环神经网络(RNN)主要用于：

- A. 图像识别
- B. 语音识别
- C. 时间序列预测
- D. 所有选项都是

答案：D

658. 在人工智能中，决策树是一种：

- A. 监督学习算法
- B. 非监督学习算法
- C. 强化学习算法
- D. 遗传算法

答案：A

659. 强化学习与监督学习的主要区别在于：

- A. 数据标签
- B. 奖励机制
- C. 预测任务
- D. 模型复杂度

答案：B

660. 遗传算法是一种：

- A. 进化算法
- B. 基于实例的学习算法
- C. 基于模型的学习算法

D. 深度学习算法

答案: A

661. 在自然语言处理中, 词性标注的目的是:

- A. 识别文本中的实体
- B. 确定文本的情感倾向
- C. 标记文本中每个词的语法类别
- D. 翻译一种语言到另一种语言

答案: C

662. 机器翻译是自然语言处理中的一个任务, 其主要目标是:

- A. 识别文本中的关键词
- B. 将一种语言的文本转换为另一种语言
- C. 分析文本的语法结构
- D. 识别文本的主题

答案: B

663. 在人工智能中, 感知机是一种:

- A. 神经网络模型
- B. 决策支持系统
- C. 优化算法
- D. 知识表示方法

答案: A

664. 模糊逻辑主要用于处理:

- A. 确定性问题
- B. 不确定性问题
- C. 线性问题
- D. 所有选项都是

答案: B

665. 专家系统是人工智能的一个应用领域, 其核心组成部分是:

- A. 知识库
- B. 推理引擎
- C. 用户界面
- D. 所有选项都是

答案: D

666. 在人工智能中, 搜索算法用于:

- A. 优化问题求解
- B. 数据库查询
- C. 网络信息检索
- D. 所有选项都是

答案: A

667. 蒙特卡洛方法在人工智能中主要用于:

- A. 概率推断
- B. 优化问题
- C. 图像处理
- D. 语音识别

答案: A

668. 在人工智能中，贝叶斯网络是一种：

- A. 概率图模型
- B. 决策树
- C. 神经网络
- D. 遗传算法

答案：A

669. 马尔可夫决策过程(MDP)在人工智能中用于：

- A. 顺序决策问题
- B. 图像识别
- C. 语音识别
- D. 所有选项都是

答案：A

670. 在人工智能中，逻辑回归是一种：

- A. 分类算法
- B. 回归算法
- C. 聚类算法
- D. 优化算法

答案：A

671. 支持向量机(SVM)主要用于：

- A. 分类问题
- B. 回归问题
- C. 聚类问题
- D. 所有选项都是

答案：A

672. K近邻(KNN)算法是一种：

- A. 基于实例的学习算法
- B. 基于模型的学习算法
- C. 深度学习算法
- D. 遗传算法

答案：A

673. K均值聚类是一种：

- A. 监督学习算法
- B. 非监督学习算法
- C. 强化学习算法
- D. 遗传算法

答案：B

674. 主成分分析(PCA)在人工智能中主要用于：

- A. 数据降维
- B. 数据分类
- C. 数据聚类
- D. 数据标注

答案：A

675. 在人工智能中，集成学习是：

- A. 一种单一的算法

- B. 一种模型融合技术
- C. 一种数据预处理方法
- D. 一种特征选择方法

答案: B

676. 深度信念网络(DBN)是一种:

- A. 深度神经网络
- B. 深度学习算法
- C. 信念网络
- D. 所有选项都是

答案: D

677. 长短期记忆网络(LSTM)是一种特殊类型的:

- A. 循环神经网络
- B. 卷积神经网络
- C. 深度神经网络
- D. 所有选项都是

答案: A

678. 梯度下降是一种常用的:

- A. 优化算法
- B. 搜索算法
- C. 聚类算法
- D. 分类算法

答案: A

679. 在人工智能中, 交叉验证是一种:

- A. 数据预处理方法
- B. 模型评估方法
- C. 特征选择方法
- D. 所有选项都是

答案: B

680. 过度拟合是机器学习中常见的问题, 它发生在模型:

- A. 在训练数据上表现太好
- B. 在测试数据上表现太差
- C. 太简单无法捕捉数据的复杂性
- D. 所有选项都是

答案: A

681. 人工智能中的迁移学习指的是:

- A. 将一个模型直接应用于新问题
- B. 利用已有知识解决新问题
- C. 从头开始解决每个新问题
- D. 所有选项都是

答案: B

682. 在强化学习中, 智能体通过与环境的交互来:

- A. 学习最优策略
- B. 执行预定任务
- C. 收集数据

D. 所有选项都是

答案: A

683. 在人工智能中, 特征工程指的是:

A. 选择重要特征

B. 构造新特征

C. 转换现有特征

D. 所有选项都是

答案: D

684. 半监督学习是机器学习的一种形式, 它结合了:

A. 少量标记数据和大量未标记数据

B. 多个模型的预测结果

C. 监督学习和非监督学习

D. 所有选项都是

答案: A

685. 在人工智能中, 端到端学习指的是:

A. 直接从输入到输出的学习过程

B. 多阶段的数据处理过程

C. 需要人工干预的学习过程

D. 所有选项都是

答案: A

686. 在深度学习中, 批量归一化是一种:

A. 激活函数

B. 正则化技术

C. 数据预处理方法

D. 优化算法

答案: B

687. 在人工智能中, GAN 指的是:

A. 生成对抗网络

B. 图神经网络

C. 循环神经

D. 所有选项都是

答案: A

688. 在自然语言处理中, NLP 指的是:

A. 神经语言程序

B. 自然语言处理

C. 新闻语言处理

D. 所有选项都是

答案: B

689. 在人工智能中, RBF 网络是一种:

A. 径向基函数网络

B. 卷积基函数网络

C. 循环基函数网络

D. 所有选项都是

答案: A

690. 在人工智能中，HMM 指的是：

- A. 隐马尔可夫模型
- B. 高斯混合模型
- C. 隐藏马氏模型
- D. 所有选项都是

答案：A

691. 在人工智能中，OCR 指的是：

- A. 光学字符识别
- B. 光学字符读取
- C. 光栅字符识别
- D. 所有选项都是

答案：A

692. 在人工智能中，SVM 可以用于：

- A. 分类任务
- B. 回归任务
- C. 异常检测
- D. 所有选项都是

答案：D

693. 在人工智能中，决策树的生成过程主要包括：

- A. 特征选择
- B. 树的生成
- C. 树的剪枝
- D. 所有选项都是

答案：D

694. 在人工智能中，随机森林是一种：

- A. 集成学习方法
- B. 深度学习方法
- C. 聚类算法
- D. 优化算法

答案：A

695. 在人工智能中，XGBoost 是一种：

- A. 梯度提升框架
- B. 深度学习框架
- C. 神经网络框架
- D. 所有选项都是

答案：A

696. 在人工智能中，LightGBM 是一种：

- A. 梯度提升框架
- B. 深度学习框架
- C. 线性回归算法
- D. 所有选项都是

答案：A

697. 在人工智能中，BERT 模型主要用于：

- A. 图像识别



- B. 自然语言处理
- C. 语音识别
- D. 所有选项都是

答案: B

698. 在人工智能中, 目标检测是计算机视觉领域的一个任务, 其目的是:

- A. 识别图像中的对象
- B. 识别并定位图像中的对象
- C. 识别对象并分类
- D. 所有选项都是

答案: B

699. 在人工智能中, 实例分割是计算机视觉领域的一个任务, 其目的是:

- A. 识别图像中的每个对象实例
- B. 识别图像中的类别
- C. 定位图像中的每个对象实例
- D. 所有选项都是

答案: D

700. 在数字通信中, 以下哪个是实现信号解调的方法 ( )

- A. 匹配滤波器
- B. 相干解调
- C. 非相干解调
- D. 所有选项都是

答案: D

701. 作业策划的主要目的是:

- A. 提高工作效率
- B. 降低成本
- C. 确保产品质量
- D. 所有选项都是

答案: D

702. 在作业策划中, 以下哪项不是关键步骤 ( )

- A. 目标设定
- B. 资源分配
- C. 风险评估
- D. 立即执行

答案: D

703. 以下哪项是作业策划的首要任务 ( )

- A. 制定详细计划
- B. 确定作业目标
- C. 分配作业任务
- D. 评估资源需求

答案: B

704. 物料管控的首要目的是:

- A. 降低库存成本
- B. 保证物料质量
- C. 提高物料使用效率

D. 确保生产计划的顺利执行

答案: D

705. 在物料管控中, 以下哪项不是库存管理的关键 ( )

- A. 库存水平
- B. 物料需求计划
- C. 物料替代方案
- D. 物料销毁记录

答案: D

706. 物料替代通常发生在以下哪种情况下 ( )

- A. 物料短缺
- B. 物料过剩
- C. 物料质量不合格
- D. 所有选项都是

答案: A

707. 设备造型在工业设计中主要考虑的是:

- A. 设备性能
- B. 设备外观
- C. 设备操作便利性
- D. 所有选项都是

答案: D

708. 在设备造型设计中, 以下哪项不是设计原则 ( )

- A. 人体工程学
- B. 美观性
- C. 经济性
- D. 复杂性

答案: D

709. 设备造型设计的主要目标是:

- A. 提升设备性能
- B. 增强设备耐用性
- C. 改善用户体验
- D. 降低设备成本

答案: C

产品先期质量策划

710. 产品先期质量策划的主要目的是:

- A. 降低产品成本
- B. 提高产品质量
- C. 缩短产品开发周期
- D. 所有选项都是

答案: B

711. 在产品先期质量策划中, 以下哪项不是质量控制的关键环节 ( )

- A. 产品设计
- B. 过程控制
- C. 成本核算
- D. 供应商管理

答案：C

712. 产品先期质量策划通常包括以下哪个阶段（ ）
- A. 产品概念
  - B. 产品设计
  - C. 产品试制
  - D. 所有选项都是

答案：D

713. 工艺文件的主要作用是：
- A. 指导生产
  - B. 记录生产数据
  - C. 质量控制
  - D. 所有选项都是

答案：A

714. 在工艺文件编制中，以下哪项不是必须包含的内容（ ）
- A. 工艺流程
  - B. 操作步骤
  - C. 成本分析
  - D. 质量标准

答案：C

715. 工艺文件编制应遵循以下哪个原则（ ）
- A. 准确性
  - B. 完整性
  - C. 可操作性
  - D. 所有选项都是

答案：D

716. 零部件管理的主要目标是：
- A. 降低零部件成本
  - B. 保证零部件质量
  - C. 提高零部件使用效率
  - D. 所有选项都是

答案：D

717. 在零部件管理中，以下哪项不是关键环节（ ）
- A. 零部件采购
  - B. 零部件存储
  - C. 零部件报废
  - D. 零部件设计

答案：D

718. 零部件管理规范中，以下哪项不是存储管理的要求（ ）
- A. 环境控制
  - B. 定期检查
  - C. 先进先出
  - D. 随意堆放

答案：D

719. 计量仪器的主要作用是：

- A. 测量产品尺寸
- B. 检测产品质量
- C. 校准其他测量工具
- D. 所有选项都是

答案: C

720. 在计量和检测仪器的使用中, 以下哪项不是必要的维护措施 ( )

- A. 定期校准
- B. 清洁保养
- C. 随意调整
- D. 存放在适宜环境中

答案: C

721. 检测仪器的选择应基于以下哪个因素 ( )

- A. 测量精度要求
- B. 测量范围
- C. 测量成本
- D. 所有选项都是

答案: D

722. 计量仪器的校准周期通常由以下哪个因素决定 ( )

- A. 仪器制造商的建议
- B. 使用频率
- C. 测量结果的重要性
- D. 所有选项都是

答案: D

723. 在使用计量仪器时, 以下哪项操作是错误的 ( )

- A. 预热仪器
- B. 按照操作规程使用
- C. 随意更改仪器设置
- D. 记录测量数据

答案: C

724. 计量仪器的维护和保养通常包括以下哪项 ( )

- A. 定期清洁
- B. 定期校准
- C. 避免在恶劣环境下使用
- D. 所有选项都是

答案: D

725. 检测仪器的精度等级通常由以下哪个标准决定 ( )

- A. 国家计量标准
- B. 行业标准
- C. 制造商规格
- D. 用户需求

答案: A

726. 在进行产品先期质量策划时, 以下哪项不是必须考虑的因素 ( )

- A. 客户需求
- B. 产品设计

- C. 生产成本
- D. 员工满意度

答案: D

727. 零部件管理规范中, 以下哪项不是接收检查的内容 ( )

- A. 数量检查
- B. 外观检查
- C. 功能测试
- D. 供应商信誉

答案: D

728. 作业策划中, 以下哪项不是风险评估的内容 ( )

- A. 技术风险
- B. 市场风险
- C. 法律风险
- D. 员工技能

答案: D

729. 在设备造型设计中, 以下哪项不是必须考虑的因素 ( )

- A. 设备材料
- B. 设备颜色
- C. 设备尺寸
- D. 设备品牌

答案: D

730. 工艺文件编制规范中, 以下哪项不是工艺文件的内容 ( )

- A. 工艺流程图
- B. 操作指导书
- C. 质量控制点
- D. 员工培训计划

答案: D

731. 在作业策划中, 以下哪项不是目标设定的依据 ( )

- A. 市场需求
- B. 企业战略
- C. 竞争对手分析
- D. 员工个人目标

答案: D

732. 物料管控中, 以下哪项不是库存控制的方法 ( )

- A. 定量订货
- B. 定期订货
- C. 随机订货
- D. 安全库存

答案: C

733. 设备造型设计中, 以下哪项不是设计评审的内容 ( )

- A. 设计符合性
- B. 设备安全性
- C. 成本效益分析
- D. 用户使用反馈

答案: D

734. 产品先期质量策划中, 以下哪项不是质量控制的方法 ( )
- A. 故障模式与影响分析 (FMEA)
  - B. 质量功能展开 (QFD)
  - C. 六西格玛
  - D. 员工满意度调查

答案: D

735. 工艺文件编制规范中, 以下哪项不是工艺文件的类型 ( )
- A. 工艺流程图
  - B. 作业指导书
  - C. 培训教材
  - D. 检验标准

答案: C

736. 零部件管理规范中, 以下哪项不是供应商管理的内容 ( )
- A. 供应商选择
  - B. 供应商评估
  - C. 供应商培训
  - D. 供应商财务状况

答案: D

737. 计量仪器的校准通常由以下哪个机构进行 ( )
- A. 企业内部质量部门
  - B. 国家计量院
  - C. 第三方校准机构
  - D. 所有选项都是

答案: D

738. 在检测仪器的使用中, 以下哪项不是测量误差的来源 ( )
- A. 仪器精度
  - B. 操作者技能
  - C. 环境条件
  - D. 测量方法

答案: D

739. 计量仪器的维护和保养不包括以下哪项 ( )
- A. 定期清洁
  - B. 定期校准
  - C. 随意更换零件
  - D. 防潮防尘

答案: C

740. 检测仪器的选择应考虑以下哪个因素 ( )
- A. 测量范围
  - B. 测量精度
  - C. 仪器价格
  - D. 所有选项都是

答案: D

741. 在产品先期质量策划中, 以下哪项不是必须进行的评审 ( )

- A. 设计评审
- B. 工艺评审
- C. 管理评审
- D. 所有选项都是

答案: C

742. 零部件管理规范中, 以下哪项不是零部件更换的原因 ( )

- A. 零部件损坏
- B. 零部件磨损
- C. 零部件升级
- D. 零部件过剩

答案: D

743. 作业策划中, 以下哪项不是作业执行的监控内容 ( )

- A. 作业进度
- B. 作业质量
- C. 作业成本
- D. 作业地点

答案: D

744. 在设备造型设计中, 以下哪项不是造型优化的考虑因素 ( )

- A. 材料选择
- B. 色彩搭配
- C. 设备重量
- D. 设备品牌

答案: D

745. 工艺文件编制规范中, 以下哪项不是工艺文件的编制要求 ( )

- A. 准确性
- B. 完整性
- C. 可读性
- D. 随意性

答案: D

746. 在物料管控中, 以下哪项不是物料需求计划的内容 ( )

- A. 物料清单
- B. 物料采购计划
- C. 物料存储计划
- D. 物料报废计划

答案: D

747. 设备造型设计中, 以下哪项不是造型测试的内容 ( )

- A. 耐用性测试
- B. 安全性测试
- C. 美观性测试
- D. 性能测试

答案: C

748. 产品先期质量策划中, 以下哪项不是质量改进的方法 ( )

- A. 质量环
- B. PDCA 循环

- C. 六西格玛
- D. 成本分析

答案: D

749. 零部件管理规范中, 以下哪项不是零部件质量控制的方法 ( )

- A. 入厂检验
- B. 过程检验
- C. 出货检验
- D. 目视检查

答案: D

750. 计量和检测仪器知识中, 以下哪项不是计量仪器的主要特性 ( )

- A. 准确性
- B. 稳定性
- C. 可追溯性
- D. 复杂性

答案: D

751. 机械设计中, 哪种类型的配合用于保证精确的相对位置 ( )

- A. 间隙配合
- B. 过渡配合
- C. 过盈配合
- D. 松散配合

答案: C

752. 在机械设计中, 哪个参数用来描述材料抵抗永久变形的能力 ( )

- A. 硬度
- B. 韧性
- C. 弹性
- D. 塑性

答案: A

753. 机械设计中, 哪种类型的轴承主要用于承受径向负荷 ( )

- A. 推力轴承
- B. 滚动轴承
- C. 滑动轴承
- D. 螺旋轴承

答案: B

754. 以下哪个不是机械设计中的典型失效模式 ( )

- A. 疲劳
- B. 磨损
- C. 腐蚀
- D. 热膨胀

答案: D

755. 机械设计中, 哪个原理可以用于减少滑动摩擦 ( )

- A. 阿基米德原理
- B. 帕斯卡原理
- C. 滚动代替滑动
- D. 杠杆原理



答案：C

756. 在机械设计中，哪种材料通常用于承受高负荷和高压力（ ）

- A. 铝合金
- B. 不锈钢
- C. 塑料
- D. 橡胶

答案：B

757. 机械设计中，哪个参数用来描述材料抵抗断裂的能力（ ）

- A. 屈服强度
- B. 抗拉强度
- C. 硬度
- D. 韧性

答案：B

758. 以下哪种传动方式适用于远距离传递动力（ ）

- A. 齿轮传动
- B. 皮带传动
- C. 链传动
- D. 液压传动

答案：B

759. 机械设计中，哪个因素不影响零件的疲劳寿命（ ）

- A. 材料特性
- B. 表面粗糙度
- C. 工作温度
- D. 零件颜色

答案：D

760. 以下哪种连接方式不属于可拆卸连接（ ）

- A. 焊接
- B. 螺栓连接
- C. 铆接
- D. 螺纹连接

答案：A

761. 在机械设计中，哪个原理用于减少摩擦力（ ）

- A. 增大接触面积
- B. 减小接触面积
- C. 滚动摩擦代替滑动摩擦
- D. 增加润滑

答案：C

762. 机械设计中，哪种类型的弹簧适用于承受大的冲击负荷（ ）

- A. 压缩弹簧
- B. 拉伸弹簧
- C. 扭转弹簧
- D. 剪切弹簧

答案：A

763. 以下哪种材料不适合用于高温环境下的机械零件（ ）

- A. 不锈钢
- B. 铝合金
- C. 钛合金
- D. 塑料

答案: D

764. 在机械设计中, 哪种类型的轴承适用于高速旋转 ( )

- A. 滑动轴承
- B. 滚动轴承
- C. 液体动压轴承
- D. 气体轴承

答案: B

765. 机械设计中, 哪个参数用来描述材料抵抗塑性变形的能力 ( )

- A. 屈服强度
- B. 抗拉强度
- C. 硬度
- D. 韧性

答案: A

766. 以下哪种传动方式适用于传递大扭矩 ( )

- A. 齿轮传动
- B. 皮带传动
- C. 链传动
- D. 液压传动

答案: A

767. 机械设计中, 哪个因素不影响零件的磨损速率 ( )

- A. 负载大小
- B. 滑动速度
- C. 材料硬度
- D. 零件颜色

答案: D

768. 在机械设计中, 哪种类型的轴承适用于承受复合负荷 ( )

- A. 深沟球轴承
- B. 圆锥滚子轴承
- C. 调心滚子轴承
- D. 所有选项都是

答案: D

769. 以下哪种材料通常具有最高的疲劳强度 ( )

- A. 碳钢
- B. 合金钢
- C. 不锈钢
- D. 铝合金

答案: B

770. 机械设计中, 哪个参数用来描述材料抵抗冲击的能力 ( )

- A. 屈服强度
- B. 抗拉强度

- C. 韧性
- D. 硬度

答案: C

771. 以下哪种连接方式适用于承受大的扭矩 ( )

- A. 焊接
- B. 螺栓连接
- C. 铆接
- D. 螺纹连接

答案: D

772. 在机械设计中, 哪种类型的弹簧适用于承受扭转负荷 ( )

- A. 压缩弹簧
- B. 拉伸弹簧
- C. 扭转弹簧
- D. 剪切弹簧

答案: C

773. 机械设计中, 哪种材料通常用于制造滑动轴承 ( )

- A. 碳钢
- B. 合金钢
- C. 铜合金
- D. 塑料

答案: C

774. 以下哪种传动方式适用于变速驱动 ( )

- A. 齿轮传动
- B. 皮带传动
- C. 链传动
- D. 液压传动

答案: A

775. 机械设计中, 哪个参数用来描述材料抵抗腐蚀的能力 ( )

- A. 屈服强度
- B. 抗拉强度
- C. 耐腐蚀性
- D. 硬度

答案: C

776. 在机械设计中, 哪种类型的连接可以提供最大的刚性 ( )

- A. 焊接
- B. 螺栓连接
- C. 铆接
- D. 胶接

答案: A

777. 机械设计中, 哪种类型的轴承主要用于承受轴向负荷 ( )

- A. 深沟球轴承
- B. 圆锥滚子轴承
- C. 推力球轴承
- D. 自调心球轴承

答案: C

778. 在机械设计中, 哪种类型的材料通常用于制造高强度螺栓 ( )
- A. 碳钢
  - B. 合金钢
  - C. 不锈钢
  - D. 铝合金

答案: B

779. 机械设计中, 哪种类型的密封适用于高温环境 ( )
- A. 机械密封
  - B. 填料密封
  - C. 油封
  - D. 所有选项都是

答案: A

780. 以下哪种材料具有最佳的导热性能 ( )
- A. 铜
  - B. 铝
  - C. 钢
  - D. 塑料

答案: A

781. 在机械设计中, 哪种类型的材料通常用于制造齿轮 ( )
- A. 塑料
  - B. 铸铁
  - C. 合金钢
  - D. 橡胶

答案: C

782. 机械设计中, 哪种类型的连接适用于需要经常拆卸的场合 ( )
- A. 焊接
  - B. 螺栓连接
  - C. 铆接
  - D. 胶接

答案: B

783. 在机械设计中, 哪种类型的轴承适用于高精度要求的场合 ( )
- A. 滑动轴承
  - B. 滚动轴承
  - C. 液体动压轴承
  - D. 气体轴承

答案: D

784. 机械设计中, 哪种类型的材料通常用于制造耐腐蚀的零件 ( )
- A. 不锈钢
  - B. 碳钢
  - C. 铝合金
  - D. 塑料

答案: A

785. 以下哪种材料具有最高的比强度 ( )

- A. 碳钢
- B. 合金钢
- C. 铝合金
- D. 钛合金

答案: C

786. 在机械设计中, 哪种类型的轴承适用于低速重载的场合 ( )

- A. 深沟球轴承
- B. 圆锥滚子轴承
- C. 调心滚子轴承
- D. 推力球轴承

答案: C

787. 机械设计中, 哪种类型的材料通常用于制造高温环境下工作的零件 ( )

- A. 不锈钢
- B. 铝合金
- C. 钛合金
- D. 镍合金

答案: D

788. 以下哪种材料具有最佳的耐磨性能 ( )

- A. 碳钢
- B. 合金钢
- C. 陶瓷
- D. 塑料

答案: C

789. 在机械设计中, 哪种类型的轴承适用于高转速的场合 ( )

- A. 滑动轴承
- B. 滚动轴承
- C. 液体动压轴承
- D. 气体轴承

答案: B

790. 机械设计中, 哪种类型的材料通常用于制造低温环境下工作的零件 ( )

- A. 不锈钢
- B. 铝合金
- C. 钛合金
- D. 镍合金

答案: B

791. 以下哪种材料具有最佳的减振性能 ( )

- A. 碳钢
- B. 合金钢
- C. 橡胶
- D. 塑料

答案: C

792. 在机械设计中, 哪种类型的轴承适用于需要自动调心的场合 ( )

- A. 深沟球轴承
- B. 自调心球轴承

- C. 圆锥滚子轴承
- D. 推力球轴承

答案: B

793. 机械设计中, 哪种类型的材料通常用于制造成本敏感的零件 ( )

- A. 不锈钢
- B. 铝合金
- C. 钛合金
- D. 塑料

答案: D

794. 以下哪种材料具有最佳的电绝缘性能 ( )

- A. 碳钢
- B. 合金钢
- C. 橡胶
- D. 塑料

答案: D

795. 在机械设计中, 哪种类型的轴承适用于承受复合负荷的场合 ( )

- A. 深沟球轴承
- B. 圆锥滚子轴承
- C. 调心滚子轴承
- D. 所有选项都是

答案: D

796. 机械设计中, 哪种类型的材料通常用于制造需要良好焊接性能的零件 ( )

- A. 低碳钢
- B. 高碳钢
- C. 不锈钢
- D. 铝合金

答案: A

797. 以下哪种材料具有最佳的热绝缘性能 ( )

- A. 碳钢
- B. 合金钢
- C. 陶瓷
- D. 塑料

答案: D

798. 在机械设计中, 哪种类型的轴承适用于需要低摩擦的场合 ( )

- A. 滑动轴承
- B. 滚动轴承
- C. 液体动压轴承
- D. 气体轴承

答案: D

799. 机械设计中, 哪种类型的材料通常用于制造需要高强度和高韧性的零件 ( )

- A. 碳钢
- B. 合金钢
- C. 不锈钢
- D. 铝合金

答案: B

800. 以下哪种材料具有最佳的耐腐蚀性能 ( )

- A. 碳钢
- B. 合金钢
- C. 不锈钢
- D. 塑料

答案: C

801. 机械传动中, 哪种传动方式允许无限速比 ( )

- A. 齿轮传动
- B. 皮带传动
- C. 链传动
- D. 液压传动

答案: B

802. 在部件装配工艺中, 哪个因素会影响螺栓连接的预紧力 ( )

- A. 螺栓材料
- B. 螺栓长度
- C. 螺栓紧固顺序
- D. 所有选项都是

答案: D

803. 密封部件装配优化知识中, O型圈的主要作用是什么 ( )

- A. 承受高压
- B. 静态密封
- C. 动态密封
- D. 承受高温

答案: B

804. 密封设计原理中, 哪种密封适用于高温环境 ( )

- A. 填料密封
- B. 机械密封
- C. 油封
- D. 所有选项都是

答案: B

805. 电磁屏蔽控制知识中, 哪种材料不适合用作电磁屏蔽 ( )

- A. 导电塑料
- B. 金属箔
- C. 碳纤维
- D. 橡胶

答案: D

806. 电控部件装配工艺知识中, 哪个因素会影响电连接器的可靠性 ( )

- A. 接触电阻
- B. 振动
- C. 温度变化
- D. 所有选项都是

答案: D

807. 在机械传动基础知识中, 哪种传动方式适用于高速传动 ( )

- A. 齿轮传动
- B. 皮带传动
- C. 链传动
- D. 蜗轮蜗杆传动

答案: B

808. 部件装配工艺知识中, 哪个因素会影响轴承的寿命 ( )

- A. 轴承材料
- B. 轴承安装精度
- C. 轴承润滑
- D. 所有选项都是

答案: D

809. 密封部件装配优化知识中, 哪种密封适用于高压环境 ( )

- A. 填料密封
- B. 机械密封
- C. 油封
- D. 所有选项都是

答案: B

810. 密封设计原理中, 哪种密封适用于旋转轴的密封 ( )

- A. 填料密封
- B. 机械密封
- C. 油封
- D. 所有选项都是

答案: B

811. 电磁屏蔽控制知识中, 哪种措施可以减少电磁干扰 ( )

- A. 使用屏蔽电缆
- B. 增加接地
- C. 使用屏蔽室
- D. 所有选项都是

答案: D

812. 电控部件装配工艺知识中, 哪个因素会影响电路板的散热 ( )

- A. 电路板材料
- B. 电路板设计
- C. 散热片的使用
- D. 所有选项都是

答案: D

813. 机械传动基础知识中, 哪种传动方式适用于大扭矩传递 ( )

- A. 齿轮传动
- B. 皮带传动
- C. 链传动
- D. 蜗轮蜗杆传动

答案: A

814. 部件装配工艺知识中, 哪个因素会影响焊接接头的质量 ( )

- A. 焊接电流
- B. 焊接速度



- C. 焊接材料
- D. 所有选项都是

答案: D

815. 密封部件装配优化知识中, 哪种密封适用于低速运动 ( )
- A. 填料密封
  - B. 机械密封
  - C. 油封
  - D. 所有选项都是

答案: C

816. 密封设计原理中, 哪种密封适用于气体介质的密封 ( )
- A. 填料密封
  - B. 机械密封
  - C. 油封
  - D. 所有选项都是

答案: A

817. 电磁屏蔽控制知识中, 哪种材料具有较好的电磁屏蔽效果 ( )
- A. 铝箔
  - B. 塑料
  - C. 橡胶
  - D. 所有选项都是

答案: A

818. 电控部件装配工艺知识中, 哪个因素会影响电机的效率 ( )
- A. 电机材料
  - B. 电机设计
  - C. 电机负载
  - D. 所有选项都是

答案: D

819. 机械传动基础知识中, 哪种传动方式适用于远距离传动 ( )
- A. 齿轮传动
  - B. 皮带传动
  - C. 链传动
  - D. 蜗轮蜗杆传动

答案: B

820. 部件装配工艺知识中, 哪个因素会影响部件的装配精度 ( )
- A. 装配工具
  - B. 装配环境
  - C. 装配技术
  - D. 所有选项都是

答案: D

821. 密封部件装配优化知识中, 哪种密封可以提供双向密封 ( )
- A. 单向密封圈
  - B. 双向密封圈
  - C. 油封
  - D. 填料密封

答案: B

822. 密封设计原理中, 哪种密封适用于高温且高速旋转的轴 ( )
- A. 填料密封
  - B. 机械密封
  - C. 油封
  - D. 所有选项都是

答案: B

823. 电磁屏蔽控制知识中, 哪种措施可以减少电磁波的辐射 ( )
- A. 使用屏蔽材料
  - B. 增加屏蔽距离
  - C. 使用吸收材料
  - D. 所有选项都是

答案: D

824. 电控部件装配工艺知识中, 哪个因素会影响继电器的使用寿命 ( )
- A. 继电器材料
  - B. 继电器负载
  - C. 继电器操作频率
  - D. 所有选项都是

答案: D

825. 机械传动基础知识中, 哪种传动方式适用于需要自锁功能的场合 ( )
- A. 齿轮传动
  - B. 皮带传动
  - C. 链传动
  - D. 蜗轮蜗杆传动

答案: D

826. 在部件装配工艺中, 哪个因素会影响螺纹连接的强度 ( )
- A. 螺纹的直径
  - B. 螺纹的螺距
  - C. 螺纹的精度
  - D. 所有选项都是

答案: D

827. 密封部件装配优化知识中, 哪种密封件适用于高温环境 ( )
- A. 橡胶密封圈
  - B. 聚四氟乙烯密封圈
  - C. 金属密封圈
  - D. 所有选项都是

答案: C

828. 密封设计原理中, 哪种密封设计可以防止液体沿轴向泄漏 ( )
- A. 径向密封
  - B. 轴向密封
  - C. 双向密封
  - D. 所有选项都是

答案: B

829. 电磁屏蔽控制知识中, 哪种措施可以提高电磁屏蔽效能 ( )

- A. 增加屏蔽层厚度
- B. 增加屏蔽层数量
- C. 使用高导电性材料
- D. 所有选项都是

答案: D

830. 电控部件装配工艺知识中, 哪个因素会影响电控部件的电磁兼容性 ( )

- A. 部件布局
- B. 接地方式
- C. 屏蔽措施
- D. 所有选项都是

答案: D

831. 机械传动基础知识中, 哪种传动方式适用于变速传动 ( )

- A. 齿轮传动
- B. 皮带传动
- C. 链传动
- D. 所有选项都是

答案: B

832. 部件装配工艺知识中, 哪个因素会影响焊接质量 ( )

- A. 焊接电流
- B. 焊接速度
- C. 焊接环境
- D. 所有选项都是

答案: D

833. 密封部件装配优化知识中, 哪种密封件适用于高压环境 ( )

- A. 橡胶密封圈
- B. 聚四氟乙烯密封圈
- C. 金属密封圈
- D. 所有选项都是

答案: C

834. 密封设计原理中, 哪种密封设计可以防止气体泄漏 ( )

- A. 径向密封
- B. 轴向密封
- C. 双向密封
- D. 所有选项都是

答案: C

835. 电磁屏蔽控制知识中, 哪种材料具有较好的导电性和导磁性 ( )

- A. 铝
- B. 铜
- C. 铁
- D. 所有选项都是

答案: C

836. 电控部件装配工艺知识中, 哪个因素会影响电控部件的散热效果 ( )

- A. 散热材料
- B. 散热结构

- C. 散热方式
- D. 所有选项都是

答案: D

837. 机械传动基础知识中, 哪种传动方式适用于重载传动 ( )
- A. 齿轮传动
  - B. 皮带传动
  - C. 链传动
  - D. 蜗轮蜗杆传动

答案: A

838. 部件装配工艺知识中, 哪个因素会影响部件的装配顺序 ( )
- A. 部件尺寸
  - B. 部件重量
  - C. 部件功能
  - D. 所有选项都是

答案: D

839. 密封部件装配优化知识中, 哪种密封件适用于高速旋转的轴 ( )
- A. 橡胶密封圈
  - B. 聚四氟乙烯密封圈
  - C. 金属密封圈
  - D. 所有选项都是

答案: C

840. 密封设计原理中, 哪种密封设计可以防止固体颗粒进入 ( )
- A. 径向密封
  - B. 轴向密封
  - C. 双向密封
  - D. 所有选项都是

答案: A

841. 电磁屏蔽控制知识中, 哪种措施可以提高设备的抗静电能力 ( )
- A. 增加接地
  - B. 使用防静电材料
  - C. 增加空气湿度
  - D. 所有选项都是

答案: B

842. 电控部件装配工艺知识中, 哪个因素会影响电控部件的抗干扰能力 ( )
- A. 部件布局
  - B. 屏蔽措施
  - C. 滤波器的使用
  - D. 所有选项都是

答案: D

843. 机械传动基础知识中, 哪种传动方式适用于需要反向传动的场合 ( )
- A. 齿轮传动
  - B. 皮带传动
  - C. 链传动
  - D. 蜗轮蜗杆传动

答案: D

844. 部件装配工艺知识中, 哪个因素会影响部件的装配质量 ( )
- A. 装配环境
  - B. 装配工具
  - C. 操作者技能
  - D. 所有选项都是

答案: D

845. 密封部件装配优化知识中, 哪种密封件适用于高温且高压的环境 ( )
- A. 橡胶密封圈
  - B. 聚四氟乙烯密封圈
  - C. 金属密封圈
  - D. 所有选项都是

答案: C

846. 密封设计原理中, 哪种密封设计可以提供良好的密封效果同时允许轴的微量位移 ( )
- A. 固定密封
  - B. 活动密封
  - C. 机械密封
  - D. 所有选项都是

答案: C

847. 电磁屏蔽控制知识中, 哪种措施可以减少电磁干扰的辐射 ( )
- A. 使用屏蔽电缆
  - B. 使用屏蔽涂料
  - C. 使用屏蔽罩
  - D. 所有选项都是

答案: D

848. 电控部件装配工艺知识中, 哪个因素会影响电控部件的可靠性 ( )
- A. 部件材料
  - B. 部件设计
  - C. 部件制造工艺
  - D. 所有选项都是

答案: D

849. 机械传动基础知识中, 哪种传动方式适用于需要高传动效率的场合 ( )
- A. 齿轮传动
  - B. 皮带传动
  - C. 链传动
  - D. 蜗轮蜗杆传动

答案: A

850. 部件装配工艺知识中, 哪个因素会影响部件的装配速度 ( )
- A. 装配流程
  - B. 装配工具
  - C. 操作者熟练度
  - D. 所有选项都是

答案: D

851. 先期质量策划(AQP)的首要步骤是:

- A. 设计和开发
- B. 项目确定
- C. 风险评估
- D. 过程确认

答案: B

852. 先进制造技术中的快速原型制造主要用于:

- A. 产品概念验证
- B. 生产大规模复制
- C. 产品最终装配
- D. 产品包装设计

答案: A

853. 在机电产品调验工作中, 功能测试的主要目的是:

- A. 确定产品尺寸
- B. 评估产品性能
- C. 检查产品外观
- D. 测量产品重量

答案: B

854. 机电产品性能知识中, 功率因数是衡量电机:

- A. 效率的指标
- B. 稳定性的指标
- C. 负载能力的指标
- D. 启动性能的指标

答案: A

855. 先期质量策划中, 质量功能展开(QFD)用于:

- A. 确定客户需求
- B. 优化产品设计
- C. 减少生产成本
- D. 提高生产效率

答案: B

856. 先进制造技术中的计算机辅助设计(CAD)主要用于:

- A. 产品概念构思
- B. 产品详细设计
- C. 产品测试分析
- D. 产品制造过程

答案: B

857. 机电产品调验工作原理中, 精度测试用于:

- A. 评估产品可靠性
- B. 确定产品位置精度
- C. 检查产品耐用性
- D. 测量产品温度特性

答案: B

858. 机电产品性能知识中, 伺服电机的性能通常由以下哪个参数表征:

- A. 功率
- B. 扭矩

C. 转速

D. 效率

答案：B

859. 先期质量策划中，控制计划是：

A. 产品开发计划的一部分

B. 产品测试计划的一部分

C. 生产过程的一部分

D. 质量保证计划的一部分

答案：D

860. 先进制造技术中的自动化装配线主要用于：

A. 产品原型制造

B. 产品批量生产

C. 产品定制化生产

D. 产品手工装配

答案：B

861. 在机电产品调验工作中，耐久性测试用于评估产品的：

A. 初始性能

B. 长期性能

C. 瞬间性能

D. 间歇性能

答案：B

862. 机电产品性能知识中，液压系统的工作压力是由以下哪个组件决定的：

A. 泵

B. 阀门

C. 油缸

D. 管道

答案：A

863. 先期质量策划中，设计验证是：

A. 产品设计的第一步

B. 产品设计的最后步骤

C. 产品测试的一部分

D. 生产过程的一部分

答案：C

864. 先进制造技术中的机器人技术主要用于：

A. 提高生产效率

B. 降低生产成本

C. 提高产品质量

D. 所有选项都是

答案：D

865. 机电产品调验工作原理中，振动测试用于评估产品的：

A. 稳定性

B. 耐久性

C. 动态性能

D. 静态性能

答案: C

866. 机电产品性能知识中, 传感器的精度是由以下哪个因素决定的:

- A. 材料
- B. 结构
- C. 测量范围
- D. 分辨率

答案: D

867. 先期质量策划中, 过程能力分析用于:

- A. 确定过程是否可控
- B. 确定过程是否经济
- C. 确定过程是否符合标准
- D. 确定过程是否高效

答案: A

868. 先进制造技术中的计算机辅助制造(CAM)主要用于:

- A. 产品设计
- B. 产品测试
- C. 产品制造
- D. 产品销售

答案: C

869. 机电产品调验工作原理中, 温度测试用于评估产品的:

- A. 热稳定性
- B. 热传导性
- C. 热容量
- D. 热效率

答案: A

870. 机电产品性能知识中, 变压器的效率是由以下哪个因素决定的:

- A. 线圈材料
- B. 铁芯材料
- C. 负载条件
- D. 所有选项都是

答案: D

871. 先期质量策划中, 生产件批准过程(PPAP)是:

- A. 产品设计的一部分
- B. 产品测试的一部分
- C. 产品生产的一部分
- D. 产品交付的一部分

答案: C

872. 先进制造技术中的 3D 打印技术主要用于:

- A. 制造复杂形状的零件
- B. 制造大量产品
- C. 制造传统方法难以制造的零件
- D. 所有选项都是

答案: D

873. 机电产品调验工作原理中, 电气安全测试用于确保产品的:



- A. 性能符合标准
- B. 安全使用标准
- C. 耐用性符合标准
- D. 效率符合标准

答案: B

874. 机电产品性能知识中, 伺服系统的动态响应是由以下哪个参数表征的:

- A. 稳态误差
- B. 带宽
- C. 静态误差
- D. 精度

答案: B

875. 先期质量策划中, 潜在失效模式及影响分析(FMEA)用于:

- A. 识别潜在的质量问题
- B. 评估质量问题的影响
- C. 预防质量问题的发生
- D. 所有选项都是

答案: D

876. 先期质量策划中, 控制计划是:

- A. 产品设计的一部分
- B. 过程开发的一部分
- C. 生产准备的一部分
- D. 质量保证的一部分

答案: D

877. 先进制造技术中的自适应控制系统主要用于:

- A. 保持过程稳定性
- B. 提高过程效率
- C. 减少过程成本
- D. 所有选项都是

答案: A

878. 机电产品调验工作原理中, 噪声测试用于评估产品的:

- A. 声学性能
- B. 机械性能
- C. 电气性能
- D. 热性能

答案: A

879. 机电产品性能知识中, 轴承寿命主要由以下哪个因素决定:

- A. 材料质量
- B. 负载条件
- C. 润滑条件
- D. 所有选项都是

答案: D

880. 先期质量策划中, 测量系统分析(MSA)用于:

- A. 确保测量设备的准确性
- B. 提高测量效率

- C. 减少测量成本
- D. 所有选项都是

答案：A

881. 先进制造技术中的柔性制造系统(FMS)主要用于：

- A. 单一产品的大批量生产
- B. 多品种小批量生产
- C. 提高生产自动化程度
- D. 所有选项都是

答案：B

882. 机电产品调验工作原理中，扭矩测试用于评估产品的：

- A. 动力性能
- B. 稳定性能
- C. 耐久性能
- D. 所有选项都是

答案：A

883. 机电产品性能知识中，齿轮箱的效率主要受以下哪个因素的影响：

- A. 齿轮材料
- B. 齿轮设计
- C. 齿轮制造精度
- D. 润滑条件

答案：D

884. 先期质量策划中，设计失败模式及影响分析(DFMEA)用于：

- A. 识别设计阶段的潜在风险
- B. 评估生产过程的风险
- C. 分析最终产品的风险
- D. 所有选项都是

答案：A

885. 先进制造技术中的精益生产主要用于：

- A. 减少浪费
- B. 提高生产效率
- C. 增强生产灵活性
- D. 所有选项都是

答案：D

886. 机电产品调验工作原理中，速度测试用于评估产品的：

- A. 动态响应
- B. 稳定性
- C. 耐久性
- D. 所有选项都是

答案：A

887. 机电产品性能知识中，电磁兼容性(EMC)主要关注产品的：

- A. 安全性能
- B. 环境适应性
- C. 抗干扰能力
- D. 所有选项都是

答案：C

888. 先期质量策划中，过程流程图是：

- A. 产品设计的一部分
- B. 过程开发的一部分
- C. 生产准备的一部分
- D. 质量控制的一部分

答案：B

889. 先进制造技术中的智能制造系统主要用于：

- A. 提高生产效率
- B. 增强生产过程的智能化
- C. 减少生产成本
- D. 所有选项都是

答案：D

890. 机电产品调验工作原理中，负载测试用于评估产品的：

- A. 动力性能
- B. 稳定性能
- C. 耐久性能
- D. 所有选项都是

答案：D

891. 机电产品性能知识中，阀门的密封性能主要由以下哪个因素决定：

- A. 材料选择
- B. 结构设计
- C. 制造精度
- D. 所有选项都是

答案：D

892. 先期质量策划中，产品保证计划是：

- A. 产品设计的一部分
- B. 过程开发的一部分
- C. 生产准备的一部分
- D. 质量控制的一部分

答案：D

893. 先进制造技术中的模块化设计主要用于：

- A. 简化产品组装
- B. 降低产品成本
- C. 提高产品可维护性
- D. 所有选项都是

答案：D

894. 机电产品调验工作原理中，响应时间测试用于评估产品的：

- A. 动态性能
- B. 稳定性能
- C. 耐久性能
- D. 精度性能

答案：A

895. 机电产品性能知识中，直线电机的性能主要由以下哪个参数表征：

- A. 推力
- B. 速度
- C. 加速度
- D. 所有选项都是

答案: D

896. 先期质量策划中, 产品特性矩阵用于:

- A. 识别关键产品特性
- B. 确定产品特性的重要性
- C. 优化产品设计
- D. 所有选项都是

答案: D

897. 先进制造技术中的纳米制造主要用于:

- A. 制造超小型设备
- B. 提高材料性能
- C. 制造高精度产品
- D. 所有选项都是

答案: D

898. 机电产品调验工作原理中, 精度测试用于评估产品的:

- A. 尺寸准确性
- B. 形状准确性
- C. 位置准确性
- D. 所有选项都是

答案: D

899. 机电产品性能知识中, 液压系统的流量是由以下哪个组件控制的:

- A. 泵
- B. 阀门
- C. 油缸
- D. 管道

答案: B

900. 先期质量策划中, 生产过程确认是:

- A. 产品设计的一部分
- B. 过程开发的一部分
- C. 生产准备的一部分
- D. 质量控制的一部分

答案: C

901. 一个电阻为  $100\ \Omega$  的电阻器在电路中消耗的功率是  $1\text{W}$ , 那么通过它的电流是多少 ( )

- A.  $10\text{A}$
- B.  $5\text{A}$
- C.  $0.01\text{A}$
- D.  $0.1\text{A}$

答案: B

902. 二极管的主要功能是什么 ( )

- A. 放大信号
- B. 整流

- C. 稳压
- D. 滤波

答案: B

903. 在 RC 电路中, 时间常数  $\tau$  是什么的乘积 ( )

- A. 电压和电流
- B. 电压和电容
- C. 电阻和电容
- D. 电流和电阻

答案: C

904. 稳压二极管的主要用途是什么 ( )

- A. 整流
- B. 开关
- C. 稳压
- D. 放大

答案: C

905. 运算放大器的输入端通常是什么类型的 ( )

- A. 高阻抗
- B. 低阻抗
- C. 短路
- D. 开路

答案: A

906. 逻辑门中, 与门 (AND) 的输出为高电平时, 输入必须是什么 ( )

- A. 全部为高电平
- B. 至少一个为高电平
- C. 全部为低电平
- D. 至少一个为低电平

答案: A

907. 在模拟电路中, 放大器的主要功能是什么 ( )

- A. 提升信号的幅度
- B. 改变信号的频率
- C. 整流信号
- D. 滤除噪声

答案: A

908. 一个电容为  $10 \mu\text{F}$  的电容器在电路中存储的电荷是  $100\text{mC}$ , 那么其电压是多少 ( )

- A. 10V
- B. 5V
- C. 1V
- D. 0.1V

答案: B

909. 晶体三极管主要工作在哪个区域以实现放大作用 ( )

- A. 截止区
- B. 饱和区
- C. 放大区
- D. 反向偏置区

答案：C

910. 一个电路的频率为 60Hz，其周期是多少（ ）
- A. 1/60 秒
  - B. 1/100 秒
  - C. 16.67 毫秒
  - D. 1 秒

答案：C

911. 电磁兼容性（EMC）测试的主要目的是什么（ ）
- A. 测量电路的功率
  - B. 确保电子设备不会产生或接收干扰
  - C. 测试电路的稳定性
  - D. 测量信号的频率

答案：B

912. 串联电路中总电阻与各部分电阻的关系是什么（ ）
- A. 等于各部分电阻之和
  - B. 等于各部分电阻之差
  - C. 等于各部分电阻的乘积
  - D. 与各部分电阻无关

答案：A

913. 电路中，电压跟随器的输出阻抗是什么（ ）
- A. 非常高
  - B. 非常低
  - C. 中等
  - D. 无法确定

答案：B

914. 在数字电路中，触发器的主要功能是什么（ ）
- A. 存储一位二进制数
  - B. 放大信号
  - C. 整流信号
  - D. 稳压

答案：A

915. 电流源的输出阻抗是什么（ ）
- A. 非常高
  - B. 非常低
  - C. 中等
  - D. 无法确定

答案：A

916. 一个电路的增益为 10dB，那么其放大倍数是多少（ ）
- A. 0.1
  - B. 1
  - C. 10
  - D. 100

答案：A

917. 电磁干扰（EMI）的主要来源是什么（ ）

- A. 电源线
- B. 信号线
- C. 地线
- D. 所有选项都是

答案: D

918. 电路中, 带宽指的是什么 ( )

- A. 电路的宽度
- B. 电路可以放大信号的频率范围
- C. 电路的阻抗
- D. 电路的增益

答案: B

919. 在数字电路中, 异或门 (XOR) 的输出为高电平时, 输入必须满足什么条件 ( )

- A. 全部为高电平
- B. 全部为低电平
- C. 输入不同电平
- D. 输入至少一个为高电平

答案: C

920. 电路中, 电源的内阻对电路性能的影响是什么 ( )

- A. 减小电路的增益
- B. 提高电路的稳定性
- C. 增加电路的噪声
- D. 以上都是

答案: D

921. 在电子电路中, 滤波器的作用是什么 ( )

- A. 放大信号
- B. 整流信号
- C. 稳压
- D. 去除不需要的频率成分

答案: D

922. 一个电路的负载阻抗为  $50\ \Omega$ , 电源电压为 10V, 那么其最大输出功率是多少 ( )

- A. 2W
- B. 20W
- C. 100W
- D. 200W

答案: B

923. 在电子电路中, 差分放大器的主要作用是什么 ( )

- A. 放大差模信号
- B. 放大共模信号
- C. 抑制共模信号
- D. 以上都是

答案: A

924. 电路中, 共模抑制比 (CMRR) 用来衡量什么 ( )

- A. 差模信号的放大倍数
- B. 共模信号的放大倍数

- C. 差模信号与共模信号的抑制比
- D. 信号的稳定性

答案: C

925. 在电子电路中, 负反馈的作用是什么 ( )

- A. 增加电路的增益
- B. 提高电路的稳定性
- C. 减少电路的噪声
- D. 以上都是

答案: B

926. 电路中, 波特图是用来描述什么的 ( )

- A. 电路的频率响应
- B. 电路的电压增益
- C. 电路的电流增益
- D. 电路的阻抗

答案: A

927. 在电子电路中, 锁相环 (PLL) 的主要作用是什么 ( )

- A. 产生稳定的时钟信号
- B. 放大信号
- C. 整流信号
- D. 滤波信号

答案: A

928. 电路中, 阻抗匹配的主要目的是什么 ( )

- A. 增加电路的增益
- B. 提高电路的功率传输效率
- C. 减少电路的噪声
- D. 以上都是

答案: B

929. 在电子电路中, 微带线是一种什么样的传输线 ( )

- A. 用于高频信号传输
- B. 用于低频信号传输
- C. 用于直流信号传输
- D. 以上都是

答案: A

930. 电路中, 串联谐振频率是电路中什么达到最大值时的频率 ( )

- A. 电流
- B. 电压
- C. 阻抗
- D. 功率

答案: A

931. 在电子电路中, 场效应管 (FET) 通常用于什么 ( )

- A. 放大信号
- B. 整流信号
- C. 稳压
- D. 以上都是



答案: A

932. 电路中, 功率因数 (PF) 用来衡量什么 ( )
- A. 电路的功率消耗
  - B. 电路的功率效率
  - C. 电路的电压与电流之间的相位差
  - D. 电路的阻抗

答案: C

933. 在电子电路中, 电流镜的主要作用是什么 ( )
- A. 放大电流
  - B. 复制电流
  - C. 整流电流
  - D. 滤波电流

答案: B

934. 电路中, 互感现象主要发生在什么元件之间 ( )
- A. 电阻器
  - B. 电容器
  - C. 电感器
  - D. 所有选项都是

答案: C

935. 在电子电路中, 信号的上升时间是指什么 ( )
- A. 信号从 0 上升到最大值的时间
  - B. 信号从最小值上升到最大值的时间
  - C. 信号从 10% 上升到 90% 的时间
  - D. 信号从 0 上升到 90% 的时间

答案: C

936. 电路中, 正反馈与负反馈的区别是什么 ( )
- A. 正反馈增加电路的稳定性
  - B. 负反馈增加电路的增益
  - C. 正反馈减少电路的增益
  - D. 正反馈导致电路振荡

答案: D

937. 在电子电路中, 逻辑探针用于什么 ( )
- A. 测量电压
  - B. 测量电流
  - C. 测量逻辑信号的状态
  - D. 测量频率

答案: C

938. 电路中, 什么是增益带宽积 (GBW) ( )
- A. 放大器的增益与带宽的乘积
  - B. 放大器的增益与电阻的乘积
  - C. 放大器的带宽与电容的乘积
  - D. 放大器的增益与电感的乘积

答案: A

939. 在电子电路中, 数字多用表主要用于测量什么 ( )

- A. 电压、电流和电阻
- B. 功率和频率
- C. 电容和电感
- D. 所有选项都是

答案: A

940. 电路中, 什么是截止频率 ( )
- A. 放大器增益下降 3dB 的频率
  - B. 放大器增益达到最大值的频率
  - C. 放大器增益为零的频率
  - D. 放大器增益为负的频率

答案: A

941. 在电子电路中, 什么是脉冲宽度调制 (PWM) ( )
- A. 调制脉冲的幅度
  - B. 调制脉冲的周期
  - C. 调制脉冲的占空比
  - D. 调制脉冲的频率

答案: C

942. 电路中, 什么是串联稳压器 ( )
- A. 一种可以提供稳定电压的电路
  - B. 一种可以提供稳定电流的电路
  - C. 一种可以提供稳定功率的电路
  - D. 一种可以提供稳定阻抗的电路

答案: A

943. 在电子电路中, 什么是差模信号 ( )
- A. 两个输入信号的差值
  - B. 两个输入信号的和
  - C. 两个输入信号的平均值
  - D. 两个输入信号的乘积

答案: A

944. 电路中, 什么是共模信号 ( )
- A. 两个输入信号的差值
  - B. 两个输入信号的和
  - C. 两个输入信号的公共模式
  - D. 两个输入信号的互补模式

答案: C

945. 在电子电路中, 什么是串扰 ( )
- A. 信号线之间的相互干扰
  - B. 电源线之间的相互干扰
  - C. 地线之间的相互干扰
  - D. 所有选项都是

答案: A

946. 电路中, 什么是信号的衰减 ( )
- A. 信号的频率降低
  - B. 信号的幅度减小

- C. 信号的相位变化
- D. 信号的失真

答案: B

947. 在电子电路中, 什么是积分器 ( )

- A. 产生时间延迟的电路
- B. 产生信号积分的电路
- C. 产生信号微分的电路
- D. 产生信号放大的电路

答案: B

948. 电路中, 什么是微分器 ( )

- A. 产生时间延迟的电路
- B. 产生信号积分的电路
- C. 产生信号微分的电路
- D. 产生信号放大的电路

答案: C

949. 在电子电路中, 什么是阻抗匹配 ( )

- A. 使电路的输入阻抗与负载阻抗相等
- B. 使电路的输入阻抗与电源阻抗相等
- C. 使电路的负载阻抗与电源阻抗相等
- D. 使电路的输入阻抗最小

答案: A

950. 电路中, 什么是电磁兼容性 (EMC) ( )

- A. 电路对电磁干扰的抵抗能力
- B. 电路产生电磁干扰的能力
- C. 电路对静电放电的抵抗能力
- D. 电路的电磁辐射能力

答案: A

951. 家电产品设计中, 通常不考虑以下哪个因素 ( )

- A. 用户操作习惯
- B. 产品维护周期
- C. 产品颜色搭配
- D. 产品制造工艺

答案: C

952. 在家电设计更改流程中, 哪个步骤是在设计评审之前 ( )

- A. 问题识别
- B. 风险评估
- C. 技术评估
- D. 成本效益分析

答案: A

953. 家电产品设计中, 哪种测试不是评估产品用户体验的标准测试 ( )

- A. 可用性测试
- B. 功能性测试
- C. 耐用性测试
- D. 人体工程学测试

答案：C

954. 家电设计更改的规范中，以下哪个不是设计更改的潜在好处（ ）

- A. 提升产品可靠性
- B. 降低产品成本
- C. 减少产品功能
- D. 增强产品竞争力

答案：C

955. 家电产品设计中，哪种因素不是决定产品能效等级的因素（ ）

- A. 产品使用频率
- B. 产品功率消耗
- C. 产品保温性能
- D. 产品销售价格

答案：D

956. 在家电设计更改流程中，哪个步骤负责评估设计更改对供应链的影响（ ）

- A. 供应链影响评估
- B. 风险评估
- C. 技术评估
- D. 成本效益分析

答案：A

957. 家电产品设计中，哪种测试不是评估产品环保性能的标准测试（ ）

- A. 有害物质检测
- B. 能耗效率测试
- C. 回收可能性评估
- D. 产品重量测试

答案：D

958. 家电设计更改的规范要求中，以下哪个不是设计更改的基本原则（ ）

- A. 保证产品安全
- B. 满足市场需求
- C. 延长产品寿命
- D. 降低产品性能

答案：D

959. 家电产品设计中，哪种因素不是决定产品运输便利性的因素（ ）

- A. 产品尺寸
- B. 产品重量
- C. 产品包装设计
- D. 产品颜色

答案：D

960. 在家电设计更改流程中，哪个步骤负责评估设计更改对客户服务的的影响（ ）

- A. 客户服务影响评估
- B. 风险评估
- C. 技术评估
- D. 成本效益分析

答案：A

961. 家电产品设计中，哪种测试不是评估产品性能的标准测试（ ）

- A. 效率测试
- B. 功率测试
- C. 外观设计测试
- D. 耐久性测试

答案：C

962. 家电设计更改的规范中，以下哪个不是设计更改的潜在风险（ ）

- A. 影响品牌形象
- B. 降低生产效率
- C. 提升客户满意度
- D. 增加售后服务成本

答案：C

963. 家电产品设计中，哪种因素不是决定产品易用性的因素（ ）

- A. 用户界面设计
- B. 产品尺寸
- C. 产品重量
- D. 产品声音

答案：D

964. 在家电设计更改流程中，哪个步骤负责确保设计更改符合法规要求（ ）

- A. 设计评审
- B. 法规合规性检查
- C. 风险评估
- D. 成本效益分析

答案：B

965. 家电产品设计中，哪种测试不是评估产品安全性的标准测试（ ）

- A. 电气安全测试
- B. 机械安全测试
- C. 辐射安全测试
- D. 产品颜色测试

答案：D

966. 家电设计更改的规范要求中，以下哪个不是设计更改的影响因素（ ）

- A. 供应链稳定性
- B. 制造工艺
- C. 产品定价策略
- D. 产品重量

答案：C

967. 家电产品设计中，哪种因素不是决定产品维修性的因素（ ）

- A. 模块化程度
- B. 零件标准化
- C. 产品颜色
- D. 维修信息的可获取性

答案：C

968. 在家电设计更改流程中，哪个步骤负责评估设计更改对市场定位的影响（ ）

- A. 市场定位影响评估
- B. 风险评估

- C. 技术评估
- D. 成本效益分析

答案: A

969. 家电产品设计中, 哪种测试不是评估产品耐用性的标准测试 ( )
- A. 跌落测试
  - B. 振动测试
  - C. 颜色测试
  - D. 温度循环测试

答案: C

970. 家电设计更改的规范中, 以下哪个不是设计更改的潜在好处 ( )
- A. 提升产品可靠性
  - B. 降低产品质量
  - C. 增强产品竞争力
  - D. 改善用户体验

答案: B

971. 家电产品设计中, 哪种因素不是决定产品环境适应性的因素 ( )
- A. 材料耐温性
  - B. 材料耐湿性
  - C. 产品颜色
  - D. 设计形状

答案: C

972. 在家电设计更改流程中, 哪个步骤负责评估设计更改对产品质量的影响 ( )
- A. 产品质量影响评估
  - B. 风险评估
  - C. 技术评估
  - D. 成本效益分析

答案: A

973. 家电产品设计中, 哪种测试不是评估产品性能的标准测试 ( )
- A. 效率测试
  - B. 功率测试
  - C. 外观设计测试
  - D. 耐久性测试

答案: C

974. 家电设计更改的规范要求中, 以下哪个不是设计更改的基本原则 ( )
- A. 保证产品安全
  - B. 满足市场需求
  - C. 忽视成本因素
  - D. 遵守法规标准

答案: C

975. 家电产品设计中, 哪种因素不是决定产品易用性的因素 ( )
- A. 用户界面设计
  - B. 产品尺寸
  - C. 产品重量
  - D. 产品声音

答案: D

976. 在家电设计更改流程中, 哪个步骤负责评估设计更改对生产成本的影响 ( )
- A. 生产成本影响评估
  - B. 风险评估
  - C. 技术评估
  - D. 成本效益分析

答案: D

977. 家电产品设计中, 哪种测试不是评估产品环保性能的标准测试 ( )
- A. 有害物质检测
  - B. 能耗效率测试
  - C. 回收可能性评估
  - D. 产品重量测试

答案: D

978. 家电设计更改的规范中, 以下哪个不是设计更改的潜在风险 ( )
- A. 影响产品一致性
  - B. 增加生产成本
  - C. 减少产品功能
  - D. 提高市场竞争力

答案: C

979. 家电产品设计中, 哪种因素不是决定产品运输便利性的因素 ( )
- A. 产品尺寸
  - B. 产品重量
  - C. 产品包装设计
  - D. 产品销售价格

答案: D

980. 在家电设计更改流程中, 哪个步骤负责评估设计更改对售后服务的影响 ( )
- A. 售后服务影响评估
  - B. 风险评估
  - C. 技术评估
  - D. 成本效益分析

答案: A

981. 家电产品设计中, 哪种测试不是评估产品用户体验的标准测试 ( )
- A. 可用性测试
  - B. 功能性测试
  - C. 耐用性测试
  - D. 人体工程学测试

答案: C

982. 家电设计更改的规范要求中, 以下哪个不是设计更改的影响因素 ( )
- A. 供应链稳定性
  - B. 制造工艺
  - C. 产品定价策略
  - D. 产品重量

答案: C

983. 家电产品设计中, 哪种因素不是决定产品能效的因素 ( )

- A. 设备使用频率
- B. 设备功率消耗
- C. 设备保温性能
- D. 设备颜色

答案: D

984. 在家电设计更改流程中, 哪个步骤负责确保设计更改的实施 ( )
- A. 设计评审
  - B. 风险评估
  - C. 实施与监控
  - D. 成本效益分析

答案: C

985. 家电产品设计中, 哪种测试不是评估产品可靠性的标准测试 ( )
- A. 寿命测试
  - B. 性能测试
  - C. 外观检查
  - D. 环境适应性测试

答案: C

986. 家电设计更改的规范中, 以下哪个不是设计更改的潜在好处 ( )
- A. 提升产品可靠性
  - B. 降低产品质量
  - C. 增强产品竞争力
  - D. 改善用户体验

答案: B

987. 家电产品设计中, 哪种因素不是决定产品易用性的因素 ( )
- A. 用户界面设计
  - B. 产品尺寸
  - C. 产品重量
  - D. 产品声音

答案: D

988. 在家电设计更改流程中, 哪个步骤负责评估设计更改对客户满意度的影响 ( )
- A. 客户满意度影响评估
  - B. 风险评估
  - C. 技术评估
  - D. 成本效益分析

答案: A

989. 家电产品设计中, 哪种测试不是评估产品耐用性的标准测试 ( )
- A. 跌落测试
  - B. 振动测试
  - C. 颜色测试
  - D. 温度循环测试

答案: C

990. 家电设计更改的规范要求中, 以下哪个不是设计更改的基本原则 ( )
- A. 保证产品安全
  - B. 满足市场需求



- C. 忽视成本因素
  - D. 遵守法规标准
- 答案：C

991. 电气自动化系统中，PLC 代表什么（ ）

- A. 功率限制组件
- B. 可编程逻辑控制器
- C. 电源线路控制
- D. 被动线性组件

答案：B

992. 伺服电机与步进电机的主要区别在于：

- A. 价格
- B. 控制精度
- C. 能耗
- D. 体积

答案：B

993. 在自动化技术中，以下哪个是开环控制系统的特点（ ）

- A. 有反馈环节
- B. 系统稳定性高
- C. 结构简单
- D. 控制精度高

答案：C

994. 电气自动化中，传感器的主要作用是：

- A. 放大信号
- B. 转换信号
- C. 产生信号
- D. 滤波信号

答案：B

995. 以下哪个是自动化技术中常用的人机界面（ ）

- A. 传感器
- B. 触摸屏
- C. 伺服电机
- D. PLC

答案：B

996. 电气自动化系统中，执行器的作用是：

- A. 接收控制信号
- B. 转换能量形式
- C. 发出控制信号
- D. 反馈系统状态

答案：B

997. 在自动化技术中，闭环控制系统的反馈是为了：

- A. 增加系统复杂性
- B. 提高控制精度
- C. 降低系统成本
- D. 减少能源消耗

答案: B

998. 电气自动化中, 以下哪个设备主要用于过载保护 ( )

- A. 继电器
- B. 熔断器
- C. 接触器
- D. 断路器

答案: B

999. 可编程逻辑控制器 (PLC) 的主要功能是:

- A. 显示数据
- B. 逻辑控制
- C. 放大信号
- D. 测量数据

答案: B

1000. 在自动化技术中, 以下哪个参数与系统的稳定性无关 ( )

- A. 增益
- B. 相位
- C. 频率
- D. 电阻

答案: D

1001. 电气自动化系统中, 模拟信号转数字信号的过程称为:

- A. 滤波
- B. 采样
- C. 量化
- D. 模数转换

答案: D

1002. 以下哪个是自动化技术中 PID 控制器的特点 ( )

- A. 只能用于开环控制
- B. 可以在线调整参数
- C. 只适用于数字信号
- D. 不能实现积分作用

答案: B

1003. 电气自动化中, 以下哪个设备主要用于逻辑控制 ( )

- A. 传感器
- B. PLC
- C. 伺服电机
- D. 断路器

答案: B

1004. 在自动化技术中, 以下哪个不是传感器的类型 ( )

- A. 温度传感器
- B. 压力传感器

- C. 声音传感器
- D. 电阻传感器

答案: D

1005. 电气自动化系统中, DCS 代表什么 ( )

- A. 分布式控制系统
- B. 数据采集系统
- C. 数字控制系统
- D. 驱动控制系统

答案: A

1006. 以下哪个是自动化技术中执行器的类型 ( )

- A. 电磁阀
- B. 传感器
- C. 继电器
- D. PLC

答案: A

1007. 在自动化技术中, 以下哪个参数与系统的响应速度无关 ( )

- A. 延迟时间
- B. 增益
- C. 截止频率
- D. 相位裕度

答案: D

1008. 电气自动化中, 以下哪个设备主要用于信号放大 ( )

- A. 传感器
- B. 放大器
- C. 执行器
- D. PLC

答案: B

1009. 在自动化技术中, 以下哪个不是控制系统的类型 ( )

- A. 开环控制
- B. 闭环控制
- C. 线性控制
- D. 非线性控制

答案: C

1010. 电气自动化系统中, 以下哪个设备主要用于信号的逻辑处理 ( )

- A. 传感器
- B. PLC
- C. 伺服电机
- D. 断路器

答案: B

1011. 产品检测设计知识中, 哪个因素不是测试计划的一部分 ( )

- A. 测试目的
- B. 测试范围
- C. 测试设备
- D. 产品成本

答案: D

1012. 设备故障维修知识中, 以下哪个不是故障诊断的常用方法 ( )
- A. 振动分析
  - B. 红外热成像
  - C. 声音检测
  - D. 重量测量

答案: D

1013. 产品检测知识中, 哪个参数不是通过硬度测试来评估的 ( )
- A. 材料硬度
  - B. 材料弹性
  - C. 材料塑性
  - D. 材料韧性

答案: B

1014. 产品检测设计知识中, 哪个因素不是确定测试频率的依据 ( )
- A. 产品的重要性
  - B. 产品的风险等级
  - C. 产品的使用频率
  - D. 产品的制造成本

答案: D

1015. 设备故障维修知识中, 以下哪个不是预防性维护的组成部分 ( )
- A. 定期检查
  - B. 定期更换部件
  - C. 定期清洁
  - D. 故障发生后的维修

答案: D

1016. 产品检测知识中, 哪个测试不是用于评估产品的耐久性 ( )
- A. 循环加载测试
  - B. 长期稳定性测试
  - C. 瞬间冲击测试
  - D. 温度循环测试

答案: C

1017. 产品检测设计知识中, 哪个因素不是测试设备选择的依据 ( )
- A. 设备的精度
  - B. 设备的可靠性
  - C. 设备的价格
  - D. 设备的操作复杂性

答案: D

1018. 设备故障维修知识中, 以下哪个不是设备故障的常见原因 ( )
- A. 设备老化
  - B. 操作不当
  - C. 设计缺陷
  - D. 良好的维护

答案: D

1019. 产品检测知识中, 哪个测试不是用于评估产品的安全性 ( )

- A. 电气安全测试
- B. 机械安全测试
- C. 性能稳定性测试
- D. 环境适应性测试

答案: C

1020. 产品检测设计知识中, 哪个指标不是测试结果准确性的衡量标准 ( )

- A. 测试重复性
- B. 测试再现性
- C. 测试一致性
- D. 测试速度

答案: D

1021. 设备故障维修知识中, 以下哪个不是维修工作的安全要求 ( )

- A. 使用合适的工具
- B. 遵守维修流程
- C. 确保设备断电
- D. 快速完成维修

答案: D

1022. 产品检测知识中, 哪个参数不是通过拉伸测试来评估的 ( )

- A. 抗拉强度
- B. 断裂伸长率
- C. 弹性模量
- D. 耐化学腐蚀性

答案: D

1023. 产品检测设计知识中, 哪个因素不是测试环境控制的内容 ( )

- A. 温度
- B. 湿度
- C. 光照
- D. 测试人员数量

答案: D

1024. 设备故障维修知识中, 以下哪个不是维修后的验证步骤 ( )

- A. 功能测试
- B. 性能测试
- C. 安全测试
- D. 外观检查

答案: D

1025. 产品检测知识中, 哪个测试不是用于评估产品的光学性能 ( )

- A. 透光率测试
- B. 雾度测试
- C. 色彩饱和度测试
- D. 折射率测试

答案: C

1026. 产品检测设计知识中, 哪个指标不是测试数据分析的重要内容 ( )

- A. 数据趋势
- B. 数据分布

- C. 数据的时效性
- D. 数据的一致性

答案: C

1027. 设备故障维修知识中, 以下哪个不是设备故障分析的方法 ( )

- A. 根本原因分析(RCA)
- B. 故障树分析(FTA)
- C. 描述性分析
- D. 5 Why 分析

答案: C

1028. 产品检测知识中, 哪个测试不是用于评估产品的热性能 ( )

- A. 热导率测试
- B. 热膨胀测试
- C. 热稳定性测试
- D. 拉伸强度测试

答案: D

1029. 产品检测设计知识中, 哪个因素不是测试方法开发的关键 ( )

- A. 测试原理
- B. 测试条件
- C. 测试速度
- D. 测试设备的可用性

答案: C

1030. 设备故障维修知识中, 以下哪个不是设备维护的常规任务 ( )

- A. 清洁设备
- B. 检查润滑状况
- C. 更换磨损部件
- D. 增加设备的工作负荷

答案: D

1031. 产品检测知识中, 哪个参数不是通过冲击测试来评估的 ( )

- A. 冲击强度
- B. 韧性
- C. 硬度
- D. 弹性模量

答案: D

1032. 产品检测设计知识中, 哪个指标不是测试设备性能评估的内容 ( )

- A. 设备的精度
- B. 设备的稳定性
- C. 设备的耐用性
- D. 设备的重量

答案: D

1033. 设备故障维修知识中, 以下哪个不是设备故障的潜在原因 ( )

- A. 材料缺陷
- B. 设计不当
- C. 操作错误
- D. 良好的维护实践

答案: D

1034. 产品检测知识中, 哪个测试不是用于评估产品的耐化学性能 ( )

- A. 耐酸测试
- B. 耐碱测试
- C. 耐盐雾测试
- D. 耐压测试

答案: D

1035. 产品检测设计知识中, 哪个因素不是测试结果评估的依据 ( )

- A. 测试数据的准确性
- B. 测试数据的一致性
- C. 测试数据的可重复性
- D. 测试数据的存储容量

答案: D

1036. 设备故障维修知识中, 以下哪个不是故障维修的基本原则 ( )

- A. 先外后内
- B. 先简后繁
- C. 先软后硬
- D. 先维修后更换

答案: D

1037. 产品检测知识中, 哪个测试不是用于评估产品的外观质量 ( )

- A. 视觉检查
- B. 尺寸测量
- C. 表面粗糙度测试
- D. 颜色对比

答案: B

1038. 产品检测设计知识中, 以下哪个不是测试报告的内容 ( )

- A. 测试目的
- B. 测试方法
- C. 测试设备
- D. 测试成本

答案: D

1039. 设备故障维修知识中, 以下哪个不是维修记录的内容 ( )

- A. 故障现象
- B. 维修措施
- C. 维修人员
- D. 维修预算

答案: D

1040. 产品检测知识中, 哪个参数不是通过盐雾测试来评估的 ( )

- A. 腐蚀速率
- B. 腐蚀深度
- C. 腐蚀面积
- D. 腐蚀类型

答案: D

1041. 产品检测设计知识中, 以下哪个不是测试环境控制的内容 ( )

- A. 温度
- B. 湿度
- C. 气压
- D. 测试人员数量

答案: D

1042. 设备故障维修知识中, 以下哪个不是设备维护的目的 ( )

- A. 延长设备寿命
- B. 提高设备性能
- C. 减少设备故障
- D. 降低设备成本

答案: D

1043. 产品检测知识中, 哪个测试不是用于评估产品的电学性能 ( )

- A. 电阻测试
- B. 电容测试
- C. 电感测试
- D. 重量测试

答案: D

1044. 产品检测设计知识中, 以下哪个不是测试设备校准的目的 ( )

- A. 确保测试结果的准确性
- B. 符合法规要求
- C. 延长设备使用寿命
- D. 提高设备使用效率

答案: C

1045. 设备故障维修知识中, 以下哪个不是设备故障分析的方法 ( )

- A. 根本原因分析(RCA)
- B. 故障树分析(FTA)
- C. 描述性分析
- D. 5 Why 分析

答案: C

1046. 产品检测知识中, 哪个测试不是用于评估产品的机械性能 ( )

- A. 拉伸测试
- B. 压缩测试
- C. 弯曲测试
- D. 颜色测试

答案: D

1047. 产品检测设计知识中, 以下哪个不是测试方法开发的关键 ( )

- A. 测试原理
- B. 测试条件
- C. 测试速度
- D. 测试的可重复性

答案: C

1048. 设备故障维修知识中, 以下哪个不是维修后的验证步骤 ( )

- A. 功能测试
- B. 性能测试



- C. 安全测试
- D. 外观检查

答案：D

1049. 产品检测知识中，哪个参数不是通过冲击测试来评估的（ ）
- A. 冲击强度
  - B. 韧性
  - C. 硬度
  - D. 弹性模量

答案：D

1050. 产品检测设计知识中，哪个因素不是测试结果评估的依据（ ）
- A. 测试数据的准确性
  - B. 测试数据的一致性
  - C. 测试数据的可重复性
  - D. 测试数据的存储容量

答案：D

1051. 设备故障维修知识中，以下哪个不是设备故障的潜在原因（ ）
- A. 材料缺陷
  - B. 设计不当
  - C. 操作错误
  - D. 良好的维护实践

答案：D

1052. 产品检测知识中，哪个测试不是用于评估产品的耐化学性能（ ）
- A. 耐酸测试
  - B. 耐碱测试
  - C. 耐盐雾测试
  - D. 耐压测试

答案：D

1053. 产品检测设计知识中，哪个因素不是测试方法开发的关键（ ）
- A. 测试原理
  - B. 测试条件
  - C. 测试速度
  - D. 测试的可重复性

答案：C

1054. 设备故障维修知识中，以下哪个不是设备维护的常规任务（ ）
- A. 清洁设备
  - B. 检查润滑状况
  - C. 更换磨损部件
  - D. 增加设备的工作负荷

答案：D

1055. 产品检测知识中，哪个参数不是通过盐雾测试来评估的（ ）
- A. 腐蚀速率
  - B. 腐蚀深度
  - C. 腐蚀面积
  - D. 腐蚀类型

答案：D

1056. 产品检测设计知识中，以下哪个不是测试环境控制的内容（ ）
- A. 温度
  - B. 湿度
  - C. 气压
  - D. 测试人员数量

答案：D

1057. 设备故障维修知识中，以下哪个不是维修记录的内容（ ）
- A. 故障现象
  - B. 维修措施
  - C. 维修人员
  - D. 维修预算

答案：D

1058. 产品检测知识中，以下哪个测试不是用于评估产品的光学性能（ ）
- A. 透光率测试
  - B. 雾度测试
  - C. 色彩饱和度测试
  - D. 折射率测试

答案：C

1059. 产品检测设计知识中，以下哪个指标不是测试数据分析的重要内容（ ）
- A. 数据趋势
  - B. 数据分布
  - C. 数据的时效性
  - D. 数据的一致性

答案：C

1060. 设备故障维修知识中，以下哪个不是设备故障分析的方法（ ）
- A. 根本原因分析(RCA)
  - B. 故障树分析(FTA)
  - C. 描述性分析
  - D. 5 Why 分析

答案：C

1061. 家电产品设计中，人体工程学主要关注什么（ ）
- A. 产品外观
  - B. 产品成本
  - C. 用户体验
  - D. 材料选择

答案：C

1062. 在家电产品设计中，哪种因素不是决定产品尺寸的因素（ ）
- A. 用户需求
  - B. 安全标准
  - C. 功能需求
  - D. 颜色搭配

答案：D

1063. 家电产品设计更改的流程通常不包括以下哪个步骤（ ）

- A. 问题识别
- B. 设计评审
- C. 制造可行性分析
- D. 直接实施

答案: D

1064. 家电产品设计中, 哪种测试不是安全性能测试 ( )

- A. 耐压测试
- B. 泄漏电流测试
- C. 稳定性测试
- D. 耐用性测试

答案: D

1065. 家电产品设计更改的规范要求中, 以下哪个不是必须考虑的因素 ( )

- A. 成本影响
- B. 法规合规性
- C. 技术可行性
- D. 设计美观性

答案: D

1066. 家电产品设计中, 哪种材料通常不用于外壳制造 ( )

- A. 塑料
- B. 金属
- C. 陶瓷
- D. 玻璃

答案: C

1067. 在家电产品设计更改流程中, 哪个步骤通常发生在设计评审之后 ( )

- A. 问题识别
- B. 风险评估
- C. 制造可行性分析
- D. 成本效益分析

答案: B

1068. 家电产品设计中, 哪种测试是评估产品耐用性的重要手段 ( )

- A. 跌落测试
- B. 振动测试
- C. 温度循环测试
- D. 所有选项都是

答案: D

1069. 家电产品设计更改的规范中, 以下哪个不是设计更改的常见原因 ( )

- A. 降低成本
- B. 提高性能
- C. 改变产品颜色
- D. 满足客户需求

答案: C

1070. 家电产品设计中, 哪种因素不是决定产品重量的因素 ( )

- A. 材料密度
- B. 产品尺寸

- C. 产品功能
- D. 用户偏好

答案: D

1071. 在家电产品设计更改流程中, 哪个步骤负责评估更改对生产的影响 ( )

- A. 设计评审
- B. 风险评估
- C. 制造可行性分析
- D. 成本效益分析

答案: C

1072. 家电产品设计中, 哪种测试不是评估产品性能的标准测试 ( )

- A. 效率测试
- B. 噪音测试
- C. 颜色搭配测试
- D. 耐用性测试

答案: C

1073. 家电产品设计更改的规范要求中, 以下哪个不是设计更改的潜在风险 ( )

- A. 增加成本
- B. 延迟上市
- C. 降低产品质量
- D. 提高产品销量

答案: D

1074. 家电产品设计中, 哪种因素不是决定产品散热性能的因素 ( )

- A. 材料选择
- B. 设备功率
- C. 设计形状
- D. 产品颜色

答案: D

1075. 在家电产品设计更改流程中, 哪个步骤通常需要多个部门的协作 ( )

- A. 问题识别
- B. 设计评审
- C. 风险评估
- D. 所有选项都是

答案: B

1076. 家电产品设计中, 哪种测试不是评估产品环境适应性的标准测试 ( )

- A. 湿热测试
- B. 盐雾测试
- C. 振动测试
- D. 颜色测试

答案: D

1077. 家电产品设计更改的规范中, 以下哪个不是设计更改的常见目标 ( )

- A. 增加产品功能
- B. 降低生产成本
- C. 缩短产品寿命
- D. 提高用户满意度

答案：C

1078. 家电产品设计中，哪种因素不是决定产品噪音水平的因素（ ）

- A. 设备运行速度
- B. 设备材料
- C. 设计形状
- D. 设备颜色
- E. 设备功率

答案：D

1079. 在家电产品设计更改流程中，哪个步骤负责确保设计更改符合法规要求（ ）

- A. 设计评审
- B. 风险评估
- C. 法规合规性检查
- D. 成本效益分析

答案：C

1080. 家电产品设计中，哪种测试不是评估产品安全性的标准测试（ ）

- A. 电气安全测试
- B. 机械安全测试
- C. 辐射测试
- D. 外观设计测试

答案：D

1081. 家电产品设计更改的规范要求中，以下哪个不是设计更改的基本原则（ ）

- A. 保证产品质量
- B. 满足客户需求
- C. 降低产品性能
- D. 遵守设计更改流程

答案：C

1082. 家电产品设计中，哪种因素不是决定产品能耗的因素（ ）

- A. 设备使用材料
- B. 设备运行效率
- C. 设备使用环境
- D. 设备颜色

答案：D

1083. 在家电产品设计更改流程中，哪个步骤负责评估设计更改对市场的影响（ ）

- A. 设计评审
- B. 市场影响评估
- C. 风险评估
- D. 成本效益分析

答案：B

1084. 家电产品设计中，哪种测试不是评估产品可靠性的标准测试（ ）

- A. 寿命测试
- B. 性能测试
- C. 外观检查
- D. 环境适应性测试

答案：C

1085. 家电产品设计更改的规范中，以下哪个不是设计更改的常见原因（ ）

- A. 技术进步
- B. 法规变化
- C. 管理层决策
- D. 消费者偏好变化

答案：C

1086. 家电产品设计中，哪种因素不是决定产品市场竞争力的因素（ ）

- A. 产品价格
- B. 产品质量
- C. 产品创新
- D. 产品颜色

答案：D

1087. 在家电产品设计更改流程中，哪个步骤负责确保设计更改的技术可行性（ ）

- A. 设计评审
- B. 技术评估
- C. 风险评估
- D. 成本效益分析

答案：B

1088. 家电产品设计中，哪种测试不是评估产品耐用性的标准测试（ ）

- A. 循环加载测试
- B. 长期稳定性测试
- C. 外观检查
- D. 温度循环测试

答案：C

1089. 家电产品设计更改的规范要求中，以下哪个不是设计更改的影响因素（ ）

- A. 供应链影响
- B. 制造成本
- C. 产品重量
- D. 产品形状

答案：C

1090. 家电产品设计中，哪种因素不是决定产品用户界面的因素（ ）

- A. 显示技术
- B. 控制逻辑
- C. 材料成本
- D. 用户交互

答案：C

1091. 在家电产品设计更改流程中，哪个步骤通常需要与供应商合作（ ）

- A. 设计评审
- B. 风险评估
- C. 制造可行性分析
- D. 法规合规性检查

答案：C

1092. 家电产品设计中，哪种测试不是评估产品环境适应性的标准测试（ ）

- A. 湿热测试

- B. 盐雾测试
- C. 跌落测试
- D. 温度循环测试

答案：C

1093. 家电产品设计更改的规范中，以下哪个不是设计更改的潜在风险（ ）

- A. 影响品牌形象
- B. 降低生产效率
- C. 提高产品销量
- D. 增加售后服务需求

答案：C

1094. 家电产品设计中，哪种因素不是决定产品维修性的因素（ ）

- A. 模块化设计
- B. 易拆卸性
- C. 产品颜色
- D. 维修手册

答案：C

1095. 在家电产品设计更改流程中，哪个步骤负责评估设计更改对现有库存的影响（ ）

- A. 设计评审
- B. 库存影响评估
- C. 风险评估
- D. 成本效益分析

答案：B

1096. 家电产品设计中，哪种测试不是评估产品性能的标准测试（ ）

- A. 效率测试
- B. 功率测试
- C. 外观设计测试
- D. 耐久性测试

答案：C

1097. 家电产品设计更改的规范要求中，以下哪个不是设计更改的基本原则（ ）

- A. 保证产品安全
- B. 满足市场需求
- C. 忽视成本因素
- D. 遵守法规标准

答案：C

1098. 家电产品设计中，哪种因素不是决定产品运输成本的因素（ ）

- A. 产品尺寸
- B. 产品重量
- C. 产品包装
- D. 产品颜色

答案：D

1099. 在家电产品设计更改流程中，哪个步骤负责评估设计更改对客户满意度的影响（ ）

- A. 设计评审
- B. 客户影响评估
- C. 风险评估

D. 成本效益分析

答案: B

1100. 家电产品设计中, 哪种测试不是评估产品安全性的标准测试 ( )

- A. 电气安全测试
- B. 机械安全测试
- C. 辐射安全测试
- D. 外观设计测试

答案: D

1101. 家电产品设计更改的规范中, 以下哪个不是设计更改的常见目标 ( )

- A. 提升产品性能
- B. 降低产品质量
- C. 增加产品功能
- D. 改善用户体验

答案: B

1102. 家电产品设计中, 哪种因素不是决定产品能效的因素 ( )

- A. 设备使用频率
- B. 设备功率消耗
- C. 设备保温性能
- D. 设备颜色

答案: D

1103. 在家电产品设计更改流程中, 哪个步骤负责确保设计更改的实施 ( )

- A. 设计评审
- B. 风险评估
- C. 实施与监控
- D. 成本效益分析

答案: C

1104. 家电产品设计中, 哪种测试不是评估产品可靠性的标准测试 ( )

- A. 寿命测试
- B. 性能测试
- C. 外观检查
- D. 环境适应性测试

答案: C

1105. 家电产品设计更改的规范要求中, 以下哪个不是设计更改的影响因素 ( )

- A. 供应链稳定性
- B. 制造工艺
- C. 产品定价
- D. 产品重量

答案: C

1106. 家电产品设计中, 哪种因素不是决定产品易用性的因素 ( )

- A. 用户界面设计
- B. 产品尺寸
- C. 产品重量
- D. 用户手册

答案: C



1107. 在家电产品设计更改流程中，哪个步骤负责评估设计更改对售后服务的影响（ ）

- A. 设计评审
- B. 售后服务影响评估
- C. 风险评估
- D. 成本效益分析

答案：B

1108. 家电产品设计中，哪种测试不是评估产品耐用性的标准测试（ ）

- A. 跌落测试
- B. 振动测试
- C. 颜色测试
- D. 温度循环测试

答案：C

1109. 家电产品设计更改的规范中，以下哪个不是设计更改的潜在风险（ ）

- A. 影响产品一致性
- B. 增加生产成本
- C. 减少产品种类
- D. 提高市场竞争力

答案：C

1110. 家电产品设计中，哪种因素不是决定产品维修性的因素（ ）

- A. 模块化程度
- B. 零件标准化
- C. 产品颜色
- D. 维修信息的可获取性

答案：C

1111. 一个标称为 220V、1100W 的电饭锅，正常工作时流过它的电流大小为（ B ）


- A. 220A
- B. 5A
- C. 1100A
- D. 0.2A

1112. 在小家电中，最常用的将电能转换为热能的器件是（ B ）。

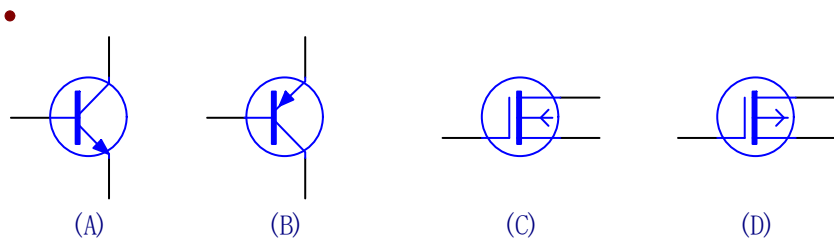
- A. 电动机
- B. 电热管
- C. 发光管
- D. 电容器

1113. 右图陶瓷电容的标称电容量为（ B ）。

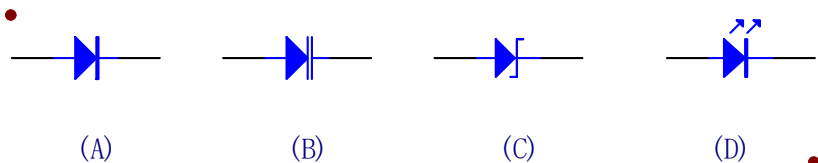
- A. 102pF
- B. 1000pF
- C. 100pF
- D. 102uF



1114. 下图中（ A ）是 NPN 型三极管。



1115. 下图中 ( C ) 是稳压二极管。



1116. 右图二极管的 ( B ) 为正极。

- A. 左端
- B. 右端
- C. 不分正负
- D. 不可判断

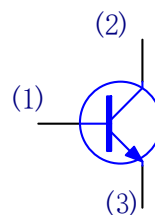


1117. 电热丝一般是用 ( D ) 制成。

- A. 低电阻率的铜
- B. 低电阻率的合金材料
- C. 高电阻率的钨
- D. 高电阻率的合金材料

1118. 一个  $15\ \Omega$  电阻两端的电压为  $3\text{V}$ ，则流过它的电流大小为 ( B )。

- A.  $5\text{A}$
- B.  $0.2\text{A}$
- C.  $12\text{A}$
- D.  $45\text{A}$



1119. 右图三极管的 ( C ) 为发射极。

- A. 1 脚
- B. 2 脚
- C. 3 脚
- D. 不可判断

1120. 电路就是 ( C ) 所流经的路径。

- A. 电压
- B. 电阻
- C. 电流
- D. 电功率

1121. 国家标准对机械制图的基本规定：汉字的书写要使用 ( C )。

- A. 长楷体
- B. 长隶书
- C. 长仿宋体
- D. 长黑体

1122. 国家标准对机械制图的基本规定：圆或大于半圆的弧应标注 ( B )。

- A. 半径

- B. 直径
  - C. 半径或直径
  - D. 半径和直径
1123. 国家标准对机械制图的基本规定：小于半径的圆弧应注（ A ）。
- A. 半径
  - B. 直径
  - C. 半径或直径
  - D. 半径和直径
1124. 三视图由（ D ）组成。
- A. 主视图
  - B. 俯视图
  - C. 左视图
  - D. A、B、C 均是
1125. 物体在正立投影面上的投影，也就是由前向后投射所得的视图，称为（ A ）
- A. 主视图
  - B. 俯视图
  - C. 左视图
  - D. A、B、C 均是
1126. 1mA 电流等于（ C ）A 电流。
- A. 0.1
  - B. 0.01
  - C. 0.001
  - D. 0.0001
1127. 1M $\Omega$  等于（ D ） $\Omega$
- A.  $10^3$
  - B.  $10^4$
  - C.  $10^5$
  - D.  $10^6$
1128. 泄漏电流测试是在被测试产品的（ A ）一定倍数条件下，检测试品的 L 与 N 级对外壳的实际漏电量。
- A. 额定电压
  - B. 工作电压
  - C. 测试电压
  - D. 常压
1129. 接地电阻测试是在大电流条件下，对产品的接地端与接地最远端之间的（ B ）进行测试。
- A. 电流值
  - B. 电阻值
  - C. 电压值
  - D. 功率
1130. 接地线应使用（ D ）。
- A. 绿色线
  - B. 黑色线
  - C. 蓝色线
  - D. 黄绿双色线

1131. 电参数测量仪是测量电器产品在额定电压工作状态下，产品的实际（ A ）是否在规定允许的范围内。
- A. 输入/输出功率
  - B. 电流
  - C. 电压
  - D. 功率因数
1132. 耐压测试仪是以高电压工况，测试被测物体（ D ）的设备。
- A. 电压
  - B. 电阻
  - C. 漏电量
  - D. 功率
1133. 以下（ D ）不是产品主铭牌必须要有的内容。
- A. 型号
  - B. 制造商
  - C. 接地标识
  - D. 额定电压
1134. “整理”是改进工作现场的源头或开始，是推行 5S 的第一步；即将物品区分为：“常用、偶尔使用和不使用”三类，然后按（ D ）方法处理：
- A. 常用物品安置在现场
  - B. 偶尔使用物品放在固定的储存处
  - C. 不使用的物品清除或处理掉（退回仓库）
  - D. 以上都是
1135. 以下（ B ）不适用于 II 类器具的产品检验。
- A. 耐压测试仪
  - B. 泄漏电流测试仪
  - C. 接地电阻测试仪
  - D. 不一定
1136. 产品的生产具有一些特性，即批量性和（ C ）。
- A. 定量性
  - B. 唯一性
  - C. 多样性
  - D. 重复性
1137. 5S 管理理论中的“素养”就是培养员工养成能遵守所规定的事的（ B ）。
- A. 意识
  - B. 习惯
  - C. 条件
  - D. 行为
1138. 制定奖惩制度，加强执行是 5S 管理理论中（ B ）的具体内容之一。
- A. 清扫
  - B. 清洁
  - C. 整理
  - D. 整顿
1139. 内部质量审核的作用是（ D ）。
- A. 检查工作

- B. 处理问题
- C. 改进过程
- D. 提供信息

1140. 用数字万用表测量电阻，档位选择为  $1k\Omega$ ，数字显示如右图，可以知道所测量的电阻的阻值是（ B ）。



- A.  $0.33\Omega$
- B.  $330\Omega$
- C.  $330k\Omega$
- D.  $3300\Omega$

1141. 1 个电子或 1 个质子的电量被称作基本电量，这个电量为（ C ）。

- A.  $0.1C$
- B.  $1C$
- C.  $1.6 \times 10^{19}C$
- D.  $0.01C$

1142. 用示波器测量信号的波形时，通常波形的幅度要求占屏幕的（ B ），屏幕显示（ B ）个周期的波形。

- A.  $1/4 \sim 1/2$ ;  $1 \sim 2$
- B.  $1/3 \sim 2/3$ ;  $2 \sim 3$
- C.  $1/3 \sim 2/3$ ;  $1 \sim 2$
- D.  $1/4 \sim 1/2$ ;  $2 \sim 3$

1143. 测量某一信号时，如果探头衰减比=1，Y 轴  $V/div$  旋钮所处的挡级为  $20mV/div$ ，被测点 P 与基线电平线间为 5 div，则瞬时电压值为（ D ）。

- A.  $1V$
- B.  $0.01V$
- C.  $10V$
- D.  $0.1V$

1144. 测量一节  $1.5V$  的干电池的电压，应选的量程（ B ）。

- A. 交流电压  $2.5V$
- B. 直流电压  $2.5V$
- C. 交流电压  $10V$
- D. 直流电压  $10V$

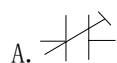
1145. 下列关于使用万用表过程中，正确的说法是（ B ）。

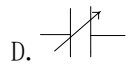
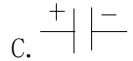
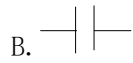
- A. 测量交流电压时，要注意“+”、“-”极性
- B. 测量直流电压时要注意“+”、“-”极性
- C. 测量电阻时不需要短接表笔来调节“ $\Omega$ ”微调旋钮
- D. 测量电压时不需要调整档位

1146. 减小导体的电阻，下面方法中不可能的是（ B ）

- A. 将导体放置在低温环境中
- B. 保持横截面积不变，增加导体的长度
- C. 将导体对折使用
- D. 保持长度不变，增加导体的横截面积

1147. 以下哪个电路符号是微调电容器的（ A ）。





1148. 不属于电感器绕线结构的是 ( D ) 。

- A. 单层线圈
- B. 多层线圈、
- C. 蜂房式线圈.
- D. 半层线圈

1149. 安全开关应距地 ( D ) 米。

- A. 1. 5
- B. 2
- C. 2. 5
- D. 1. 3

1150. 单相半波整流电路，若电源变压器次级电压  $U_2=100V$ ，则负载电压  $U_L$  将是 ( B ) 。

- A. 100V
- B. 45V
- C. 90V
- D. 200V

1151. 自然界中存在 ( C ) 种电荷

- A. 4
- B. 1
- C. 2
- D. 3

1152. 节点至少是几条支路的交点 ( B )

- A. 2 条
- B. 3 条
- C. 4 条
- D. 5 条

1153. 功的国际单位是 ( A )

- A. 焦耳 (J)
- B. 瓦特 (W)
- C. 法拉 (F)
- D. 特斯拉 (T)

1154. 晶闸管内部结构有 ( C ) 个 PN 结。

- A. 1
- B. 2
- C. 3
- D. 4

1155. 以下对金属材料的说法中错误的是 ( D )

- A. 金属分为有色金属和黑色金属两大类
- B. 轻有色金属的密度  $< 4. 5g/cm^3$

- C. 贵有色金属的化学性能稳定
  - D. 半金属不能导电
1156. 传感器是把被测量信号转化为（ C ）的一种装置
- A. 功率
  - B. 功
  - C. 电信号
  - D. 动力
1157. 开启式电热元件传热的方式有（ C ）两种。
- A. 辐射、光电
  - B. 辐射、电热
  - C. 辐射、对流
  - D. 直接、辐射
1158. 电热元件的功率决定于（ B ）。
- A. 端电压
  - B. 电热丝阻值
  - C. 体积
  - D. 形状
1159. OCL 基本原理电路中，三极管处在（ A ）状态。
- A. 甲乙类工作
  - B. 乙类工作
  - C. 丙类工作
  - D. 甲类工作
1160. 关于叠加原理，下述错误的是（ B ）。
- A. 用叠加原理解复杂电路时，计算较繁，因此很少直接用来计算电路
  - B. 叠加原理的重要价值在于它反映了线形电路的基本性质
  - C. 叠加原理可以把复杂电路变成几个简单电路计算，因此很简单
  - D. 叠加原理常用来分析非正弦电路
1161. 衡量小家电首要质量指标的是（ C ）
- A. 适用性
  - B. 可靠性
  - C. 安全性
  - D. 耐用性
1162. 什么样的电热元件因电热材料暴露在空气中而得名。（ A ）
- A. 开启式
  - B. 罩盖式
  - C. 密封式
  - D. 电子式
1163. 什么样的电热元件因电热材料被既导热又绝缘的物质（如云母片）包裹起来而得名的。（ B ）
- A. 开启式
  - B. 罩盖式
  - C. 密封式
  - D. 电子式
1164. 什么样的电热元件一般用于电熨斗和电烤箱中（ C ）
- A. 开启式

- B. 罩盖式
  - C. 密封式
  - D. 以上都可以
1165. 以电磁系统为主体的一类继电器是：（A）
- A. 交流电磁继电器
  - B. 中间电器
  - C. 舌簧继电器
  - D. 时间继电器
1166. 其结构原理类似机械式钟表的定时器是：（A.）
- A. 机械式定时器
  - B. 电子式定时器
  - C. 舌簧式定时器
  - D. 电动式定时器
1167. 主要部件有减速传动机构和开关组件的定时器是：（D）
- A. 机械式定时器
  - B. 电子式定时器
  - C. 舌簧式定时器
  - D. 电动式定时器
1168. 利用电子线路组成的定时器是：（B）
- A. 机械式定时器
  - B. 电子式定时器
  - C. 舌簧式定时器
  - D. 电动式定时器
1169. 利用半导体的电阻或（电流）随温度变化特性制成的感温元件是：（A）
- A. 温敏电阻
  - B. 热电偶
  - C. 温敏晶体管
  - D. 集成温度传感器
1170. 利用塞贝克效应制成的温敏传感元件是：（B）
- A. 温敏电阻
  - B. 热电偶
  - C. 温敏晶体管
  - D. 集成温度传感器
1171. 利用二极管 PN 结的正向电流与温度关系制成的温度传感元件是：（C）
- A. 温敏电阻
  - B. 热电偶
  - C. 温敏晶体管
  - D. 集成温度传感器
1172. 将温敏晶体管及其有关电路集成在同一芯片的传感元件是：（D）
- A. 温敏电阻
  - B. 热电偶
  - C. 温敏晶体管
  - D. 集成温度传感器
1173. 用来检测气体的类别、浓度和成分的传感器是：（B）



- A. 温度传感器
  - B. 气体传感器
  - C. 光传感器
  - D. 超声波传感器
1174. 把光信号转换为电信号的传感器是：（ C ）
- A. 温度传感器
  - B. 气体传感器
  - C. 光传感器
  - D. 超声波传感器
1175. 电阻随着受光照射强度的改变而改变的光传感元件是：（ A ）
- A. 光敏电阻
  - B. 光敏二极管
  - C. 光电晶体管
  - D. 集成光传感器
1176. 电压的单位是（ A ）
- A. 伏特
  - B. 安培
  - C. 瓦特
  - D. 欧姆
1177. 电阻的单位是（ D ）
- A. 伏特
  - B. 安培
  - C. 瓦特
  - D. 欧姆
1178. 电功率的单位是（ C ）
- A. 伏特
  - B. 安培
  - C. 瓦特
  - D. 欧姆
1179. 电力电路主要起着电能的（ A ）作用。
- A. 传输和转换
  - B. 传输
  - C. 传导
  - D. 传递
1180. 单位时间内通过导体任一（ D ）的电量叫电流强度。
- A. 位置
  - B. 点
  - C. 面
  - D. 横截面
1181. 电路中不该相连的两点被直接连接导通的现象叫（ C ）。
- A. 断路
  - B. 电桥
  - C. 短路
  - D. 保护

1182. 空载运行状态又称（ C ）状态，它是电路的一个极端运行状态。
- 短路或开路
  - 保护电路
  - 断路或开路
  - 正常停止
1183. 小家电中常见的电热元器件有（ C ）电热元件. 红外线电热元件等几种。
- 电感式
  - 电流式
  - 电阻式
  - 电偶式
1184. 右图色环电阻的标称阻值为（ B ）。
- 220  $\Omega$
  - 22  $\Omega$
  - 22k  $\Omega$
  - 220K  $\omega$
1185. 保险丝一般起到（ A ）保护作用。
- 过载
  - 过压
  - 欠压
  - 过热



## 二、多项选择题（答案至少有两个正确选项，共 570 题）

1. 电气工程师在设计电路时应考虑哪些因素（ ）
  - 成本效益
  - 安全性
  - 环境影响
  - 技术先进性
 答案：A, B, C, D
2. 在电气制造过程中，哪些行为是违反职业道德的（ ）
  - 偷工减料
  - 忽视安全规定
  - 泄露公司机密
  - 拒绝客户合理的服务要求
 答案：A, B, C, D
3. 电气工程师在进行项目时，应如何保证数据的准确性（ ）
  - 进行多次验证
  - 依赖经验判断
  - 与团队成员共享数据
  - 忽略异常数据
 答案：A, C
4. 电气工程师在面对紧急情况时应采取哪些措施（ ）
  - 立即切断电源
  - 通知相关人员
  - 尝试自行解决问题

D. 等待上级指示

答案：A, B

5. 在电气制造行业中，哪些行为体现了对环境的尊重（ ）

- A. 减少能源浪费
- B. 使用可回收材料
- C. 避免使用有害物质
- D. 忽视废物处理

答案：A, B, C

6. 电气工程师在与客户沟通时应遵循哪些原则（ ）

- A. 诚实守信
- B. 尊重客户意见
- C. 避免技术术语
- D. 只提供有限信息

答案：A, B, C

7. 在电气制造领域，哪些行为可能对公共安全构成威胁（ ）

- A. 未经测试的产品投入市场
- B. 忽视设备维护
- C. 违反操作规程
- D. 过度依赖自动化系统

答案：A, B, C

8. 电气工程师在团队合作中应承担哪些责任（ ）

- A. 分享专业知识
- B. 尊重团队决策
- C. 独立完成任务
- D. 监督团队成员的工作

答案：A, B, D

9. 在电气制造过程中，哪些因素可能影响产品质量（ ）

- A. 原材料质量
- B. 生产工艺
- C. 设备维护
- D. 员工技能

答案：A, B, C, D

10. 电气工程师在面对技术挑战时应采取哪些态度（ ）

- A. 积极寻求解决方案
- B. 坚持使用传统方法
- C. 与同行交流经验
- D. 避免冒险尝试

答案：A, C

11. 电气工程师在制定项目计划时应考虑哪些因素（ ）

- A. 项目预算
- B. 项目周期
- C. 技术可行性
- D. 客户需求

答案：A, B, C, D

12. 在电气制造行业中，哪些行为是违反法律法规的（ ）
- A. 未经许可使用专利技术
  - B. 伪造产品合格证明
  - C. 违反劳动法规定
  - D. 忽视环境保护法规
- 答案：A, B, C, D
13. 电气工程师在进行现场工作时应注意哪些安全事项（ ）
- A. 穿戴适当的防护装备
  - B. 遵守现场安全规定
  - C. 使用未经检验的设备
  - D. 及时报告潜在危险
- 答案：A, B, D
14. 在电气制造领域，哪些行为体现了对知识产权的尊重（ ）
- A. 尊重他人的专利权
  - B. 避免抄袭他人的设计
  - C. 未经授权使用商标
  - D. 保护公司的商业秘密
- 答案：A, B, D
15. 电气工程师在进行技术研究时应遵循哪些原则（ ）
- A. 客观公正
  - B. 追求创新
  - C. 忽视伦理问题
  - D. 遵守研究伦理
- 答案：A, B, D
16. 在电气制造行业中，哪些行为可能损害公司声誉（ ）
- A. 提供劣质产品
  - B. 忽视客户反馈
  - C. 参与不正当竞争
  - D. 泄露客户信息
- 答案：A, B, C, D
17. 电气工程师在进行项目管理时应如何处理风险（ ）
- A. 识别潜在风险
  - B. 制定风险应对计划
  - C. 忽视风险管理
  - D. 及时调整项目计划
- 答案：A, B, D
18. 在电气制造领域，哪些行为体现了对员工的关怀（ ）
- A. 提供安全健康的工作环境
  - B. 尊重员工的个人发展
  - C. 忽视员工的意见和建议
  - D. 提供职业发展机会
- 答案：A, B, D
19. 电气工程师在进行产品设计时应考虑哪些因素（ ）
- A. 用户需求

- B. 设计美观
- C. 产品可靠性
- D. 成本控制

答案: A, B, C, D

20. 在电气制造行业中, 哪些行为可能对公司造成经济损失 ( )

- A. 产品召回
- B. 违反合同条款
- C. 忽视市场变化
- D. 过度依赖单一供应商

答案: A, B, C, D

21. 电气工程师在进行技术交流时应遵循哪些原则 ( )

- A. 保持开放态度
- B. 尊重不同观点
- C. 避免技术讨论
- D. 积极分享经验

答案: A, B, D

22. 在电气制造领域, 哪些行为可能对个人职业生涯造成影响 ( )

- A. 违反职业道德规范
- B. 缺乏持续学习
- C. 忽视团队合作
- D. 过度依赖技术

答案: A, B, C

23. 电气工程师在进行质量控制时应关注哪些方面 ( )

- A. 原材料检验
- B. 生产过程监控
- C. 产品性能测试
- D. 忽视不合格品处理

答案: A, B, C

24. 在电气制造行业中, 哪些行为体现了对社会责任的承担 ( )

- A. 参与社区服务
- B. 推广节能技术
- C. 忽视环境保护
- D. 支持教育事业

答案: A, B, D

25. 电气工程师在进行市场调研时应收集哪些信息 ( )

- A. 客户需求
- B. 竞争对手情况
- C. 行业发展趋势
- D. 忽视政策法规变化

答案: A, B, C

26. 在电气制造领域, 哪些行为可能对个人声誉造成损害 ( )

- A. 抄袭他人成果
- B. 忽视安全事故
- C. 参与不正当竞争

D. 忽视客户反馈

答案: A, B, C, D

27. 电气工程师在进行项目评估时应考虑哪些因素 ( )

A. 技术可行性

B. 经济效益

C. 社会影响

D. 忽视风险评估

答案: A, B, C

28. 在电气制造行业中, 哪些行为体现了对客户权益的尊重 ( )

A. 提供售后服务

B. 遵守合同条款

C. 忽视客户投诉

D. 保护客户隐私

答案: A, B, D

29. 电气工程师在进行团队管理时应遵循哪些原则 ( )

A. 公平对待每个成员

B. 鼓励创新思维

C. 忽视团队沟通

D. 重视团队协作

答案: A, B, D

30. 在电气制造领域, 哪些行为可能对公司形象造成负面影响 ( )

A. 提供虚假信息

B. 忽视产品质量问题

C. 参与不正当竞争

D. 忽视员工福利

答案: A, B, C, D

31. 工业设计包含以下哪些方面 ( )

A. 产品设计

B. 环境设计

C. 服务设计

D. 交互设计

答案: A, B, C, D

32. 工业设计的目的包括以下哪些 ( )

A. 提高产品功能性

B. 增强产品美观性

C. 降低生产成本

D. 满足用户需求

答案: A, B, C, D

33. 以下哪些是工业设计中常用的设计方法 ( )

A. 头脑风暴

B. 原型制作

C. 市场调研

D. 计算机辅助设计(CAD)

答案: A, B, C, D

34. 工业设计史中，以下哪些设计师被认为是现代设计的先驱（ ）

- A. 威廉·莫里斯
- B. 勒·柯布西耶
- C. 路易·沙利文
- D. 密斯·凡德罗

答案：B, C, D

35. 以下哪些因素会影响工业设计过程（ ）

- A. 用户研究
- B. 技术可行性
- C. 材料选择
- D. 制造成本

答案：A, B, C, D

36. 工业设计中，人体工程学的应用主要体现在哪些方面（ ）

- A. 产品尺寸设计
- B. 产品形状设计
- C. 操作界面设计
- D. 产品重量分布

答案：A, B, C, D

37. 以下哪些是工业设计中常用的材料（ ）

- A. 塑料
- B. 金属
- C. 木材
- D. 玻璃

答案：A, B, C, D

38. 工业设计中，色彩设计的作用包括哪些（ ）

- A. 吸引注意力
- B. 表达情感
- C. 区分功能
- D. 增强品牌识别度

答案：A, B, C, D

39. 以下哪些是工业设计中考虑的环境因素（ ）

- A. 可回收性
- B. 能源效率
- C. 材料来源
- D. 产品寿命周期

答案：A, B, C, D

40. 工业设计中，以下哪些是产品造型设计的关键要素（ ）

- A. 形状
- B. 线条
- C. 比例
- D. 材质

答案：A, B, C, D

41. 工业设计中，以下哪些是评估设计成功与否的标准（ ）

- A. 创新性

- B. 功能性
- C. 经济性
- D. 美观性

答案: A, B, C, D

42. 工业设计中, 以下哪些是设计研究的方法 ( )

- A. 观察法
- B. 访谈法
- C. 问卷调查
- D. 用户测试

答案: A, B, C, D

43. 工业设计中, 以下哪些是设计创新的来源 ( )

- A. 用户需求
- B. 技术进步
- C. 市场竞争
- D. 设计师的创意

答案: A, B, C, D

44. 以下哪些是工业设计中常用的原型测试方法 ( )

- A. 物理原型
- B. 数字原型
- C. 概念原型
- D. 功能原型

答案: A, B, C, D

45. 工业设计中, 以下哪些是设计评审的要点 ( )

- A. 设计概念
- B. 用户体验
- C. 技术实现
- D. 成本效益

答案: A, B, C, D

46. 工业设计中, 以下哪些是设计迭代的目的 ( )

- A. 改进设计缺陷
- B. 满足用户反馈
- C. 适应市场变化
- D. 优化生产过程

答案: A, B, C, D

47. 以下哪些是工业设计中考虑的制造工艺 ( )

- A. 注塑成型
- B. 金属加工
- C. 3D 打印
- D. 表面处理

答案: A, B, C, D

48. 工业设计中, 以下哪些是设计可持续性的关键因素 ( )

- A. 材料可回收性
- B. 能源消耗
- C. 产品耐用性



D. 生态影响

答案: A, B, C, D

49. 以下哪些是工业设计中用户体验的重要性 ( )

A. 提升用户满意度

B. 增强产品竞争力

C. 促进品牌忠诚度

D. 引导用户行为

答案: A, B, C, D

50. 工业设计中, 以下哪些是设计趋势的驱动因素 ( )

A. 技术革新

B. 社会文化

C. 环境政策

D. 用户偏好

答案: A, B, C, D

51. 以下哪些是工业设计中考虑的设计心理学因素 ( )

A. 用户感知

B. 用户情绪

C. 用户认知

D. 用户行为

答案: A, B, C, D

52. 工业设计中, 以下哪些是设计伦理的考量 ( )

A. 用户安全

B. 社会公平

C. 环境责任

D. 知识产权

答案: A, B, C, D

53. 以下哪些是工业设计中进行市场定位的依据 ( )

A. 竞争对手分析

B. 目标用户群体

C. 产品差异化

D. 品牌定位

答案: A, B, C, D

54. 以下哪些是工业设计中设计策略的组成部分 ( )

A. 设计目标

B. 设计原则

C. 设计方法

D. 设计评估

答案: A, B, C, D

55. 以下哪些是工业设计中设计管理的关键环节 ( )

A. 项目规划

B. 团队协作

C. 资源分配

D. 设计决策

答案: A, B, C, D

56. 以下哪些是工业设计中设计思维的特点 ( )
- A. 用户中心
  - B. 迭代过程
  - C. 跨学科合作
  - D. 创新驱动
- 答案: A, B, C, D
57. 以下哪些是工业设计中设计研究的重要性 ( )
- A. 指导设计方向
  - B. 验证设计假设
  - C. 提供决策依据
  - D. 促进知识创新
- 答案: A, B, C, D
58. 以下哪些是工业设计中设计创新的策略 ( )
- A. 技术整合
  - B. 形态创新
  - C. 功能扩展
  - D. 材料替代
- 答案: A, B, C, D
59. 以下哪些是工业设计中设计评价的标准 ( )
- A. 功能性评价
  - B. 美学评价
  - C. 经济性评价
  - D. 可持续性评价
- 答案: A, B, C, D
60. 以下哪些是工业设计中设计沟通的工具 ( )
- A. 草图
  - B. 3D 模型
  - C. 故事板
  - D. 用户旅程图
- 答案: A, B, C, D
61. 电流的基本单位是安培 A. , 以下哪些符号与电流相关 ( )
- A. I
  - B. A
  - C. V
  - D. W
- 答案: A, B
62. 在电学中, 以下哪些是直流电机的类型 ( )
- A. 永磁直流电机
  - B. 串激直流电机
  - C. 无刷直流电机
  - D. 感应电机
- 答案: A, B, C
63. 以下哪些元件属于被动电子元件 ( )
- A. 电阻器

- B. 电容器
- C. 二极管
- D. 变压器

答案：A, B, C

64. 电气安全规程中，以下哪些行为是正确的（ ）

- A. 使用合适的保险丝
- B. 定期检查电线和设备
- C. 湿手操作电气设备
- D. 使用绝缘工具

答案：A, B, D

65. 产品接线图中，以下哪些符号通常用来表示不同类型的连接点（ ）

- A. 圆圈
- B. 方块
- C. 三角形
- D. 星号

答案：A, B, C

66. 电学中，以下哪些单位与电压相关（ ）

- A. 伏特 (V)
- B. 安培 A
- C. 欧姆 ( $\Omega$ )
- D. 瓦特 (W)

答案：A

67. 在电学中，以下哪些是交流电机的类型（ ）

- A. 同步电机
- B. 异步电机
- C. 感应电机
- D. 直流电机

答案：A, B, C

68. 以下哪些元件用于信号的整流（ ）

- A. 整流二极管
- B. 稳压二极管
- C. 晶体管
- D. 运算放大器

答案：A

69. 电气安全规程中，以下哪些是处理电气火灾的正确措施（ ）

- A. 使用水扑灭
- B. 切断电源
- C. 使用干粉或二氧化碳灭火器
- D. 继续操作设备

答案：B, C

70. 电学中，以下哪些符号与电阻相关（ ）

- A. R
- B.  $\Omega$
- C. A

D. V

答案: A, B

71. 以下哪些元件具有非线性特性 ( )

- A. 电容器
- B. 二极管
- C. 晶体管
- D. 电感器

答案: B, C

72. 电气安全规程中, 以下哪些是预防电击的措施 ( )

- A. 使用漏电保护器
- B. 穿戴绝缘鞋
- C. 确保设备良好接地
- D. 带电作业

答案: A, B, C

73. 在电学中, 以下哪些是电感的单位 ( )

- A. 欧姆 ( $\Omega$ )
- B. 亨利 (H)
- C. 法拉 (F)
- D. 伏特 (V)

答案: B, C

74. 以下哪些元件用于信号的放大 ( )

- A. 电阻器
- B. 电容器
- C. 晶体管
- D. 运算放大器

答案: C, D

75. 电气安全规程中, 以下哪些是正确处理电气设备故障的措施 ( )

- A. 立即修理
- B. 标记并隔离故障设备
- C. 通知专业人员
- D. 继续使用

答案: B, C

76. 电学中, 以下哪些符号与功率相关 ( )

- A. P
- B. W
- C. A
- D. V

答案: A, B

77. 以下哪些元件用于电源的滤波 ( )

- A. 电容器
- B. 电感器
- C. 二极管
- D. 电阻器

答案: A, B

78. 电气安全规程中，以下哪些是正确使用电气设备的措施（ ）
- A. 遵守操作规程
  - B. 使用合适的工具和设备
  - C. 确保设备定期维护
  - D. 忽视警告标志

答案：A, B, C

79. 在电学中，以下哪些是电容的单位（ ）
- A. 微法（ $\mu\text{F}$ ）
  - B. 皮法（ $\text{pF}$ ）
  - C. 欧姆（ $\Omega$ ）
  - D. 伏特（ $\text{V}$ ）

答案：A, B

80. 以下哪些元件用于电源的稳压（ ）
- A. 稳压二极管
  - B. 稳压集成电路
  - C. 变压器
  - D. 电容器

答案：A, B

81. 以下哪些是电学符号的标准表示方法（ ）
- A. 电压源用“V”
  - B. 电流源用“I”
  - C. 电阻用“R”
  - D. 电容器用“C”

答案：C, D

82. 电气安全规程中，以下哪些是正确处理电气事故的措施（ ）
- A. 切断电源
  - B. 尝试自行修复
  - C. 通知专业人员
  - D. 保持现场等待救援

答案：A, C, D

83. 在电学中，以下哪些是电学符号的国际标准（ ）
- A. ANSI
  - B. IEC
  - C. ISO
  - D. SAE

答案：B, C

84. 以下哪些元件用于电源的转换（ ）
- A. 变压器
  - B. 整流器
  - C. 电容器
  - D. 稳压器

答案：A, B, D

85. 电气安全规程中，以下哪些是正确使用手持电动工具的措施（ ）
- A. 使用前检查工具

- B. 使用合适的防护装备
- C. 在潮湿环境中使用
- D. 使用合适的电源适配器

答案: A, B, D

86. 电学中, 以下哪些是电学符号的分类 ( )

- A. 电压符号
- B. 电流符号
- C. 电阻符号
- D. 功率符号

答案: A, B, C, D

87. 以下哪些元件用于信号的调制与解调 ( )

- A. 调制器
- B. 解调器
- C. 电容器
- D. 电感器

答案: A, B

88. 电气安全规程中, 以下哪些是正确进行电气测试的措施 ( )

- A. 使用校准过的测试设备
- B. 确保测试环境安全
- C. 进行测试时穿戴适当的防护装备
- D. 忽视测试结果

答案: A, B, C

89. 在电学中, 以下哪些是电学符号的属性 ( )

- A. 极性
- B. 阻抗
- C. 频率
- D. 幅度

答案: A, B, C

90. 以下哪些元件用于电源的保护 ( )

- A. 熔断器
- B. 过压保护二极管
- C. 电容器
- D. 电感器

答案: A, B

91. 机械制图中, 常见的视图包括:

- A. 前视图
- B. 侧视图
- C. 俯视图
- D. 后视图

答案: A, B, C

92. 法定计量单位系统中, 以下哪些是长度单位 ( )

- A. 米 (m)
- B. 千米 (km)
- C. 厘米 (cm)

D. 毫米 (mm)

答案: A, B, C, D

93. 机械制图中, 剖面图用于显示:

- A. 物体内部结构
- B. 物体外部形状
- C. 对称物体的一半
- D. 物体的截面形状

答案: A, D

94. 以下哪些是 ISO 标准涵盖的领域 ( )

- A. 质量管理
- B. 环境管理
- C. 职业健康安全
- D. 信息技术

答案: A, B, C, D

95. 机械制图中, 尺寸线应:

- A. 与所标注的线平行
- B. 用细实线绘制
- C. 不能断开
- D. 应避开图形和文字

答案: A, B, D

96. 法定计量单位系统中, 以下哪些是质量单位 ( )

- A. 千克 (kg)
- B. 克 (g)
- C. 毫克 (mg)
- D. 吨 (t)

答案: A, B, C, D

97. 机械制图中, 公差表示:

- A. 尺寸的允许偏差
- B. 尺寸的精度要求
- C. 尺寸的测量方法
- D. 尺寸的绝对值

答案: A, B

98. 以下哪些是机械制图中常见的表面粗糙度表示方法 ( )

- A. 表面粗糙度符号
- B. 表面粗糙度数值
- C. 表面粗糙度等级
- D. 表面粗糙度曲线

答案: A, B, C

99. 电热元件按工作原理可分为:

- A. 电阻式
- B. 感应式
- C. 电磁式
- D. 电弧式

答案: A, B, C, D

100. 机械制图中，焊接符号包括：

- A. 焊接类型
- B. 焊接位置
- C. 焊接尺寸
- D. 焊接材料

答案：A, B, C

101. 法定计量单位系统中，以下哪些是时间单位（ ）

- A. 秒（s）
- B. 分钟（min）
- C. 小时（h）
- D. 日

答案：A, B, C, D

102. 机械制图中，螺纹的标注通常包括：

- A. 螺纹类型
- B. 螺纹直径
- C. 螺距
- D. 螺纹长度

答案：A, B, C

103. 以下哪些是机械制图中的剖面类型（ ）

- A. 全剖面
- B. 半剖面
- C. 局部剖面
- D. 旋转剖面

答案：A, B, C

104. 电热元件按使用环境可分为：

- A. 干热式
- B. 湿热式
- C. 真空式
- D. 所有选项都是

答案：A, B, C

105. 机械制图中，以下哪些线型表示虚线（ ）

- A. 可见轮廓线
- B. 隐藏线
- C. 断裂线
- D. 中心线

答案：B, C

106. 法定计量单位系统中，以下哪些是功率单位（ ）

- A. 瓦特（W）
- B. 千瓦（kW）
- C. 兆瓦（MW）
- D. 焦耳每秒（J/s）

答案：A, B, C, D

107. 机械制图中，尺寸标注应遵循：

- A. 尺寸线连续



- B. 尺寸数字清晰
- C. 尺寸单位明确
- D. 尺寸位置合理

答案：B, C, D

108. 电热元件按形状可分为：

- A. 管状
- B. 带状
- C. 板状
- D. 所有选项都是

答案：A, B, C

109. 机械制图中，以下哪些是正确的尺寸标注要求（ ）

- A. 尺寸数字应放置在尺寸线上方
- B. 尺寸线应与所标注的线平行
- C. 尺寸数字应尽量放置在图形外部
- D. 尺寸线可以断开以避免干扰

答案：A, B, C, D

110. 以下哪些是机械制图中的视图选择原则（ ）

- A. 选择最能够表达物体特征的视图
- B. 选择最少数量的视图以表达物体
- C. 选择视图以避免剖面图的使用
- D. 选择视图以简化尺寸标注

答案：A, B, D

111. 法定计量单位系统中，以下哪些是温度单位（ ）

- A. 摄氏度（°C）
- B. 开尔文（K）
- C. 华氏度（°F）
- D. 兰金度（°R）

答案：B

112. 机械制图中，以下哪些是常见的尺寸标注方法（ ）

- A. 线性尺寸标注
- B. 角度尺寸标注
- C. 半径尺寸标注
- D. 直径尺寸标注

答案：A, B, C, D

113. 电热元件的电阻加热元件通常用于：

- A. 工业烘箱
- B. 家用电器
- C. 实验室设备
- D. 所有选项都是

答案：A, B, C

114. 机械制图中，以下哪些是正确的剖面图标注方法（ ）

- A. 剖面线应清晰且连续
- B. 剖面线应避开图形和文字
- C. 剖面线应与剖面区域平行

D. 剖面线应与剖面区域垂直

答案: A, B, C

115. 以下哪些是机械制图中的线型 ( )

- A. 实线
- B. 虚线
- C. 点画线
- D. 波浪线

答案: A, B, C, D

116. 电热元件的加热速度通常由以下哪些因素决定 ( )

- A. 功率大小
- B. 电阻大小
- C. 材料热传导性
- D. 环境温度

答案: A, B, C

117. 机械制图中, 以下哪些是螺纹的要素 ( )

- A. 螺纹类型
- B. 螺纹直径
- C. 螺距或螺纹角
- D. 螺纹长度

答案: A, B, C

118. 以下哪些是机械制图中的剖面线类型 ( )

- A. 粗实线
- B. 细实线
- C. 虚线
- D. 点画线

答案: B, C, D

119. 电热元件的功率密度是指:

- A. 单位体积的功率
- B. 单位面积的功率
- C. 单位质量的功率
- D. 单位长度的功率

答案: B

120. 机械制图中, 以下哪些是尺寸链的特点 ( )

- A. 相互关联的尺寸
- B. 相互独立的尺寸
- C. 影响装配的尺寸
- D. 影响功能的尺寸

答案: A, C, D

121. 电阻器在电路中可以用于:

- A. 分压
- B. 限流
- C. 消耗能量
- D. 储存能量

答案: A, B, C

122. 电容在交流电路中可以用于:

- A. 阻抗
- B. 滤波
- C. 储存能量
- D. 整流

答案: A, B, C

123. 以下哪些元件属于被动元件:

- A. 电阻器
- B. 电容器
- C. 二极管
- D. 变压器

答案: A, B, C, D

124. 运算放大器可以用于实现:

- A. 放大
- B. 滤波
- C. 积分
- D. 微分

答案: A, B, C, D

125. 半导体三极管的工作区域包括:

- A. 截止区
- B. 饱和区
- C. 放大区
- D. 反向偏置区

答案: A, B, C

126. 稳压二极管可以用于:

- A. 整流
- B. 稳压
- C. 开关
- D. 放大

答案: B, C

127. 逻辑门中的与门 (AND) 和或门 (OR) 可以组合实现:

- A. 非门 (NOT)
- B. 异或门 (XOR)
- C. 同或门 (NAND)
- D. 与非门 (NOR)

答案: A, B, C, D

128. 以下哪些因素可以影响电路的电磁兼容性 (EMC):

- A. 电路设计
- B. 元件选择
- C. 电源质量
- D. 信号频率

答案: A, B, C, D

129. 串联电路的总阻抗是:

- A. 各阻抗之和

- B. 各阻抗之积
- C. 各阻抗倒数之和
- D. 各阻抗倒数之积

答案：A, C

130. 并联电路的总阻抗  $Z_{总}$  与单个阻抗  $Z$  的关系是：

- A.  $Z_{总} = Z_1 * Z_2 / (Z_1 + Z_2)$
- B.  $Z_{总} < Z_1$
- C.  $Z_{总} < Z_2$
- D.  $Z_{总} > Z_1 + Z_2$

答案：A, B, C

131. 以下哪些是数字电路的优点：

- A. 高抗干扰性
- B. 低功耗
- C. 高可靠性
- D. 易于集成

答案：A, C, D

132. 电磁干扰（EMI）的来源可能包括：

- A. 电源线噪声
- B. 地线噪声
- C. 信号线反射
- D. 外部设备干扰

答案：A, B, C, D

133. 以下哪些是提高电路屏蔽效能的方法：

- A. 使用屏蔽电缆
- B. 增加接地
- C. 使用屏蔽罩
- D. 减少电缆长度

答案：A, B, C, D

134. 以下哪些元件可以用于实现信号的整流：

- A. 电阻器
- B. 二极管
- C. 电容器
- D. 变压器

答案：B, D

135. 运算放大器的主要特性包括：

- A. 高增益
- B. 高输入阻抗
- C. 低输出阻抗
- D. 差分输入

答案：A, B, C, D

136. 以下哪些是数字逻辑电路的特点：

- A. 只有两种状态
- B. 抗干扰性强
- C. 逻辑功能由元件的连接方式决定

D. 易于实现复杂功能

答案: A, B, C, D

137. 以下哪些是模拟电路与数字电路的区别:

- A. 模拟电路处理连续信号
- B. 数字电路处理离散信号
- C. 模拟电路使用模拟元件
- D. 数字电路使用数字元件

答案: A, B

138. 以下哪些是提高电路稳定性的方法:

- A. 使用高质量的元件
- B. 增加电源滤波
- C. 使用负反馈
- D. 增加电路的增益

答案: A, B, C

139. 以下哪些是电子电路设计中的安全规程:

- A. 断电后测量电路
- B. 穿戴绝缘防护装备
- C. 使用合适的工具
- D. 忽视警告标志

答案: A, B, C

140. 以下哪些是电子测量仪器:

- A. 万用表
- B. 示波器
- C. 频率计
- D. 信号发生器

答案: A, B, C, D

141. 以下哪些是提高电路抗干扰能力的方法:

- A. 使用屏蔽电缆
- B. 增加电源滤波
- C. 使用双绞线
- D. 增加信号线长度

答案: A, B, C

142. 以下哪些是半导体存储器的类型:

- A. ROM
- B. RAM
- C. EPROM
- D. EEPROM

答案: A, B, C, D

143. 以下哪些是数字电路中的组合逻辑电路:

- A. 与门
- B. 或门
- C. 非门
- D. 触发器

答案: A, B, C

144. 以下哪些是模拟电路中的放大器类型:

- A. 运算放大器
- B. 差分放大器
- C. 功率放大器
- D. 电压跟随器

答案: A, B, C, D

145. 以下哪些是电子电路中的反馈类型:

- A. 正反馈
- B. 负反馈
- C. 本质反馈
- D. 外部反馈

答案: A, B

146. 以下哪些是提高电路电磁兼容性 (EMC) 的措施:

- A. 优化电路布局
- B. 使用合适的滤波器
- C. 减少电缆长度
- D. 增加接地

答案: A, B, C, D

147. 以下哪些是数字电路设计中的优化目标:

- A. 速度
- B. 功耗
- C. 成本
- D. 可靠性

答案: A, B, C, D

148. 以下哪些是模拟电路设计中的考虑因素:

- A. 信号的线性度
- B. 噪声水平
- C. 温度漂移
- D. 电源稳定性

答案: A, B, C, D

149. 以下哪些是电子电路中的信号类型:

- A. 模拟信号
- B. 数字信号
- C. 周期信号
- D. 随机信号

答案: A, B, C, D

150. 以下哪些是电子电路中的滤波器类型:

- A. 低通滤波器
- B. 高通滤波器
- C. 带通滤波器
- D. 带阻滤波器

答案: A, B, C, D

151. 以下哪些是数字通信的优点 ( )

- A. 高抗干扰性

- B. 易于加密
- C. 远距离传输能力
- D. 低成本

答案：A, B

152. 以下哪些是模拟信号的特点（ ）

- A. 连续性
- B. 可重复性
- C. 随时间连续变化
- D. 离散性

答案：A, C

153. 在电子信息工程中，傅里叶变换可以用于：

- A. 频域分析
- B. 时域分析
- C. 信号滤波
- D. 信号放大

答案：A, C

154. 以下哪些因素会影响无线信号的传播（ ）

- A. 天气条件
- B. 地形
- C. 建筑物
- D. 传输距离

答案：A, B, C, D

155. 以下哪些是数字信号处理的优势（ ）

- A. 高精度
- B. 易于实现
- C. 灵活性高
- D. 抗干扰性强

答案：A, B, C, D

156. 在电子信息系统，信噪比（SNR）的提高可以通过：

- A. 增加信号源的功率
- B. 减少系统的噪声
- C. 使用高增益天线
- D. 使用数字滤波器

答案：A, B, D

157. 以下哪些是电子信息工程技术中常用的放大器类型（ ）

- A. 运算放大器
- B. 功率放大器
- C. 前置放大器
- D. 缓冲放大器

答案：A, B, C, D

158. 以下哪些是数字滤波器的设计方法（ ）

- A. 脉冲响应法
- B. 频率采样法
- C. 双线性变换法

D. 窗函数法

答案: A, B, C, D

159. 以下哪些是电子信息工程技术中的调制方式 ( )

- A. 调幅 (AM)
- B. 调频 (FM)
- C. 调相 (PM)
- D. 脉冲调制 (PM)

答案: A, B, C

160. 在电子信息系统中, 带宽的增加可以:

- A. 提高数据传输速率
- B. 增加信号传输的距离
- C. 提升信号的稳定性
- D. 减少信号的失真

答案: A, D

161. 以下哪些是数字图像处理的常见应用 ( )

- A. 图像压缩
- B. 图像识别
- C. 图像增强
- D. 图像重建

答案: A, B, C, D

162. 以下哪些是电子信息系统中的同步方式 ( )

- A. 载波同步
- B. 位同步
- C. 帧同步
- D. 群同步

答案: A, B, C

163. 以下哪些是提高电磁兼容性 (EMC) 的措施 ( )

- A. 使用屏蔽电缆
- B. 增加滤波器
- C. 优化电路布局
- D. 使用隔离技术

答案: A, B, C, D

164. 以下哪些是电子信息工程技术中常用的传感器类型 ( )

- A. 温度传感器
- B. 压力传感器
- C. 光传感器
- D. 声传感器

答案: A, B, C, D

165. 在电子信息系统中, 模拟滤波器可以:

- A. 去除高频噪声
- B. 去除低频噪声
- C. 保留特定频率的信号
- D. 放大信号

答案: A, B, C



166. 以下哪些是数字信号的优势 ( )
- A. 易于存储
  - B. 抗干扰性强
  - C. 易于进行数字处理
  - D. 传输损耗小
- 答案: A, B, C
167. 以下哪些是射频 (RF) 电路设计中的考虑因素 ( )
- A. 阻抗匹配
  - B. 信号反射
  - C. 信号衰减
  - D. 频率稳定性
- 答案: A, B, C, D
168. 在电子信息工程中, 以下哪些是信号的时域特性 ( )
- A. 峰值
  - B. 有效值
  - C. 均值
  - D. 脉冲宽度
- 答案: A, B, C, D
169. 以下哪些是电子信息系统中的噪声类型 ( )
- A. 热噪声
  - B. 散粒噪声
  - C. 闪烁噪声
  - D. 电子噪声
- 答案: A, B, C, D
170. 在电子信息工程中, 以下哪些是信号的频域特性 ( )
- A. 幅度
  - B. 频率
  - C. 相位
  - D. 功率
- 答案: A, B, C
171. 以下哪些是数字滤波器的类型 ( )
- A. 低通滤波器
  - B. 高通滤波器
  - C. 带通滤波器
  - D. 带阻滤波器
- 答案: A, B, C, D
172. 以下哪些是电子信息系统中的调制解调器 (MODEM) 的功能 ( )
- A. 模拟信号到数字信号的转换
  - B. 数字信号到模拟信号的转换
  - C. 信号放大
  - D. 信号滤波
- 答案: A, B
173. 在电子信息工程中, 以下哪些是信号的调制方式 ( )
- A. AM

- B. FM
- C. PM
- D. PSK

答案: A, B, C, D

174. 以下哪些是提高信号传输质量的方法 ( )

- A. 使用高质量的传输线
- B. 使用信号增强器
- C. 减少信号的反射和折射
- D. 使用差分信号传输

答案: A, B, C, D

175. 在电子信息系统中, 以下哪些是信号的去调制过程 ( )

- A. 解调
- B. 检测
- C. 滤波
- D. 放大

答案: A, B

176. 以下哪些是电子信息工程中常用的数据编码方式 ( )

- A. 非归零编码
- B. 曼彻斯特编码
- C. 差分曼彻斯特编码
- D. PCM 编码

答案: A, B, C, D

177. 以下哪些是数字信号处理的常见应用 ( )

- A. 语音处理
- B. 图像处理
- C. 视频处理
- D. 数据通信

答案: A, B, C, D

178. 以下哪些是电子信息系统中的同步技术 ( )

- A. 外同步
- B. 自同步
- C. 内同步
- D. 群同步

答案: A, B, C

179. 在电子信息工程中, 以下哪些是信号的时域分析方法 ( )

- A. 时域平均
- B. 时域积分
- C. 时域微分
- D. 时域滤波

答案: A, B, C, D

180. 以下哪些是提高数字通信系统性能的方法 ( )

- A. 增加信号的调制指数
- B. 增加信道的带宽
- C. 使用纠错编码

D. 使用多路复用技术

答案: A, B, C, D

181. 电气自动化中, PLC 的特点包括:

- A. 编程灵活
- B. 抗干扰能力强
- C. 易于维护
- D. 实时性好

答案: A, B, C, D

182. 在自动化技术中, 传感器的作用包括:

- A. 检测物体位置
- B. 转换信号形式
- C. 提供控制信号
- D. 放大信号

答案: A, B, C

183. 电气自动化系统中, 以下哪些设备属于执行器:

- A. 伺服电机
- B. 步进电机
- C. 电磁阀
- D. 接触器

答案: A, B, C, D

184. 在自动化技术中, 以下哪些因素会影响控制系统的稳定性:

- A. 系统增益
- B. 反馈类型
- C. 系统延迟
- D. 外部干扰

答案: A, B, C, D

185. 电气自动化中, 人机界面 (HMI) 的功能包括:

- A. 显示实时数据
- B. 接收用户输入
- C. 设定控制参数
- D. 记录历史数据

答案: A, B, C, D

186. 在自动化技术中, 以下哪些是控制系统的负反馈的优点:

- A. 提高精度
- B. 抑制干扰
- C. 增加系统响应速度
- D. 增强稳定性

答案: A, B, D

187. 电气自动化系统中, 以下哪些属于自动化控制系统的组成部件:

- A. 传感器
- B. 控制器
- C. 执行器
- D. 负载

答案: A, B, C, D

188. 在自动化技术中，以下哪些是闭环控制系统的特点：

- A. 有反馈环节
- B. 控制精度高
- C. 系统稳定
- D. 结构复杂

答案：A, B, C, D

189. 电气自动化中，以下哪些设备可以用于实现 PID 控制：

- A. PLC
- B. 微处理器
- C. 模拟控制器
- D. 专用 PID 控制器

答案：A, B, C, D

190. 在自动化技术中，以下哪些参数会影响控制系统的响应速度：

- A. 系统增益
- B. 截止频率
- C. 延迟时间
- D. 相位裕度

答案：B, C

191. 电气自动化系统中，以下哪些设备可以用于测量温度：

- A. 热电偶
- B. 热电阻
- C. 红外传感器
- D. RTD 传感器

答案：A, B, C, D

192. 在自动化技术中，以下哪些因素会影响控制系统的精度：

- A. 传感器精度
- B. 控制器参数
- C. 执行器精度
- D. 反馈信号的质量

答案：A, B, C, D

193. 电气自动化中，以下哪些设备可以用于实现运动控制：

- A. 伺服电机
- B. 步进电机
- C. 变频器
- D. 电磁铁

答案：A, B

194. 在自动化技术中，以下哪些是开环控制系统的缺点：

- A. 无法自动补偿扰动
- B. 控制精度较低
- C. 对参数变化敏感
- D. 结构简单

答案：A, B, C

195. 电气自动化系统中，以下哪些属于控制算法：

- A. PID 控制

- B. 模糊控制
- C. 预测控制
- D. 神经网络控制

答案：A, B, C, D

196. 在自动化技术中，以下哪些参数会影响系统的动态性能：

- A. 系统增益
- B. 截止频率
- C. 相位裕度
- D. 延迟时间

答案：A, B, D

197. 电气自动化中，以下哪些设备可以用于实现逻辑控制：

- A. PLC
- B. 继电器
- C. 微处理器
- D. 逻辑门电路

答案：A, B, C, D

198. 在自动化技术中，以下哪些是闭环控制系统的优点：

- A. 自动补偿扰动
- B. 控制精度高
- C. 对参数变化不敏感
- D. 结构简单

答案：A, B, C

199. 电气自动化系统中，以下哪些设备可以用于测量压力：

- A. 压电式压力传感器
- B. 应变式压力传感器
- C. 电容式压力传感器
- D. 电感式压力传感器

答案：A, B, C, D

200. 在自动化技术中，以下哪些是控制系统的组成部件：

- A. 传感器
- B. 执行器
- C. 控制器
- D. 显示器

答案：A, B, C

201. 电气自动化中，以下哪些设备可以用于实现数据采集：

- A. PLC
- B. 数据采集卡
- C. 智能传感器
- D. 计算机系统

答案：A, B, C, D

202. 在自动化技术中，以下哪些是控制系统的负反馈的用途：

- A. 减少误差
- B. 抑制噪声
- C. 增加系统响应速度

D. 稳定系统输出

答案: A, B, D

203. 电气自动化系统中, 以下哪些设备可以用于实现远程监控:

- A. 路由器
- B. 通信模块
- C. 远程 I/O 模块
- D. 云平台

答案: A, B, C, D

204. 在自动化技术中, 以下哪些参数会影响系统的稳态误差:

- A. 系统增益
- B. 反馈系数
- C. 系统类型
- D. 负载扰动

答案: A, B, C, D

205. 电气自动化中, 以下哪些设备可以用于实现信号隔离:

- A. 继电器
- B. 光耦
- C. 隔离模块
- D. 变压器

答案: A, B, C, D

206. 在自动化技术中, 以下哪些是控制系统的类型:

- A. 开环控制
- B. 闭环控制
- C. 线性控制
- D. 非线性控制

答案: A, B, C, D

207. 电气自动化系统中, 以下哪些设备可以用于实现信号转换:

- A. 模数转换器
- B. 数模转换器
- C. 变送器
- D. 传感器

答案: A, B, C, D

208. 在自动化技术中, 以下哪些是控制系统的负反馈的缺点:

- A. 可能引起系统振荡
- B. 降低系统响应速度
- C. 增加系统复杂性
- D. 提高系统成本

答案: A, B, C, D

209. 电气自动化中, 以下哪些设备可以用于实现安全保护:

- A. 紧急停止按钮
- B. 安全继电器
- C. 限位开关
- D. 熔断器

答案: A, B, C, D

210. 在自动化技术中，以下哪些是控制系统设计时需要考虑的因素：

- A. 系统性能要求
- B. 成本限制
- C. 操作环境
- D. 用户界面友好性

答案：A, B, C, D

211. 智能产品开发过程中，以下哪些因素是关键（ ）

- A. 用户需求分析
- B. 技术可行性研究
- C. 成本效益评估
- D. 市场趋势预测

答案：A, B, C, D

212. 在智能产品设计中，以下哪些属于用户体验（UX）设计考虑的范畴（ ）

- A. 界面布局
- B. 用户交互流程
- C. 产品颜色选择
- D. 硬件尺寸设计

答案：A, B, C, D

213. 智能产品开发中，数据分析可以带来以下哪些好处（ ）

- A. 用户行为洞察
- B. 产品优化方向
- C. 市场机会发现
- D. 用户反馈收集

答案：A, B, C, D

214. 以下哪些技术是智能产品开发中常用的传感器技术（ ）

- A. 温度传感器
- B. 压力传感器
- C. 运动传感器
- D. 环境光传感器

答案：A, B, C, D

215. 智能产品开发中，以下哪些是物联网（IoT）的关键组成部分（ ）

- A. 传感器
- B. 通信模块
- C. 云平台
- D. 用户界面

答案：A, B, C, D

216. 在智能产品开发中，以下哪些因素会影响产品的可制造性（ ）

- A. 材料选择
- B. 设计复杂度
- C. 生产工艺
- D. 成本限制

答案：A, B, C, D

217. 以下哪些是智能产品开发中进行原型测试的目的（ ）

- A. 验证概念

- B. 收集用户反馈
- C. 评估生产成本
- D. 优化产品性能

答案：A, B, D

218. 智能产品开发中，以下哪些属于产品迭代过程中可能的改进方向（ ）

- A. 用户界面设计
- B. 产品功能
- C. 硬件配置
- D. 市场定位

答案：A, B, C, D

219. 在智能产品开发中，以下哪些是产品安全性需要考虑的方面（ ）

- A. 数据加密
- B. 用户隐私保护
- C. 物理安全特性
- D. 软件安全更新

答案：A, B, C, D

220. 以下哪些是智能产品开发中进行市场调研的常用方法（ ）

- A. 调查问卷
- B. 一对一访谈
- C. 用户观察
- D. 竞品分析

答案：A, B, C, D

221. 智能产品开发中，以下哪些是硬件设计的关键步骤（ ）

- A. 原理图设计
- B. 电路板布局
- C. 硬件选型
- D. 系统集成

答案：A, B, C, D

222. 在智能产品开发中，以下哪些因素会影响产品的能耗（ ）

- A. 硬件配置
- B. 软件优化
- C. 用户使用模式
- D. 环境条件

答案：A, B, C, D

223. 以下哪些是智能产品开发中软件设计的关键方面（ ）

- A. 模块化设计
- B. 代码可维护性
- C. 系统稳定性
- D. 用户交互逻辑

答案：A, B, C, D

224. 智能产品开发中，以下哪些是产品测试的类型（ ）

- A. 功能性测试
- B. 性能测试
- C. 用户体验测试



D. 安全性测试

答案: A, B, C, D

225. 在智能产品开发中, 以下哪些是产品认证可能涉及的领域 ( )

A. 电磁兼容性 (EMC)

B. 无线通信认证

C. 安全标准认证

D. 环境影响评估

答案: A, B, C, D

226. 以下哪些是智能产品开发中数据分析的用途 ( )

A. 用户行为分析

B. 产品故障诊断

C. 市场趋势预测

D. 产品优化决策

答案: A, B, C, D

227. 智能产品开发中, 以下哪些是提升用户体验的方法 ( )

A. 简化用户界面

B. 增加交互反馈

C. 个性化定制

D. 优化用户帮助系统

答案: A, B, C, D

228. 在智能产品开发中, 以下哪些是产品可扩展性考虑的因素 ( )

A. 硬件升级能力

B. 软件更新机制

C. 数据存储扩展

D. 新功能集成

答案: A, B, C, D

229. 以下哪些是智能产品开发中进行敏捷开发的潜在优势 ( )

A. 快速响应变化

B. 提高团队协作

C. 缩短开发周期

D. 降低开发成本

答案: A, B, C, D

230. 智能产品开发中, 以下哪些是产品发布后需要持续进行的活动 ( )

A. 用户反馈收集

B. 产品维护更新

C. 市场监控

D. 新功能开发

答案: A, B, C, D

231. 以下哪些是智能产品开发中进行用户研究的方法 ( )

A. 焦点小组讨论

B. 用户访谈

C. 情境分析

D. 问卷调查

答案: A, B, C, D

232. 在智能产品开发中，以下哪些是产品原型的作用（ ）
- A. 验证设计概念
  - B. 测试用户交互
  - C. 展示产品功能
  - D. 进行市场测试
- 答案：A, B, C, D
233. 以下哪些是智能产品开发中进行技术评估的考虑因素（ ）
- A. 技术成熟度
  - B. 技术兼容性
  - C. 技术成本
  - D. 技术风险
- 答案：A, B, C, D
234. 智能产品开发中，以下哪些是产品安全性测试的内容（ ）
- A. 硬件安全测试
  - B. 软件安全漏洞扫描
  - C. 数据保护措施评估
  - D. 用户隐私泄露风险评估
- 答案：A, B, C, D
235. 在智能产品开发中，以下哪些是产品维护的方面（ ）
- A. 软件更新
  - B. 硬件维修
  - C. 用户支持
  - D. 性能优化
- 答案：A, B, C, D
236. 以下哪些是智能产品开发中进行市场推广的策略（ ）
- A. 社交媒体营销
  - B. 产品演示
  - C. 合作伙伴关系建立
  - D. 用户口碑营销
- 答案：A, B, C, D
237. 智能产品开发中，以下哪些是产品可持续性考虑的因素（ ）
- A. 环境影响
  - B. 能源效率
  - C. 产品回收
  - D. 长期维护能力
- 答案：A, B, C, D
238. 在智能产品开发中，以下哪些是产品合规性需要考虑的方面（ ）
- A. 法律法规遵循
  - B. 行业标准符合
  - C. 用户安全保障
  - D. 知识产权保护
- 答案：A, B, C, D
239. 以下哪些是智能产品开发中进行性能优化的方法（ ）
- A. 算法优化

- B. 硬件加速
- C. 系统资源管理
- D. 用户使用模式分析

答案：A, B, C, D

240. 智能产品开发中，以下哪些是产品上市后评估的指标（ ）

- A. 用户满意度
- B. 市场占有率
- C. 产品故障率
- D. 收益回报率

答案：A, B, C, D

241. 物联网(IoT)的关键技术包括：

- A. RFID 技术
- B. 传感器技术
- C. 云计算
- D. 人工智能

答案：A, B, C, D

242. 物联网中的传感器通常用于：

- A. 收集环境数据
- B. 监测设备状态
- C. 传输数据到其他设备
- D. 控制其他设备

答案：A, B

243. 在物联网中，以下哪些因素影响设备的选择和部署（ ）

- A. 能耗
- B. 连接性
- C. 计算能力
- D. 成本

答案：A, B, C, D

244. 物联网的互操作性要求设备能够：

- A. 使用标准通信协议
- B. 与其他设备和系统兼容
- C. 支持多种数据格式
- D. 易于集成到现有系统中

答案：A, B, C, D

245. 物联网中的大数据分析可以用于：

- A. 预测维护
- B. 用户行为分析
- C. 优化资源分配
- D. 增强决策支持

答案：A, B, C, D

246. 物联网设备的安全措施包括：

- A. 数据加密
- B. 安全的通信协议
- C. 定期的安全更新

D. 用户身份验证

答案：A, B, C, D

247. 物联网平台的主要功能包括：

- A. 设备管理
- B. 数据收集和处理
- C. 应用开发和部署
- D. 用户界面定制

答案：A, B, C, D

248. 物联网中的 M2M 通信涉及：

- A. 机器之间的数据交换
- B. 机器之间的控制信号传输
- C. 机器自主决策的实现
- D. 机器的自我维护

答案：A, B, C

249. 物联网的可扩展性体现在：

- A. 支持大量设备连接
- B. 容易添加新设备和服务
- C. 能够处理不断增长的数据量
- D. 系统架构的灵活性

答案：A, B, C, D

250. 物联网中的边缘计算可以：

- A. 减少延迟
- B. 提高数据处理速度
- C. 降低带宽使用
- D. 增强数据安全性

答案：A, B, C, D

251. 物联网设备通常需要哪些类型的维护（ ）

- A. 软件更新
- B. 硬件检查
- C. 网络安全评估
- D. 性能监控

答案：A, B, C, D

252. 物联网中的智能城市应用包括：

- A. 智能交通系统
- B. 智能照明控制
- C. 智能停车解决方案
- D. 智能废物管理

答案：A, B, C, D

253. 物联网在农业中的应用可以：

- A. 监测作物生长条件
- B. 优化灌溉系统
- C. 提高作物产量
- D. 减少资源浪费

答案：A, B, C, D

254. 物联网在工业自动化中的作用包括:

- A. 预测设备故障
- B. 自动化流程控制
- C. 提高生产效率
- D. 减少人工干预

答案: A, B, C, D

255. 物联网在智能家居中的应用可以:

- A. 实现远程控制
- B. 优化能源使用
- C. 提高家庭安全
- D. 个性化居住环境

答案: A, B, C, D

256. 物联网在医疗保健中的应用可以:

- A. 远程患者监护
- B. 药物管理
- C. 健康数据分析
- D. 紧急响应系统

答案: A, B, C, D

257. 物联网在零售业中的应用可以:

- A. 提高库存管理效率
- B. 个性化顾客体验
- C. 优化供应链管理
- D. 防止货物丢失

答案: A, B, C, D

258. 物联网在环境监测中的应用可以:

- A. 监测空气质量
- B. 检测水质污染
- C. 跟踪野生动物
- D. 灾害预警系统

答案: A, B, C, D

259. 物联网在能源管理中的应用可以:

- A. 智能电网管理
- B. 能源消耗分析
- C. 需求响应系统
- D. 可再生能源集成

答案: A, B, C, D

260. 物联网在物流和供应链中的应用可以:

- A. 货物追踪
- B. 优化运输路线
- C. 库存管理
- D. 预测性维护

答案: A, B, C, D

261. 物联网设备的数据收集可以通过以下方式:

- A. 内置传感器

- B. 外部传感器
- C. 用户输入
- D. 其他设备的数据交换

答案: A, B, C, D

262. 物联网设备的通信方式包括:

- A. WiFi
- B. 蓝牙
- C. 蜂窝网络
- D. ZigBee

答案: A, B, C, D

263. 物联网设备的数据存储解决方案包括:

- A. 本地存储
- B. 云存储
- C. 分布式存储
- D. 边缘存储

答案: A, B, C, D

264. 物联网设备的数据分析方法包括:

- A. 实时分析
- B. 批量分析
- C. 流分析
- D. 预测分析

答案: A, B, C, D

265. 物联网设备的用户界面可以包括:

- A. 移动应用
- B. 网页界面
- C. 语音控制
- D. 物理控制面板

答案: A, B, C, D

266. 物联网设备的安全性考虑包括:

- A. 防御 DDoS 攻击
- B. 防止数据泄露
- C. 防御恶意软件
- D. 用户隐私保护

答案: A, B, C, D

267. 物联网设备的能效管理可以通过以下方式实现:

- A. 低功耗硬件
- B. 电源管理软件
- C. 能源收集技术
- D. 智能调度算法

答案: A, B, C, D

268. 物联网设备的可扩展性可以通过以下方式实现:

- A. 模块化设计
- B. 可升级硬件
- C. 支持多种通信协议

D. 灵活的软件架构

答案: A, B, C, D

269. 物联网设备的维护策略包括:

- A. 定期检查
- B. 远程故障排除
- C. 现场维修服务
- D. 自我修复技术

答案: A, B, C, D

270. 物联网设备的开发考虑因素包括:

- A. 用户需求分析
- B. 技术可行性
- C. 成本效益分析
- D. 法规遵从性

答案: A, B, C, D

271. 智能控制技术通常包括以下哪些领域 ( )

- A. 模糊逻辑控制
- B. 神经网络控制
- C. 遗传算法
- D. 专家系统

答案: A, B, C, D

272. 模糊逻辑控制器可以处理以下哪些问题 ( )

- A. 非线性问题
- B. 时延问题
- C. 不确定性问题
- D. 多变量问题

答案: A, C, D

273. 神经网络在智能控制中的应用包括:

- A. 模式识别
- B. 预测控制
- C. 自适应控制
- D. 优化算法

答案: A, B, C, D

274. 智能控制系统设计时需要考虑以下哪些因素 ( )

- A. 系统性能
- B. 成本效益
- C. 操作简便性
- D. 维护容易度

答案: A, B, C, D

275. 智能控制技术可以应用于以下哪些系统 ( )

- A. 工业自动化
- B. 智能家居
- C. 无人驾驶汽车
- D. 航空航天

答案: A, B, C, D

276. 遗传算法在智能控制中主要用于:

- A. 参数优化
- B. 控制律设计
- C. 模式搜索
- D. 学习控制

答案: A, B, C, D

277. 专家系统在智能控制中的作用包括:

- A. 提供决策支持
- B. 模拟专家决策过程
- C. 处理复杂问题
- D. 自我学习和进化

答案: A, B, C

278. 智能控制技术中的自适应控制可以:

- A. 适应环境变化
- B. 调整控制参数
- C. 处理未知动态
- D. 优化控制策略

答案: A, B, C, D

279. 智能控制系统的学习能力可以通过以下哪些方式实现 ( )

- A. 监督学习
- B. 无监督学习
- C. 强化学习
- D. 遗传算法

答案: A, B, C, D

280. 智能控制技术在机器人中的应用包括:

- A. 自主导航
- B. 物体识别与操作
- C. 环境感知与适应
- D. 人机交互

答案: A, B, C, D

281. 智能控制技术中的传感器融合可以:

- A. 提高数据准确性
- B. 增强系统鲁棒性
- C. 扩展感知范围
- D. 降低成本

答案: A, B, C

282. 智能控制技术中的预测控制可以:

- A. 减少过冲
- B. 提高响应速度
- C. 优化资源使用
- D. 增强系统稳定性

答案: A, B, C, D

283. 智能控制技术中的优化算法可以应用于:

- A. 控制参数调整



- B. 系统性能提升
- C. 能耗最小化
- D. 设计自动化

答案: A, B, C, D

284. 智能控制技术在智能电网中的应用包括:

- A. 负荷预测
- B. 能源管理
- C. 故障检测与诊断
- D. 需求响应

答案: A, B, C, D

285. 智能控制技术在航空航天领域的应用包括:

- A. 飞行器自主导航
- B. 飞行路径优化
- C. 故障检测与恢复
- D. 航天器对接

答案: A, B, C, D

286. 智能控制技术在智能制造中的应用包括:

- A. 生产线自动化
- B. 产品质量控制
- C. 设备预测性维护
- D. 供应链优化

答案: A, B, C, D

287. 智能控制技术在交通管理中的应用包括:

- A. 交通流量控制
- B. 车辆导航与跟踪
- C. 事故预防与响应
- D. 交通信号优化

答案: A, B, C, D

288. 智能控制技术在环境监测中的应用包括:

- A. 污染源识别
- B. 环境质量评估
- C. 灾害预警
- D. 资源管理

答案: A, B, C, D

289. 智能控制技术在医疗设备中的应用包括:

- A. 患者监护
- B. 药物输送系统
- C. 诊断辅助
- D. 手术机器人

答案: A, B, C, D

290. 智能控制技术在农业自动化中的应用包括:

- A. 作物监测
- B. 精准灌溉
- C. 病虫害防治

D. 收获自动化

答案: A, B, C, D

291. 智能控制技术在金融领域的应用包括:

- A. 风险管理
- B. 欺诈检测
- C. 投资策略优化
- D. 自动化交易

答案: A, B, C, D

292. 智能控制技术在安全监控中的应用包括:

- A. 异常行为检测
- B. 人脸识别
- C. 访问控制
- D. 事件响应

答案: A, B, C, D

293. 智能控制技术在能源管理中的应用包括:

- A. 能源消耗分析
- B. 需求侧管理
- C. 可再生能源集成
- D. 能源效率优化

答案: A, B, C, D

294. 智能控制技术在通信网络中的应用包括:

- A. 网络流量控制
- B. 数据包路由优化
- C. 网络故障检测
- D. 服务质量保证

答案: A, B, C, D

295. 智能控制技术在物流管理中的应用包括:

- A. 货物追踪
- B. 运输优化
- C. 库存管理
- D. 配送路线规划

答案: A, B, C, D

296. 智能控制技术在建筑设计中的应用包括:

- A. 能源效率分析
- B. 环境控制系统
- C. 安全监测
- D. 维护调度

答案: A, B, C, D

297. 智能控制技术在水处理中的应用包括:

- A. 水质监测
- B. 处理流程控制
- C. 资源回收
- D. 灾害响应

答案: A, B, C, D

298. 智能控制技术在电力系统中的应用包括:

- A. 发电优化
- B. 输电损耗降低
- C. 配电自动化
- D. 用电需求管理

答案: A, B, C, D

299. 智能控制技术在石油和天然气行业中的应用包括:

- A. 钻井优化
- B. 管道监测
- C. 泄漏检测
- D. 生产调度

答案: A, B, C, D

300. 智能控制技术在教育领域的应用包括:

- A. 个性化学习路径
- B. 智能辅导系统
- C. 教学效果评估
- D. 虚拟实验室

答案: A, B, C, D

301. 机电一体化系统通常包括以下哪些组件 ( )

- A. 传感器
- B. 执行器
- C. 控制器
- D. 动力源

答案: A, B, C, D

302. 在机电一体化中, 传感器的作用包括:

- A. 检测物理量
- B. 转换信号
- C. 放大信号
- D. 处理数据

答案: A, B

303. 以下哪些属于机电一体化系统中的执行器 ( )

- A. 电机
- B. 液压缸
- C. 气缸
- D. 变速器

答案: A, B, C

304. 机电一体化系统中的控制器可以是:

- A. PLC
- B. 微控制器
- C. 计算机
- D. 以上都是

答案: A, B, C, D

305. 在机电一体化中, 以下哪些属于传动装置 ( )

- A. 齿轮

- B. 皮带
- C. 链条
- D. 联轴器

答案：A, B, C, D

306. 机电一体化系统中的传感器可以测量以下哪些物理量 ( )

- A. 温度
- B. 压力
- C. 位移
- D. 力

答案：A, B, C, D

307. 以下哪些因素会影响机电一体化系统的性能 ( )

- A. 组件精度
- B. 控制算法
- C. 系统稳定性
- D. 环境条件

答案：A, B, C, D

308. 机电一体化系统中的伺服电机可以用于：

- A. 精确位置控制
- B. 速度控制
- C. 转矩控制
- D. 所有选项都是

答案：A, B, C, D

309. 在机电一体化中，步进电机的特点包括：

- A. 精确控制
- B. 易于维护
- C. 响应速度快
- D. 所有选项都是

答案：A, B, C

310. 以下哪些是机电一体化系统中常用的传感器类型 ( )

- A. 光电传感器
- B. 接近传感器
- C. 电容传感器
- D. 超声波传感器

答案：A, B, C, D

311. 机电一体化系统中的液压系统可以用于：

- A. 产生大力量
- B. 精确控制速度
- C. 实现复杂运动
- D. 以上都是

答案：A, B, C

312. 以下哪些元件可以用于机电一体化系统中的信号处理 ( )

- A. 放大器
- B. 滤波器
- C. 模数转换器

D. 所有选项都是

答案: A, B, C, D

313. 机电一体化系统中的气动系统的优点包括:

A. 清洁

B. 安全

C. 易于控制

D. 所有选项都是

答案: A, B, C, D

314. 在机电一体化中, 以下哪些属于控制策略 ( )

A. 开环控制

B. 闭环控制

C. 比例控制

D. 模糊控制

答案: A, B, C, D

315. 以下哪些是机电一体化系统中的测量设备 ( )

A. 卡尺

B. 千分尺

C. 力矩扳手

D. 所有选项都是

答案: A, B, C

316. 机电一体化系统中的电磁兼容性 (EMC) 设计需要考虑:

A. 干扰源

B. 传播路径

C. 敏感设备

D. 所有选项都是

答案: A, B, C, D

317. 以下哪些是机电一体化系统中的自动化设备 ( )

A. 机器人

B. CNC 机床

C. 自动装配线

D. 所有选项都是

答案: A, B, C, D

318. 机电一体化系统中的传动效率可以受到以下哪些因素的影响 ( )

A. 传动方式

B. 润滑条件

C. 负载特性

D. 所有选项都是

答案: A, B, C, D

319. 在机电一体化中, 以下哪些属于非接触式传感器 ( )

A. 超声波传感器

B. 光电传感器

C. 接近传感器

D. 所有选项都是

答案: A, B, C, D

320. 以下哪些因素会影响机电一体化系统的可靠性 ( )

- A. 组件质量
- B. 维护保养
- C. 工作环境
- D. 所有选项都是

答案: A, B, C, D

321. 机电一体化系统中的伺服控制系统可以用于:

- A. 精确定位
- B. 速度控制
- C. 转矩控制
- D. 所有选项都是

答案: A, B, C, D

322. 以下哪些是机电一体化系统中常用的测量技术 ( )

- A. 激光测量
- B. 编码器测量
- C. 应变片测量
- D. 所有选项都是

答案: A, B, C, D

323. 在机电一体化中, 以下哪些属于控制理论的应用 ( )

- A. PID 控制
- B. 模糊控制
- C. 神经网络控制
- D. 所有选项都是

答案: A, B, C, D

324. 以下哪些是机电一体化系统中的信号接口 ( )

- A. 模拟信号接口
- B. 数字信号接口
- C. 通信协议接口
- D. 所有选项都是

答案: A, B, C, D

325. 机电一体化系统中的机器人可以用于:

- A. 物料搬运
- B. 焊接
- C. 喷涂
- D. 所有选项都是

答案: A, B, C, D

326. 以下哪些是机电一体化系统中的驱动技术 ( )

- A. 电动驱动
- B. 液压驱动
- C. 气动驱动
- D. 所有选项都是

答案: A, B, C, D

327. 机电一体化系统中的自动化装配线包括以下哪些部分 ( )

- A. 传送带

- B. 机器人
- C. 控制系统
- D. 所有选项都是

答案: A, B, C, D

328. 以下哪些是机电一体化系统中的测试与检测技术 ( )

- A. 振动测试
- B. 噪声测试
- C. 性能测试
- D. 所有选项都是

答案: A, B, C, D

329. 机电一体化系统中的故障诊断技术包括:

- A. 基于规则的诊断
- B. 基于模型的诊断
- C. 基于案例的诊断
- D. 所有选项都是

答案: A, B, C, D

330. 以下哪些是机电一体化系统中的能效优化措施 ( )

- A. 使用高效电机
- B. 优化控制策略
- C. 减少能量损耗
- D. 所有选项都是

答案: A, B, C, D

331. 智能制造的关键技术包括:

- A. 物联网(IoT)
- B. 大数据分析
- C. 人工智能
- D. 机器人技术

答案: A, B, C, D

332. 工业 4.0 的核心特征包括:

- A. 互操作性
- B. 虚拟网络实体系统
- C. 去中心化
- D. 实时性

答案: A, B, C, D

333. 在智能制造中, 数字孪生技术可以用于:

- A. 产品设计
- B. 过程模拟
- C. 性能预测
- D. 故障诊断

答案: A, B, C, D

334. 智能制造中的数据分析可以带来以下好处:

- A. 提高生产效率
- B. 降低生产成本
- C. 优化产品质量

D. 增强决策能力

答案：A, B, C, D

335. 智能制造中的自动化技术可以应用于：

A. 自动装配

B. 自动检测

C. 自动包装

D. 自动物流

答案：A, B, C, D

336. 智能制造中的机器学习算法可以用于：

A. 预测维护

B. 质量控制

C. 生产调度

D. 能源管理

答案：A, B, C, D

337. 智能制造中的虚拟现实(VR)技术可以用于：

A. 员工培训

B. 产品设计

C. 客户展示

D. 过程模拟

答案：A, B, C, D

338. 智能制造中的网络安全措施包括：

A. 防火墙

B. 加密技术

C. 入侵检测系统

D. 安全协议

答案：A, B, C, D

339. 智能制造中的供应链管理涉及：

A. 供应商管理

B. 库存控制

C. 物流优化

D. 需求预测

答案：A, B, C, D

340. 智能制造中的自适应控制系统可以：

A. 自动调整生产参数

B. 应对生产波动

C. 优化生产过程

D. 减少人为干预

答案：A, B, C, D

341. 智能制造中的机器人技术可以用于：

A. 焊接

B. 喷涂

C. 搬运

D. 分拣

答案：A, B, C, D



342. 智能制造中的传感器技术可以用于:

- A. 监测设备状态
- B. 收集生产数据
- C. 实现精准控制
- D. 环境监测

答案: A, B, C, D

343. 智能制造中的云计算技术可以提供:

- A. 数据存储
- B. 计算能力
- C. 软件服务
- D. 网络连接

答案: A, B, C, D

344. 智能制造中的增材制造技术包括:

- A. 3D 打印
- B. 激光熔化
- C. 电子束熔化
- D. 所有选项都是

答案: A, B, C, D

345. 智能制造中的质量管理可以通过以下方式实现:

- A. 在线检测
- B. 统计过程控制
- C. 六西格玛方法
- D. 故障分析

答案: A, B, C, D

346. 智能制造中的生产调度需要考虑:

- A. 订单优先级
- B. 生产能力
- C. 物料供应
- D. 机器状态

答案: A, B, C, D

347. 智能制造中的能源管理系统可以:

- A. 监控能耗
- B. 优化能源使用
- C. 减少浪费
- D. 提高能效

答案: A, B, C, D

348. 智能制造中的预测性维护可以:

- A. 减少意外停机
- B. 延长设备寿命
- C. 降低维护成本
- D. 提高生产效率

答案: A, B, C, D

349. 智能制造中的客户关系管理 (CRM) 可以:

- A. 提高客户满意度

- B. 增强客户忠诚度
- C. 优化销售流程
- D. 收集市场信息

答案: A, B, C, D

350. 智能制造中的企业资源计划(ERP)系统可以:

- A. 集成企业信息
- B. 优化资源分配
- C. 提高运营效率
- D. 支持决策制定

答案: A, B, C, D

351. 智能制造中的精益生产方法旨在:

- A. 减少浪费
- B. 提高生产效率
- C. 增强生产灵活性
- D. 优化生产流程

答案: A, B, C, D

352. 智能制造中的供应链优化可以:

- A. 降低库存成本
- B. 提高供应链响应速度
- C. 增强供应链透明度
- D. 改善供应商关系

答案: A, B, C, D

353. 智能制造中的产品设计可以采用:

- A. 计算机辅助设计(CAD)
- B. 计算机辅助工程(CAE)
- C. 计算机辅助制造(CAM)
- D. 所有选项都是

答案: A, B, C, D

354. 智能制造中的生产执行系统(MES)可以:

- A. 监控生产过程
- B. 管理生产数据
- C. 指导生产作业
- D. 优化生产计划

答案: A, B, C, D

355. 智能制造中的质量管理体系可以:

- A. 实现质量控制
- B. 跟踪产品缺陷
- C. 收集质量数据
- D. 支持质量改进

答案: A, B, C, D

356. 智能制造中的智能物流系统可以:

- A. 提高物流效率
- B. 减少物流成本
- C. 实现自动化配送

D. 优化库存管理

答案: A, B, C, D

357. 智能制造中的设备管理系统可以:

- A. 监控设备状态
- B. 预测设备故障
- C. 管理设备维护
- D. 提高设备利用率

答案: A, B, C, D

358. 智能制造中的环境监测系统可以:

- A. 检测环境参数
- B. 确保生产安全
- C. 优化能源使用
- D. 符合环保标准

答案: A, B, C, D

359. 智能制造中的客户定制化生产可以:

- A. 提高客户满意度
- B. 增强产品多样性
- C. 降低生产成本
- D. 提升市场竞争力

答案: A, B, D

360. 智能制造中的人才培养需要:

- A. 跨学科知识
- B. 技术技能
- C. 创新能力
- D. 团队合作

答案: A, B, C, D

361. 增材制造技术相对于传统制造技术的优势包括:

- A. 设计灵活性高
- B. 材料利用率高
- C. 适合快速原型制造
- D. 生产成本较低

答案: A, B, C

362. 增材制造技术可以应用于以下哪些领域:

- A. 航空航天
- B. 医疗
- C. 汽车
- D. 建筑

答案: A, B, C, D

363. 以下哪些属于增材制造技术的常见工艺:

- A. 熔融沉积成型 (FDM)
- B. 选择性激光烧结 (SLS)
- C. 数字光处理 (DLP)
- D. 电子束熔化 (EBM)

答案: A, B, C, D

364. 增材制造技术中使用的常见材料包括:

- A. 塑料
- B. 金属
- C. 陶瓷
- D. 复合材料

答案: A, B, C, D

365. 增材制造技术在医疗领域的应用包括:

- A. 定制化假肢
- B. 人体植入物
- C. 手术模型
- D. 牙科修复

答案: A, B, C, D

366. 以下哪些因素会影响增材制造过程的质量:

- A. 材料特性
- B. 设备精度
- C. 工艺参数
- D. 操作者技能

答案: A, B, C, D

367. 增材制造技术在航空航天领域的应用包括:

- A. 轻质结构件
- B. 复杂几何形状部件
- C. 功能梯度材料
- D. 快速原型制造

答案: A, B, C, D

368. 以下哪些是增材制造技术中常见的后处理工序:

- A. 去除支撑结构
- B. 表面打磨
- C. 热处理
- D. 涂装

答案: A, B, C, D

369. 增材制造技术在汽车行业的应用包括:

- A. 原型制造
- B. 工具制造
- C. 零部件生产
- D. 定制化配件

答案: A, B, C, D

370. 以下哪些是增材制造技术中可能遇到的挑战:

- A. 成本控制
- B. 材料限制
- C. 生产速度
- D. 后处理复杂性

答案: A, B, C, D

371. 增材制造技术在建筑领域的应用包括:

- A. 建筑模型

- B. 定制化构件
- C. 复杂结构
- D. 快速施工

答案：A, B, C, D

372. 以下哪些是增材制造技术中常用的支撑材料：

- A. 可溶性材料
- B. 可剥离材料
- C. 可燃烧材料
- D. 可降解材料

答案：A, B, C, D

373. 增材制造技术在电子行业的应用包括：

- A. 电路板制造
- B. 传感器制造
- C. 复杂电子组件
- D. 快速原型开发

答案：A, B, C, D

374. 以下哪些因素会影响增材制造的精度：

- A. 打印分辨率
- B. 材料收缩率
- C. 设备稳定性
- D. 环境条件

答案：A, B, C, D

375. 增材制造技术在珠宝设计的应用包括：

- A. 定制化珠宝
- B. 复杂设计
- C. 快速原型
- D. 低成本生产

答案：A, B, C

376. 以下哪些是增材制造技术中常见的设计考虑：

- A. 支撑结构设计
- B. 避免过度悬空
- C. 材料选择
- D. 层厚设置

答案：A, B, C, D

377. 增材制造技术在文物复制的应用包括：

- A. 精确复制
- B. 复杂形状复制
- C. 快速原型
- D. 低成本复制

答案：A, B, C, D

378. 以下哪些是增材制造技术中可能用到的软件工具：

- A. 3D 建模软件
- B. 切片软件
- C. 模型修复工具

D. 支撑生成工具

答案: A, B, C, D

379. 增材制造技术在个性化产品制造的应用包括:

A. 定制化鞋垫

B. 定制化手机壳

C. 定制化眼镜

D. 定制化汽车零件

答案: A, B, C, D

380. 以下哪些是增材制造技术中的关键工艺参数:

A. 打印速度

B. 打印温度

C. 层厚

D. 填充密度

答案: A, B, C, D

381. 增材制造技术在教育领域的应用包括:

A. 教学模型

B. 学生项目

C. 快速原型开发

D. 教育工具

答案: A, B, C, D

382. 以下哪些是增材制造技术中常见的质量问题:

A. 层间粘合不良

B. 支撑结构痕迹

C. 表面粗糙

D. 尺寸精度不足

答案: A, B, C, D

383. 增材制造技术在食品行业的应用包括:

A. 定制化糖果

B. 食品模型

C. 快速原型

D. 食品包装

答案: A, B, C, D

384. 以下哪些是增材制造技术中用于提高生产效率的方法:

A. 多喷头打印

B. 增加打印速度

C. 优化打印路径

D. 使用更大尺寸的打印平台

答案: A, B, C, D

385. 增材制造技术在时尚设计的应用包括:

A. 定制化服装

B. 时尚配饰

C. 快速原型

D. 复杂图案设计

答案: A, B, C, D

386. 以下哪些是增材制造技术中用于提高表面质量的方法:

- A. 后处理打磨
- B. 使用高分辨率打印
- C. 表面涂层
- D. 优化打印参数

答案: A, B, C, D

387. 增材制造技术在家具制造的应用包括:

- A. 定制化家具
- B. 复杂形状家具
- C. 快速原型
- D. 批量生产

答案: A, B, C

388. 以下哪些是增材制造技术中用于提高机械性能的方法:

- A. 优化打印方向
- B. 使用高强度材料
- C. 后处理强化
- D. 增加打印层厚

答案: A, B, C

389. 增材制造技术在玩具制造的应用包括:

- A. 定制化玩具
- B. 复杂形状玩具
- C. 快速原型
- D. 教育玩具

答案: A, B, C, D

390. 以下哪些是增材制造技术中用于提高生产安全性的措施:

- A. 使用安全软件
- B. 设备安全培训
- C. 遵守操作规程
- D. 使用安全防护设备

答案: A, B, C, D

391. 作业策划应考虑以下哪些因素 ( )

- A. 目标市场分析
- B. 资源分配
- C. 风险评估
- D. 时间规划

答案: A, B, C, D

392. 在产品先期质量策划中, 以下哪些活动是必要的 ( )

- A. 质量目标设定
- B. 潜在故障分析
- C. 工艺流程设计
- D. 质量控制计划

答案: A, B, C, D

393. 物料管控的关键环节包括:

- A. 物料需求计划

- B. 供应商管理
- C. 库存控制
- D. 物料使用监控

答案：A, B, C, D

394. 设备造型设计时需要考虑以下哪些方面（ ）

- A. 用户操作便利性
- B. 设备安全性
- C. 维护和清洁的便利性
- D. 设备耐用性

答案：A, B, C, D

395. 工艺文件编制规范应包括以下哪些内容（ ）

- A. 工艺流程图
- B. 操作指导书
- C. 质量控制标准
- D. 安全操作规程

答案：A, B, C, D

396. 零部件管理规范中应包括以下哪些要素（ ）

- A. 零部件规格和性能要求
- B. 零部件验收标准
- C. 零部件存储条件
- D. 零部件更换和报废流程

答案：A, B, C, D

397. 计量和检测仪器管理包括以下哪些方面（ ）

- A. 仪器的校准和维护
- B. 仪器使用 and 操作规程
- C. 测量数据的记录和分析
- D. 仪器的选购和报废

答案：A, B, C, D

398. 在作业策划中，以下哪些风险需要评估（ ）

- A. 市场风险
- B. 技术风险
- C. 财务风险
- D. 法律风险

答案：A, B, C, D

399. 产品先期质量策划中，以下哪些措施有助于提升产品质量（ ）

- A. 故障模式与影响分析(FMEA)
- B. 质量功能展开(QFD)
- C. 统计过程控制(SPC)
- D. 六西格玛管理法

答案：A, B, C, D

400. 物料管控中，以下哪些因素会影响库存水平（ ）

- A. 物料需求预测
- B. 物料采购周期
- C. 生产计划



D. 供应商的供货稳定性

答案：A, B, C, D

401. 设备造型设计应遵循以下哪些原则（ ）

- A. 人体工程学
- B. 美观性
- C. 功能性
- D. 经济性

答案：A, B, C, D

402. 工艺文件编制规范中，以下哪些是工艺文件的基本要求（ ）

- A. 清晰性
- B. 准确性
- C. 完整性
- D. 可操作性

答案：A, B, C, D

403. 零部件管理规范中，以下哪些措施有助于保证零部件质量（ ）

- A. 供应商质量审核
- B. 严格的进货检验
- C. 定期的零部件质量评估
- D. 零部件追溯体系

答案：A, B, C, D

404. 计量和检测仪器的选择应考虑以下哪些因素（ ）

- A. 测量范围
- B. 测量精度
- C. 仪器的稳定性
- D. 仪器的成本效益

答案：A, B, C, D

405. 在作业策划中，以下哪些是关键里程碑事件（ ）

- A. 项目启动
- B. 关键阶段完成
- C. 风险评估结果
- D. 项目交付

答案：A, B, D

406. 产品先期质量策划中，以下哪些活动有助于识别潜在质量问题（ ）

- A. 质量会议
- B. 客户反馈收集
- C. 产品设计评审
- D. 原型测试

答案：A, B, C, D

407. 物料管控中，以下哪些措施有助于减少库存成本（ ）

- A. 采用及时生产(JIT)方法
- B. 优化物料采购计划
- C. 定期进行库存盘点
- D. 实施库存控制策略

答案：A, B, C, D

408. 设备造型设计中，以下哪些因素会影响设备的操作安全性（ ）

- A. 设备的尺寸和形状
- B. 设备的材质
- C. 设备的操作界面
- D. 设备的颜色

答案：A, B, C

409. 工艺文件编制规范中，以下哪些是工艺变更管理的内容（ ）

- A. 变更原因记录
- B. 变更影响评估
- C. 变更审批流程
- D. 变更后文件更新

答案：A, B, C, D

410. 零部件管理规范中，以下哪些是供应商评估的关键指标（ ）

- A. 交付准时率
- B. 产品质量合格率
- C. 供应商的响应速度
- D. 供应商的财务稳定性

答案：A, B, C, D

411. 计量和检测仪器的校准周期应考虑以下哪些因素（ ）

- A. 仪器的使用频率
- B. 仪器的精度等级
- C. 测量结果的重要性
- D. 仪器制造商的建议

答案：A, B, C, D

412. 在作业策划中，以下哪些是项目风险管理的策略（ ）

- A. 风险识别
- B. 风险评估
- C. 风险控制
- D. 风险转移

答案：A, B, C, D

413. 产品先期质量策划中，以下哪些是质量保证的措施（ ）

- A. 供应商质量控制
- B. 过程质量控制
- C. 出货质量控制
- D. 客户质量反馈

答案：A, B, C, D

414. 物料管控中，以下哪些是物料需求计划的关键输入（ ）

- A. 生产计划
- B. 库存水平
- C. 采购前置时间
- D. 供应商交货能力

答案：A, B, C, D

415. 设备造型设计中，以下哪些是设备维护的考虑因素（ ）

- A. 设备的可维护性设计

- B. 维护工具的可用性
- C. 维护成本
- D. 维护周期

答案：A, B, C, D

416. 工艺文件编制规范中，以下哪些是工艺评审的内容（ ）

- A. 工艺文件的完整性
- B. 工艺文件的可操作性
- C. 工艺文件的准确性
- D. 工艺文件的符合性

答案：A, B, C, D

417. 零部件管理规范中，以下哪些是零部件存储管理的要求（ ）

- A. 适当的存储环境
- B. 明确的存储标识
- C. 定期的存储检查
- D. 存储区域的安全

答案：A, B, C, D

418. 计量和检测仪器的维护包括以下哪些方面（ ）

- A. 定期的清洁
- B. 定期的校准
- C. 预防性维护
- D. 损坏部件的更换

答案：A, B, C, D

419. 在作业策划中，以下哪些是项目时间管理的工具（ ）

- A. 甘特图
- B. 里程碑图
- C. 网络图
- D. 看板

答案：A, B, C, D

420. 产品先期质量策划中，以下哪些是产品验证的步骤（ ）

- A. 设计验证
- B. 过程验证
- C. 产品确认
- D. 客户验收

答案：A, B, C, D

421. 机械设计中，需要考虑的静态负载包括：

- A. 重力
- B. 惯性力
- C. 摩擦力
- D. 外力

答案：A, D

422. 在机械设计中，动态负载可能包括：

- A. 振动力
- B. 冲击载荷
- C. 离心力

D. 所有选项都是

答案: A, B, C

423. 机械设计中, 以下哪些因素会影响材料的选择:

- A. 负载类型
- B. 环境条件
- C. 成本限制
- D. 材料的加工性能

答案: A, B, C, D

424. 机械设计中, 以下哪些属于常见的失效模式:

- A. 疲劳
- B. 磨损
- C. 断裂
- D. 腐蚀

答案: A, B, C, D

425. 机械设计中, 以下哪些属于材料的机械性能:

- A. 强度
- B. 硬度
- C. 韧性
- D. 塑性

答案: A, B, C, D

426. 在机械设计中, 以下哪些属于精度要求:

- A. 尺寸精度
- B. 形状精度
- C. 位置精度
- D. 所有选项都是

答案: A, B, C, D

427. 机械设计中, 以下哪些属于常见的传动方式:

- A. 齿轮传动
- B. 皮带传动
- C. 链传动
- D. 液压传动

答案: A, B, C, D

428. 在机械设计中, 以下哪些因素会影响齿轮的选择:

- A. 传递的扭矩
- B. 速度比
- C. 空间限制
- D. 效率要求

答案: A, B, C, D

429. 机械设计中, 以下哪些属于轴承的类型:

- A. 滚动轴承
- B. 滑动轴承
- C. 液体动力轴承
- D. 所有选项都是

答案: A, B, C

430. 以下哪些因素会影响轴承寿命:

- A. 负载大小
- B. 旋转速度
- C. 润滑条件
- D. 轴承材料

答案: A, B, C, D

431. 机械设计中, 以下哪些属于连接方式:

- A. 焊接
- B. 铆接
- C. 螺栓连接
- D. 所有选项都是

答案: A, B, C, D

432. 在机械设计中, 以下哪些属于密封类型:

- A. 静态密封
- B. 动态密封
- C. 机械密封
- D. 所有选项都是

答案: A, B, C

433. 机械设计中, 以下哪些因素会影响密封的选择:

- A. 介质类型
- B. 压力等级
- C. 温度范围
- D. 所有选项都是

答案: A, B, C, D

434. 以下哪些属于机械设计中的运动副类型:

- A. 转动副
- B. 滑动副
- C. 螺旋副
- D. 所有选项都是

答案: A, B, C

435. 机械设计中, 以下哪些属于常见的机械臂类型:

- A. 铰链机械臂
- B. 伸缩机械臂
- C. 液压机械臂
- D. 所有选项都是

答案: A, B, C

436. 机械设计中, 以下哪些属于减震和消声的措施:

- A. 使用减震器
- B. 增加隔音材料
- C. 设计隔振基础
- D. 所有选项都是

答案: A, B, C, D

437. 以下哪些属于机械设计中的运动学分析:

- A. 速度分析

- B. 加速度分析
- C. 位移分析
- D. 所有选项都是

答案: A, B, C, D

438. 机械设计中, 以下哪些属于动力学分析:

- A. 惯性力分析
- B. 外力分析
- C. 约束力分析
- D. 所有选项都是

答案: A, B, C, D

439. 机械设计中, 以下哪些因素会影响齿轮的寿命:

- A. 材料选择
- B. 载荷条件
- C. 润滑状态
- D. 齿轮精度

答案: A, B, C, D

440. 以下哪些属于机械设计中的可靠性设计:

- A. 冗余设计
- B. 容错设计
- C. 故障树分析
- D. 所有选项都是

答案: A, B, C, D

441. 机械设计中, 以下哪些属于疲劳失效的原因:

- A. 循环载荷
- B. 材料缺陷
- C. 应力集中
- D. 所有选项都是

答案: A, B, C, D

442. 机械设计中, 以下哪些属于热力学设计:

- A. 热交换器设计
- B. 热应力分析
- C. 温度控制
- D. 所有选项都是

答案: A, B, C, D

443. 以下哪些属于机械设计中的优化设计:

- A. 形状优化
- B. 尺寸优化
- C. 材料优化
- D. 所有选项都是

答案: A, B, C, D

444. 机械设计中, 以下哪些属于创新设计方法:

- A. 仿生设计
- B. 模块化设计
- C. 可持续性设计

D. 所有选项都是

答案: A, B, C, D

445. 机械设计中, 以下哪些属于机械系统的稳定性分析:

A. 静稳定性

B. 动稳定性

C. 热稳定性

D. 所有选项都是

答案: A, B, C

446. 以下哪些属于机械设计中的摩擦和磨损控制:

A. 选择合适的材料配对

B. 应用表面处理技术

C. 优化润滑条件

D. 所有选项都是

答案: A, B, C, D

447. 机械设计中, 以下哪些属于控制系统设计:

A. 传感器选择

B. 控制算法开发

C. 执行器设计

D. 所有选项都是

答案: A, B, C, D

448. 以下哪些属于机械设计中的安全设计:

A. 紧急停机装置

B. 安全警示标识

C. 防护装置

D. 所有选项都是

答案: A, B, C, D

449. 机械设计中, 以下哪些属于环境适应性设计:

A. 防水设计

B. 防尘设计

C. 耐温设计

D. 所有选项都是

答案: A, B, C, D

450. 以下哪些属于机械设计中的维护和修理设计:

A. 设计易拆卸结构

B. 标准化零件使用

C. 模块化设计

D. 所有选项都是

答案: A, B, C, D

451. 机械传动中, 以下哪些方式可以实现无级变速 ( )

A. 齿轮传动

B. 皮带传动

C. 液压传动

D. 可变螺距螺旋桨

答案: B, C

452. 部件装配工艺中，以下哪些因素会影响装配精度（ ）
- A. 部件制造精度
  - B. 装配工具精度
  - C. 操作者技能
  - D. 环境温度
- 答案：A, B, C
453. 密封部件装配优化中，以下哪些措施可以提高密封效果（ ）
- A. 选择合适的密封材料
  - B. 确保密封部件的正确安装
  - C. 定期检查和更换密封部件
  - D. 使用密封剂
- 答案：A, B, C, D
454. 密封设计原理中，以下哪些密封适用于动态密封（ ）
- A. O型圈
  - B. 机械密封
  - C. 油封
  - D. 填料密封
- 答案：A, B, C
455. 电磁屏蔽控制知识中，以下哪些材料能有效屏蔽电磁干扰（ ）
- A. 铝
  - B. 铜
  - C. 铁
  - D. 塑料
- 答案：A, B, C
456. 电控部件装配工艺中，以下哪些措施有助于提高装配质量（ ）
- A. 使用自动化装配线
  - B. 严格的质量控制流程
  - C. 操作者专业培训
  - D. 使用精确的装配工具
- 答案：A, B, C, D
457. 机械传动基础知识中，以下哪些传动方式适用于高负载应用（ ）
- A. 齿轮传动
  - B. 皮带传动
  - C. 链传动
  - D. 蜗轮蜗杆传动
- 答案：A, C, D
458. 部件装配工艺知识中，以下哪些因素会影响装配线的效率（ ）
- A. 装配线设计
  - B. 部件供应的一致性
  - C. 操作者的工作速度
  - D. 装配线维护
- 答案：A, B, C, D
459. 密封部件装配优化知识中，以下哪些因素会影响密封部件的耐久性（ ）
- A. 密封材料的选择



- B. 密封部件的安装方式
- C. 工作环境条件
- D. 密封部件的维护周期

答案：A, B, C, D

460. 密封设计原理中，以下哪些密封设计可以用于高温环境（ ）

- A. 金属密封
- B. 石墨密封
- C. 陶瓷密封
- D. 聚四氟乙烯密封

答案：A, B, C

461. 电磁屏蔽控制知识中，以下哪些措施可以减少电磁干扰（ ）

- A. 使用屏蔽电缆
- B. 增加接地
- C. 使用屏蔽室
- D. 优化电路设计

答案：A, B, C, D

462. 电控部件装配工艺知识中，以下哪些因素会影响电控部件的性能（ ）

- A. 部件的散热设计
- B. 部件的电磁兼容性
- C. 部件的防护等级
- D. 部件的电源稳定性

答案：A, B, C, D

463. 机械传动基础知识中，以下哪些传动方式可以实现反向传动（ ）

- A. 齿轮传动
- B. 皮带传动
- C. 链传动
- D. 蜗轮蜗杆传动

答案：A, D

464. 部件装配工艺知识中，以下哪些因素会影响装配的可重复性（ ）

- A. 装配工具的精度
- B. 装配流程的标准化
- C. 操作者的技能一致性
- D. 装配环境的控制

答案：A, B, C, D

465. 密封部件装配优化知识中，以下哪些密封部件适用于高压环境（ ）

- A. 螺旋密封
- B. 唇形密封
- C. 金属垫片
- D. 组合密封

答案：A, C, D

466. 密封设计原理中，以下哪些密封设计可以用于静态密封（ ）

- A. O型圈
- B. 金属垫片
- C. 填料密封

D. 机械密封

答案: A, B, C

467. 电磁屏蔽控制知识中, 以下哪些因素会影响屏蔽效能 ( )

- A. 屏蔽材料的导电性
- B. 屏蔽层的厚度
- C. 屏蔽层的接地
- D. 屏蔽层的完整性

答案: A, B, C, D

468. 电控部件装配工艺知识中, 以下哪些措施有助于提高电控部件的可靠性 ( )

- A. 严格的质量检测
- B. 适当的散热设计
- C. 良好的电磁兼容性设计
- D. 使用高质量的电子元件

答案: A, B, C, D

469. 机械传动基础知识中, 以下哪些传动方式适用于长距离传动 ( )

- A. 齿轮传动
- B. 皮带传动
- C. 链传动
- D. 蜗轮蜗杆传动

答案: B, C

470. 部件装配工艺知识中, 以下哪些因素会影响装配的稳定性 ( )

- A. 部件的制造公差
- B. 装配时的环境温度
- C. 装配工具的稳定性
- D. 装配工艺的合理性

答案: A, B, C, D

471. 密封部件装配优化知识中, 以下哪些措施可以提高密封部件的安装质量 ( )

- A. 使用专用工具
- B. 严格控制安装扭矩
- C. 采用正确的安装方法
- D. 进行密封部件的预处理

答案: A, B, C, D

472. 密封设计原理中, 以下哪些密封设计适用于旋转轴的密封 ( )

- A. 油封
- B. 机械密封
- C. 填料密封
- D. 浮动密封

答案: A, B, C

473. 电磁屏蔽控制知识中, 以下哪些措施可以提高设备的电磁兼容性 ( )

- A. 使用屏蔽电缆
- B. 优化电路设计
- C. 使用滤波器
- D. 增加接地

答案: A, B, C, D

474. 电控部件装配工艺知识中，以下哪些因素会影响电控部件的抗干扰能力（ ）
- A. 部件的屏蔽设计
  - B. 电路板的布线
  - C. 使用的电子元件质量
  - D. 电源的稳定性

答案：A, B, C, D

475. 机械传动基础知识中，以下哪些传动方式可以实现过载保护（ ）
- A. 齿轮传动
  - B. 皮带传动
  - C. 链传动
  - D. 联轴器传动

答案：B, C, D

476. 部件装配工艺知识中，以下哪些因素会影响装配的安全性（ ）
- A. 装配工具的安全特性
  - B. 操作者的安全培训
  - C. 装配环境的安全措施
  - D. 装配工艺的风险评估

答案：A, B, C, D

477. 密封部件装配优化知识中，以下哪些密封部件适用于高温环境（ ）
- A. 氟橡胶密封圈
  - B. 聚四氟乙烯密封圈
  - C. 金属密封圈
  - D. 硅橡胶密封圈

答案：A, B, C

478. 密封设计原理中，以下哪些密封设计可以用于高压环境（ ）
- A. 金属密封
  - B. 组合密封
  - C. 填料密封
  - D. 机械密封

答案：A, B, D

479. 电磁屏蔽控制知识中，以下哪些因素会影响屏蔽材料的屏蔽效能（ ）
- A. 材料的导电性能
  - B. 材料的厚度
  - C. 材料的磁导率
  - D. 材料的表面处理

答案：A, B, C, D

480. 电控部件装配工艺知识中，以下哪些措施有助于提高电控部件的装配效率（ ）
- A. 采用模块化设计
  - B. 使用自动化装配设备
  - C. 优化装配流程
  - D. 采用快速连接技术

答案：A, B, C, D

481. 先期质量策划(AQP)包括以下哪些阶段（ ）
- A. 项目确定

- B. 风险评估
- C. 过程开发
- D. 生产确认

答案：A, B, C, D

482. 先进制造技术包括以下哪些内容（ ）

- A. 3D 打印
- B. 机器人自动化
- C. 计算机辅助设计 (CAD)
- D. 精益生产

答案：A, B, C, D

483. 机电产品调验工作中，以下哪些测试是必要的（ ）

- A. 性能测试
- B. 安全测试
- C. 环境适应性测试
- D. 寿命测试

答案：A, B, C, D

484. 机电产品性能知识中，以下哪些参数是评估产品性能的关键（ ）

- A. 功率
- B. 效率
- C. 稳定性
- D. 耐久性

答案：A, B, C, D

485. 在先期质量策划中，以下哪些因素需要考虑（ ）

- A. 客户需求
- B. 设计规格
- C. 生产能力
- D. 法规要求

答案：A, B, C, D

486. 先进制造技术可以提高以下哪些方面（ ）

- A. 生产效率
- B. 产品质量
- C. 灵活性
- D. 成本效益

答案：A, B, C, D

487. 机电产品调验工作原理中，以下哪些因素会影响调验结果（ ）

- A. 设备精度
- B. 操作者技能
- C. 测试方法
- D. 环境条件

答案：A, B, C, D

488. 机电产品性能知识中，以下哪些特性是用户通常关心的（ ）

- A. 可靠性
- B. 维护成本
- C. 使用寿命

D. 能效比

答案: A, B, C, D

489. 先期质量策划中, 以下哪些活动有助于识别潜在质量问题 ( )

- A. 质量功能展开(QFD)
- B. 故障模式与影响分析(FMEA)
- C. 过程能力分析
- D. 客户反馈分析

答案: A, B, C, D

490. 先进制造技术在以下哪些领域有广泛应用 ( )

- A. 汽车制造
- B. 航空航天
- C. 医疗器械
- D. 电子行业

答案: A, B, C, D

491. 机电产品调验工作中, 以下哪些设备是常用的测试设备 ( )

- A. 功率计
- B. 振动测试仪
- C. 温度计
- D. 压力计

答案: A, B, C, D

492. 机电产品性能知识中, 以下哪些性能指标对工业机器人尤为重要 ( )

- A. 加速度
- B. 重复定位精度
- C. 负载能力
- D. 工作范围

答案: A, B, C, D

493. 先期质量策划中, 以下哪些措施有助于提高产品质量 ( )

- A. 供应商质量管理
- B. 过程控制
- C. 员工培训
- D. 客户沟通

答案: A, B, C, D

494. 先进制造技术中, 以下哪些技术可以用于提高制造过程的智能化 ( )

- A. 人工智能
- B. 物联网(IoT)
- C. 大数据分析
- D. 机器视觉

答案: A, B, C, D

495. 机电产品调验工作原理中, 以下哪些因素会影响产品的稳定性 ( )

- A. 设计冗余
- B. 材料选择
- C. 制造工艺
- D. 使用环境

答案: A, B, C, D

496. 机电产品性能知识中，以下哪些因素会影响产品的可靠性（ ）

- A. 材料疲劳
- B. 环境应力
- C. 设计缺陷
- D. 制造误差

答案：A, B, C, D

497. 先期质量策划中，以下哪些方法可用于优化产品设计（ ）

- A. 计算机辅助工程(CAE)
- B. 六西格玛设计
- C. 模块化设计
- D. 面向制造的设计(DFM)

答案：A, B, C, D

498. 先进制造技术中，以下哪些技术可以用于提高制造过程的自动化（ ）

- A. 自动化装配线
- B. 机器人技术
- C. 计算机数控(CNC)
- D. 自适应控制系统

答案：A, B, C, D

499. 机电产品调验工作原理中，以下哪些测试是产品性能验证的重要组成部分（ ）

- A. 电气安全测试
- B. 性能一致性测试
- C. 耐久性测试
- D. 兼容性测试

答案：A, B, C, D

500. 机电产品性能知识中，以下哪些性能指标对电机尤为重要（ ）

- A. 转速
- B. 扭矩
- C. 效率
- D. 温升限制

答案：A, B, C, D

501. 先期质量策划中，以下哪些因素会影响产品的成本（ ）

- A. 材料成本
- B. 生产效率
- C. 研发周期
- D. 质量控制

答案：A, B, C, D

502. 先进制造技术中，以下哪些技术可以用于提高制造过程的精确性（ ）

- A. 激光切割
- B. 精密铸造
- C. 计算机辅助制造(CAM)
- D. 精密测量技术

答案：A, B, C, D

503. 机电产品调验工作原理中，以下哪些因素会影响产品的电气性能（ ）

- A. 绝缘材料

- B. 布线方式
- C. 电磁兼容性
- D. 温度控制

答案：A, B, C, D

504. 机电产品性能知识中，以下哪些性能指标对液压系统尤为重要（ ）

- A. 工作压力
- B. 流量控制
- C. 响应时间
- D. 泄漏率

答案：A, B, C, D

505. 先期质量策划中，以下哪些措施有助于减少产品开发周期（ ）

- A. 并行工程
- B. 快速原型制造
- C. 项目管理
- D. 跨部门协作

答案：A, B, C, D

506. 先进制造技术中，以下哪些技术可以用于提高制造过程的灵活性（ ）

- A. 模块化设计
- B. 可重构制造系统
- C. 多用途机床
- D. 定制化生产

答案：A, B, C, D

507. 机电产品调验工作原理中，以下哪些测试可以评估产品的机械性能（ ）

- A. 强度测试
- B. 刚度测试
- C. 耐磨性测试
- D. 动态响应测试

答案：A, B, C, D

508. 机电产品性能知识中，以下哪些性能指标对泵的性能至关重要（ ）

- A. 流量
- B. 扬程
- C. 效率
- D. 噪音水平

答案：A, B, C, D

509. 先期质量策划中，以下哪些因素会影响产品的市场竞争力（ ）

- A. 产品质量
- B. 产品特性
- C. 产品价格
- D. 交付时间

答案：A, B, C, D

510. 先进制造技术中，以下哪些技术可以用于提高制造过程的可持续性（ ）

- A. 绿色制造
- B. 能源管理
- C. 废物回收利用

D. 清洁生产

答案: A, B, C, D

511. 产品检测设计知识中, 以下哪些因素应考虑在内 ( )

- A. 测试环境条件
- B. 测试设备的精度
- C. 测试方法的选择
- D. 测试人员的技能

答案: A, B, C, D

512. 设备故障维修知识中, 以下哪些属于故障诊断的方法 ( )

- A. 视觉检查
- B. 听觉检查
- C. 振动分析
- D. 性能测试

答案: A, B, C, D

513. 产品检测知识中, 以下哪些测试可以评估产品的电气性能 ( )

- A. 绝缘电阻测试
- B. 接地电阻测试
- C. 功率因数测试
- D. 电流测试

答案: A, B, C, D

514. 设备故障维修知识中, 以下哪些因素可能导致设备故障 ( )

- A. 过载运行
- B. 维护不当
- C. 设计缺陷
- D. 操作失误

答案: A, B, C, D

515. 产品检测设计知识中, 以下哪些是测试计划应包含的内容 ( )

- A. 测试目的
- B. 测试范围
- C. 测试方法
- D. 测试结果的评估标准

答案: A, B, C, D

516. 设备故障维修知识中, 以下哪些措施可以预防设备故障 ( )

- A. 定期维护
- B. 使用高质量部件
- C. 操作人员培训
- D. 设备升级

答案: A, B, C, D

517. 产品检测知识中, 以下哪些因素会影响产品的寿命测试结果 ( )

- A. 测试负载
- B. 测试环境
- C. 测试频率
- D. 测试时间

答案: A, B, C, D



518. 设备故障维修知识中，以下哪些是故障修复的常见方法（ ）
- A. 更换损坏部件
  - B. 调整设备设置
  - C. 清洁设备
  - D. 重新校准设备
- 答案：A, B, C, D
519. 产品检测设计知识中，以下哪些是制定测试标准时应考虑的因素（ ）
- A. 行业标准
  - B. 客户需求
  - C. 产品特性
  - D. 安全规范
- 答案：A, B, C, D
520. 设备故障维修知识中，以下哪些工具可用于设备故障诊断（ ）
- A. 万用表
  - B. 示波器
  - C. 红外热像仪
  - D. 振动分析仪
- 答案：A, B, C, D
521. 产品检测知识中，以下哪些测试可以评估产品的机械性能（ ）
- A. 拉伸测试
  - B. 压缩测试
  - C. 硬度测试
  - D. 冲击测试
- 答案：A, B, C, D
522. 设备故障维修知识中，以下哪些因素会影响维修工作的效率（ ）
- A. 维修人员的技能
  - B. 维修工具的可用性
  - C. 维修备件的库存
  - D. 维修流程的标准化
- 答案：A, B, C, D
523. 产品检测设计知识中，以下哪些是测试设备选择时应考虑的因素（ ）
- A. 设备的精度
  - B. 设备的稳定性
  - C. 设备的操作界面
  - D. 设备的维护成本
- 答案：A, B, C, D
524. 设备故障维修知识中，以下哪些是设备维护的常规任务（ ）
- A. 清洁设备
  - B. 检查润滑状况
  - C. 检查磨损部件
  - D. 校准设备
- 答案：A, B, C, D
525. 产品检测知识中，以下哪些测试可以评估产品的耐化学性能（ ）
- A. 耐腐蚀测试

- B. 耐溶剂测试
- C. 耐化学品渗透测试
- D. 耐化学品老化测试

答案: A, B, C, D

526. 设备故障维修知识中, 以下哪些是设备故障的潜在原因 ( )

- A. 设计缺陷
- B. 材料疲劳
- C. 操作不当
- D. 环境因素

答案: A, B, C, D

527. 产品检测设计知识中, 以下哪些是制定测试程序时应遵循的原则 ( )

- A. 可重复性
- B. 可追溯性
- C. 准确性
- D. 有效性

答案: A, B, C, D

528. 设备故障维修知识中, 以下哪些措施可以减少设备故障的风险 ( )

- A. 使用高质量的原材料
- B. 定期检查设备
- C. 优化操作流程
- D. 强化员工培训

答案: A, B, C, D

529. 产品检测知识中, 以下哪些测试可以评估产品的热性能 ( )

- A. 热导率测试
- B. 热膨胀测试
- C. 耐温测试
- D. 热稳定性测试

答案: A, B, C, D

530. 设备故障维修知识中, 以下哪些是设备故障分析的方法 ( )

- A. 根本原因分析(RCA)
- B. 故障树分析(FTA)
- C. 失效模式与影响分析(FMEA)
- D. 5 Why 分析

答案: A, B, C, D

531. 产品检测设计知识中, 以下哪些因素会影响测试结果的准确性 ( )

- A. 测试设备的校准状态
- B. 测试环境的控制
- C. 测试方法的选择
- D. 测试人员的技能和经验

答案: A, B, C, D

532. 设备故障维修知识中, 以下哪些是设备故障的直接表现 ( )

- A. 性能下降
- B. 异常声音
- C. 操作失误

D. 功能丧失

答案: A, B, D

533. 产品检测知识中, 以下哪些测试可以评估产品的光学性能 ( )

- A. 透光率测试
- B. 反射率测试
- C. 折射率测试
- D. 色度测试

答案: A, B, C, D

534. 设备故障维修知识中, 以下哪些是设备故障预防的策略 ( )

- A. 定期维护和检查
- B. 使用高质量的零部件
- C. 实施设备使用和操作培训
- D. 采用先进的故障诊断技术

答案: A, B, C, D

535. 产品检测设计知识中, 以下哪些是测试报告应包含的内容 ( )

- A. 测试目的和范围
- B. 测试方法和设备
- C. 测试结果和数据分析
- D. 结论和建议

答案: A, B, C, D

536. 设备故障维修知识中, 以下哪些是设备维修的基本原则 ( )

- A. 先易后难
- B. 先外后内
- C. 先检查后维修
- D. 先诊断后更换

答案: A, B, C, D

537. 产品检测知识中, 以下哪些测试可以评估产品的耐候性能 ( )

- A. 紫外线老化测试
- B. 湿热测试
- C. 盐雾测试
- D. 温度冲击测试

答案: A, B, C, D

538. 设备故障维修知识中, 以下哪些是设备维修后的验证步骤 ( )

- A. 功能测试
- B. 性能测试
- C. 安全测试
- D. 寿命测试

答案: A, B, C

539. 产品检测设计知识中, 以下哪些是制定测试计划时应考虑的因素 ( )

- A. 测试预算
- B. 测试时间
- C. 测试资源
- D. 测试风险

答案: A, B, C, D

540. 设备故障维修知识中，以下哪些是设备故障记录的内容（ ）

- A. 故障类型和描述
- B. 故障发生的时间和频率
- C. 故障原因分析
- D. 故障处理和维修措施

答案：A, B, C, D

541. 人工智能的关键领域包括：

- A. 机器学习
- B. 知识表示
- C. 自动规划
- D. 机器人学

答案：A, B, C, D

542. 以下哪些属于人工智能的早期应用：

- A. 国际象棋程序
- B. 专家系统
- C. 计算机视觉
- D. 自动驾驶

答案：A, B

543. 在机器学习中，模型的评估指标可能包括：

- A. 准确率
- B. 召回率
- C. F1 分数
- D. 训练时间

答案：A, B, C

544. 深度学习在以下哪些领域有显著进展：

- A. 图像识别
- B. 语音识别
- C. 药物发现
- D. 游戏策略

答案：A, B, D

545. 以下哪些是自然语言处理的子领域：

- A. 机器翻译
- B. 文本分类
- C. 情感分析
- D. 语音合成

答案：A, B, C

546. 强化学习中的 Qlearning 涉及以下哪些概念：

- A. 状态
- B. 动作
- C. 奖励
- D. 策略

答案：A, B, C

547. 以下哪些因素可能影响神经网络的训练效果：

- A. 网络结构

- B. 训练数据
- C. 学习率
- D. 正则化

答案：A, B, C, D

548. 以下哪些是计算机视觉的应用：

- A. 人脸识别
- B. 物体检测
- C. 图像分割
- D. 场景重建

答案：A, B, C, D

549. 以下哪些是人工智能在医疗领域的潜在应用：

- A. 辅助诊断
- B. 患者监护
- C. 药物剂量计算
- D. 手术机器人

答案：A, B, C, D

550. 以下哪些是人工智能在金融领域的应用：

- A. 算法交易
- B. 风险评估
- C. 欺诈检测
- D. 投资组合优化

答案：A, B, C, D

551. 以下哪些是人工智能在教育领域的应用：

- A. 智能辅导系统
- B. 个性化学习路径
- C. 智能评分系统
- D. 学生情感分析

答案：A, B, C, D

552. 以下哪些属于人工智能的伦理挑战：

- A. 数据隐私保护
- B. 自动化导致的失业
- C. 算法决策的透明度
- D. 机器的道德责任

答案：A, B, C, D

553. 以下哪些是人工智能在制造业的潜在应用：

- A. 预测性维护
- B. 质量控制自动化
- C. 生产流程优化
- D. 定制化产品设计

答案：A, B, C, D

554. 以下哪些是人工智能在安全领域的应用：

- A. 网络安全威胁检测
- B. 监控视频分析
- C. 网络入侵检测

D. 风险评估

答案: A, B, C, D

555. 以下哪些是人工智能在农业领域的应用:

- A. 作物病虫害监测
- B. 精准农业实施
- C. 土壤质量分析
- D. 农业机器人

答案: A, B, C, D

556. 以下哪些是人工智能在零售业的应用:

- A. 库存优化
- B. 顾客行为预测
- C. 个性化推荐
- D. 智能客服

答案: A, B, C, D

557. 以下哪些是人工智能在能源领域的应用:

- A. 能源消耗预测
- B. 智能电网管理
- C. 可再生能源优化
- D. 需求侧管理

答案: A, B, C, D

558. 以下哪些是人工智能在交通管理的应用:

- A. 交通流量分析
- B. 车辆导航辅助
- C. 智能交通信号控制
- D. 事故预防系统

答案: A, B, C, D

559. 以下哪些是人工智能在环境保护的应用:

- A. 污染源识别
- B. 环境监测数据分析
- C. 灾害预测和响应
- D. 生态系统建模

答案: A, B, C, D

560. 以下哪些是人工智能在艺术创作中的应用:

- A. 音乐风格迁移
- B. 艺术作品生成
- C. 创意写作辅助
- D. 视觉艺术设计

答案: A, B, C, D

561. 以下哪些属于人工智能在法律领域的应用:

- A. 法律文档自动化
- B. 案件结果预测
- C. 智能合同执行
- D. 法律咨询系统

答案: A, B, C, D

562. 以下哪些是人工智能在军事领域的应用:

- A. 情报分析与处理
- B. 无人作战系统控制
- C. 战场模拟训练
- D. 通信与导航系统

答案: A, B, C, D

563. 以下哪些是人工智能在智能家居的应用:

- A. 能源使用优化
- B. 安全监控系统
- C. 智能设备控制
- D. 居住者行为预测

答案: A, B, C, D

564. 以下哪些是人工智能在航空领域的应用:

- A. 飞行路径规划
- B. 航空数据分析
- C. 乘客个性化服务
- D. 机场运营优化

答案: A, B, C, D

565. 以下哪些是人工智能在生物信息学的应用:

- A. 基因组序列分析
- B. 蛋白质结构预测
- C. 疾病相关基因识别
- D. 药物靶点发现

答案: A, B, C, D

566. 以下哪些是人工智能在电子商务的应用:

- A. 价格歧视策略
- B. 推荐系统
- C. 客户服务自动化
- D. 市场趋势分析

答案: A, B, C, D

567. 以下哪些是人工智能在人力资源的应用:

- A. 简历自动筛选
- B. 员工绩效预测
- C. 员工离职预测
- D. 员工培训需求分析

答案: A, B, C, D

568. 以下哪些是人工智能在城市规划的应用:

- A. 交通流量优化
- B. 公共资源分配
- C. 城市环境监测
- D. 灾害应急响应

答案: A, B, C, D

569. 以下哪些是人工智能在电信领域的应用:

- A. 网络流量管理

- B. 客户服务自动化
- C. 数据分析与挖掘
- D. 网络安全防护

答案：A, B, C, D

570. 以下哪些是人工智能在内容创作领域的应用：

- A. 新闻自动撰写
- B. 社交媒体内容生成
- C. 广告创意设计
- D. 视频内容个性化推荐

答案：A, B, C, D

### 三、判断题（正确打“√”，错误打“×”，共 400 题）

1. 电气工程师在设计电路时，可以为了降低成本而使用劣质材料。（错误）
2. 电气工程师应始终遵守安全操作规程，即使在紧急情况下也不例外。（正确）
3. 电气工程师可以为了个人利益而泄露公司的技术秘密。（错误）
4. 在电气制造过程中，工程师可以忽视环境保护，只关注生产效率。（错误）
5. 电气工程师在与客户沟通时，可以隐瞒产品潜在的问题以促成交易。（错误）
6. 电气工程师在团队合作中，可以独立完成任务而不需要与团队成员沟通。（错误）
7. 电气工程师在进行项目时，可以忽略数据的准确性，只依赖经验判断。（错误）
8. 电气工程师在面对技术挑战时，应该坚持使用传统方法，避免冒险尝试。（错误）
9. 电气工程师在进行现场工作时，可以不穿戴适当的防护装备。（错误）
10. 电气工程师在制定项目计划时，不需要考虑客户需求。（错误）
11. 电气工程师在进行技术研究时，可以忽视伦理问题。（错误）
12. 在电气制造行业中，工程师可以未经许可使用他人的专利技术。（错误）
13. 电气工程师在进行项目管理时，可以忽视风险管理。（错误）
14. 电气工程师在进行产品设计时，不需要考虑产品可靠性。（错误）
15. 电气工程师在进行技术交流时，可以避免分享自己的经验。（错误）
16. 电气工程师在进行质量控制时，可以忽视不合格品的处理。（错误）
17. 电气工程师在进行市场调研时，不需要收集政策法规变化的信息。（错误）
18. 电气工程师在进行项目评估时，不需要考虑社会影响。（错误）
19. 电气工程师在进行团队管理时，可以忽视团队沟通的重要性。（错误）
20. 电气工程师在面对客户投诉时，可以忽视客户的意见。（错误）
21. 工业产品设计只关注产品的功能性，而不需要考虑美观性。（错误）
22. 人体工程学在工业产品设计中是无关紧要的。（错误）
23. 工业设计史表明，设计总是随着技术的发展而发展。（正确）
24. 工业产品造型设计完全依赖于设计师的主观审美。（错误）
25. 工业设计中，产品的可持续性设计是现代设计的一个重要趋势。（正确）
26. 工业设计不需要考虑产品的生产成本。（错误）
27. 工业设计中的原型制作只是为了展示产品的外观。（错误）
28. 工业设计史中，包豪斯学派并没有对现代设计产生影响。（错误）
29. 工业产品设计过程中，用户研究是不必要的步骤。（错误）
30. 工业产品造型设计中，色彩选择不会影响用户对产品的第一印象。（错误）
31. 工业设计中的创新总是意味着要彻底摒弃传统设计。（错误）
32. 工业设计评审中，设计师不需要考虑市场反馈。（错误）



33. 工业设计中，产品的实用性和美观性是相互独立的。（错误）
34. 工业设计史显示，设计运动总是独立于社会文化背景发展的。（错误）
35. 工业产品设计中，设计师不需要考虑产品的维护和修理。（错误）
36. 工业设计中的迭代过程是为了不断增加产品的功能。（错误）
37. 工业设计中，产品的包装设计对于品牌形象没有影响。（错误）
38. 工业设计中的用户测试是为了验证产品的市场潜力。（错误）
39. 工业设计中，设计师可以忽视产品的环保和可回收性。（错误）
40. 工业设计史中，雷蒙德·罗维并不是一位著名的工业设计师。（错误）
41. 电流的国际单位是伏特（V）。（错误）  
答案：错误，电流的国际单位是安培 A。
42. 欧姆定律表明电压、电流和电阻之间存在线性关系。（正确）  
答案：正确。
43. 直流电机不能用于需要连续旋转的应用。（错误）  
答案：错误，直流电机可以用于需要连续旋转的应用。
44. 电容器在直流电路中相当于短路。（正确）  
答案：正确。
45. 所有电子元件在电路中都消耗电能。（错误）  
答案：错误，有些元件如二极管和晶体管可以控制电能的流动，但不一定消耗电能。
46. 电气安全规程要求在进行电气工作时必须穿戴金属手套。（错误）  
答案：错误，应穿戴绝缘手套。
47. 电感器在电路中的作用是储存电能。（正确）  
答案：正确。
48. 产品接线图中，通常用不同的颜色或符号来区分不同的导线。（正确）  
答案：正确。
49. 电阻器的阻值在电路中是固定不变的。（错误）  
答案：错误，某些类型的电阻器（如可变电阻器）的阻值可以变化。
50. 电气安全规程中，使用万用表测量电流时，应将万用表串联在电路中。（正确）  
答案：正确。
51. 交流电机的转速与电源频率无关。（错误）  
答案：错误，交流电机的转速与电源频率有关。
52. 电学符号中，电压源通常用电池形状的符号表示。（正确）  
答案：正确。
53. 在电气设备上，所有未接地的导线都应视为带电。（正确）  
答案：正确。
54. 电气安全规程中，可以使用同一保险丝进行多次电气设备的过载保护。（错误）  
答案：错误，保险丝是一次性的，熔断后应更换。
55. 电容器在交流电路中起到阻抗作用，并且阻抗随频率的增加而减小。（正确）  
答案：正确。
56. 电气设备接地的主要目的是为了节能。（错误）  
答案：错误，接地的主要目的是保护人身安全。
57. 电感器对直流电没有阻抗。（正确）  
答案：正确。
58. 电气安全规程中，可以在高压线下方进行建筑施工。（错误）  
答案：错误，这是非常危险的。

59. 所有电子元件的功率都是以瓦特 (W) 为单位。 (正确)  
答案: 正确。
60. 在电气布线图中, 通常使用标准符号来表示不同类型的电气设备和组件。 (正确)  
答案: 正确。
61. 机械制图中的第一角投影法也被称为“视角法”。 (错误)  
答案: 错误, 第一角投影法是将观察者置于观察对象的正前方进行投影。
62. 法定计量单位系统中, 力的单位是牛顿 (N)。 (正确)  
答案: 正确。
63. 在机械制图中, 中心线通常用来表示物体的对称轴。 (正确)  
答案: 正确。
64. 国际单位制中, 功率的单位是焦耳 (J)。 (错误)  
答案: 错误, 功率的单位是瓦特 (W), 焦耳是能量的单位。
65. 机械制图中, 剖面图可以用来显示物体内部结构。 (正确)  
答案: 正确。
66. 产品标准中, ISO 标准是国际标准化组织制定的唯一标准。 (错误)  
答案: 错误, ISO 是国际标准化组织制定的国际标准之一, 还有其他组织制定的标准。
67. 电热元件中的加热丝通常由镍铬合金制成。 (正确)  
答案: 正确。
68. 机械制图中, 尺寸线不能断开。 (错误)  
答案: 错误, 尺寸线可以断开以避免与图形或文字重叠。
69. 法定计量单位系统中, 长度的主单位是米 (m)。 (正确)  
答案: 正确。
70. 机械制图中, 虚线用于表示可见轮廓以外的线。 (错误)  
答案: 错误, 虚线用于表示不可见的轮廓线。
71. 电热元件的电阻加热元件通常用于高温环境。 (正确)  
答案: 正确。
72. 机械制图中, 剖视图可以用于简化复杂零件的表达。 (正确)  
答案: 正确。
73. 法定计量单位系统中, 温度的单位是摄氏度 ( $^{\circ}\text{C}$ )。 (错误)  
答案: 错误, 虽然摄氏度是常用的温度单位, 但法定计量单位系统中温度的主单位是开尔文 (K)。
74. 机械制图中, 螺纹的标注包括螺距和螺纹直径。 (正确)  
答案: 正确。
75. 电热元件中的陶瓷加热器适用于低功率应用。 (错误)  
答案: 错误, 陶瓷加热器通常适用于高功率密度应用。
76. 机械制图中, 公差是指允许的尺寸偏差范围。 (正确)  
答案: 正确。
77. 电热元件中的电热管通常用于液体加热。 (正确)  
答案: 正确。
78. 机械制图中, 表面粗糙度是不需要标注的尺寸属性。 (错误)  
答案: 错误, 表面粗糙度是重要的尺寸属性, 需要在图纸上标注。
79. 电热元件中的电热线通常由铁铬铝合金制成。 (正确)  
答案: 正确。
80. 机械制图中, 焊接符号是用来表示焊接接头类型的符号。 (正确)  
答案: 正确。

81. 所有半导体器件在工作时都会产生热量。（正确）  
答案：正确。
82. 电容器在直流电路中可以阻止电流流动。（正确）  
答案：正确。
83. 运算放大器的输出电压永远不会超过其电源电压。（错误）  
答案：错误，运算放大器的输出电压可以摆动在接近正负电源电压范围内。
84. 电阻的单位是欧姆，符号 $\Omega$ 。（正确）  
答案：正确。
85. 稳压二极管可以用于产生稳定的直流电压。（正确）  
答案：正确。
86. 逻辑门电路的输出只有高电平和低电平两种状态。（正确）  
答案：正确。
87. 电流源的输出阻抗是非常高的。（正确）  
答案：正确。
88. 电压跟随器是一种具有高输入阻抗和低输出阻抗的电路。（正确）  
答案：正确。
89. 串联电路中总阻抗是各个阻抗的和。（正确）  
答案：正确。
90. 并联电路中总阻抗的倒数等于各个阻抗倒数的和。（正确）  
答案：正确。
91. 电磁干扰（EMI）只会由电源线产生。（错误）  
答案：错误，EMI可以由多种来源产生，包括电源线、信号线等。
92. 运算放大器可以用于实现加法运算。（正确）  
答案：正确。
93. 所有二极管都具有单向导电性。（正确）  
答案：正确。
94. 电压增益和放大倍数在数值上是相同的。（错误）  
答案：错误，电压增益是输出电压与输入电压之比，而放大倍数可以是功率增益或电压增益。
95. 负反馈可以提高放大电路的稳定性。（正确）  
答案：正确。
96. 电感器在交流电路中可以提供阻抗。（正确）  
答案：正确。
97. 串联谐振时电路的阻抗达到最大值。（错误）  
答案：错误，串联谐振时电路的阻抗达到最小值。
98. 逻辑门电路中的异或门（XOR）在输入相同或不同时输出均为低电平。（错误）  
答案：错误，异或门在输入相同或不同时输出分别为低电平和高电平。
99. 稳压电源可以为电子设备提供稳定的直流电压。（正确）  
答案：正确。
100. 所有电容器都有极性，需要按照正负极连接。（错误）  
答案：错误，只有电解电容器具有极性。
101. 光纤通信具有传输速度快、抗干扰性强的特点。（正确）  
答案：正确。
102. 无线通信中的天线增益是指天线接收信号的能力。（错误）  
答案：错误，天线增益是指天线辐射或接收信号的方向性能力。

103. 在数字通信中，信噪比越高，通信质量越好。（正确）  
答案：正确。
104. 模拟信号可以通过数字信号处理器（DSP）直接处理。（错误）  
答案：错误，模拟信号需要先经过模数转换（ADC）才能被 DSP 处理。
105. 移动通信中的多普勒效应会导致信号频率的变化。（正确）  
答案：正确。
106. 电子信息工程技术中，傅里叶变换主要用于信号的时域分析。（错误）  
答案：错误，傅里叶变换用于信号的频域分析。
107. 在数字电路中，逻辑“与”操作的结果是所有输入都为高电平时输出才为高电平。（正确）  
答案：正确。
108. 电磁波的传播速度在真空中是光速。（正确）  
答案：正确。
109. 电子信息工程技术中，带宽越宽，传输数据的能力越强。（正确）  
答案：正确。
110. 所有数字信号都是周期性的。（错误）  
答案：错误，数字信号可以是周期性的，也可以是非周期性的。
111. 在射频（RF）电路设计中，阻抗匹配非常重要。（正确）  
答案：正确。
112. 电子信息工程技术中，滤波器可以消除所有噪声。（错误）  
答案：错误，滤波器可以减少特定频率范围内的噪声，但无法消除所有噪声。
113. 在数字图像处理中，傅里叶变换可以用于去除图像噪声。（正确）  
答案：正确。
114. 电子信息工程技术中，放大器的增益越高越好。（错误）  
答案：错误，过高的增益可能导致信号失真。
115. 电子信息系统，模数转换器（ADC）的采样频率必须高于信号最高频率的两倍。（正确）  
答案：正确，这是奈奎斯特采样定理的要求。
116. 电子信息工程技术中，数字滤波器可以设计成低通、高通、带通或带阻滤波器。（正确）  
答案：正确。
117. 所有集成电路（IC）都是由半导体材料制成的。（正确）  
答案：正确。
118. 电子信息工程技术中，信号的频率越高，其波长越长。（错误）  
答案：错误，信号的频率越高，其波长越短。
119. 在数字通信中，误码率（BER）是衡量通信系统性能的重要指标。（正确）  
答案：正确。
120. 电子信息工程技术中，数字信号的传输速率可以用波特率来表示。（错误）  
答案：错误，波特率是模拟信号的传输速率单位，数字信号的传输速率用比特率（bps）表示。
121. PLC（可编程逻辑控制器）是一种专为工业环境设计的计算机。（正确）  
答案：正确。
122. 伺服电机可以提供比步进电机更精确的速度和位置控制。（正确）  
答案：正确。
123. 在自动化系统中，传感器的唯一作用是检测物体的位置。（错误）  
答案：错误，传感器还有许多其他功能，如测量温度、压力等。
124. 闭环控制系统比开环控制系统更容易受到外部干扰的影响。（错误）  
答案：错误，闭环控制系统通常具有更好的抗干扰能力。

125. 人机界面（HMI）允许用户与自动化系统进行交互，但不能显示实时数据。（错误）  
答案：错误，HMI 可以显示实时数据。
126. 电气自动化系统中，执行器只负责执行来自控制器的命令。（错误）  
答案：错误，执行器还负责将能量转换为运动。
127. 所有类型的传感器都可以在电气自动化系统中使用。（错误）  
答案：错误，传感器必须与系统兼容，并且适合特定的测量任务。
128. PID 控制器可以在线调整其参数以优化控制性能。（正确）  
答案：正确。
129. 电气自动化系统中的负反馈总是有助于提高系统的稳定性。（正确）  
答案：正确。
130. 模数转换器（ADC）可以将模拟信号转换为数字信号，但不能用于处理数字信号。（错误）  
答案：错误，ADC 用于将模拟信号转换为数字信号，但数字信号的处理需要其他设备。
131. 电气自动化技术中的 DCS（分布式控制系统）主要用于集中控制。（错误）  
答案：错误，DCS 主要用于分散控制，但通过通信网络实现集中管理。
132. 伺服电机在自动化系统中不能用于精确的位置控制。（错误）  
答案：错误，伺服电机可以用于精确的位置控制。
133. 电磁兼容性（EMC）在自动化系统设计中不是一个重要因素。（错误）  
答案：错误，EMC 是自动化系统设计中的一个重要因素。
134. 电气自动化系统中的过载保护是为了防止电机过热和损坏。（正确）  
答案：正确。
135. 在自动化系统中，执行器的速度控制与电机的类型无关。（错误）  
答案：错误，执行器的速度控制与电机的类型密切相关。
136. 所有 PLC 都具有相同的编程语言和逻辑处理能力。（错误）  
答案：错误，不同的 PLC 可能使用不同的编程语言和具有不同的逻辑处理能力。
137. 电气自动化系统中的传感器可以直接连接到 PLC 输入端口。（正确）  
答案：正确，但可能需要考虑信号类型和电平匹配。
138. 步进电机不需要反馈装置就可以实现精确的位置控制。（错误）  
答案：错误，为了实现精确的位置控制，步进电机可能需要编码器或其他反馈装置。
139. 电气自动化系统中，人机界面（HMI）仅用于显示信息，不能用于控制操作。（错误）  
答案：错误，HMI 通常既可以显示信息，也可以用于控制操作。
140. 变频器可以改变电机的转速，但不能改变电机的转向。（错误）  
答案：错误，变频器可以改变电机的转速和转向。
141. 智能产品开发中，用户体验（UX）设计是产品开发后期才考虑的。（错误）  
答案：错误，用户体验设计应贯穿整个产品开发过程。
142. 在智能产品开发中，敏捷开发方法允许快速迭代和适应变化。（正确）  
答案：正确。
143. 智能产品必须包含人工智能技术。（错误）  
答案：错误，智能产品可以包含多种技术，不一定非要有人工智能。
144. 智能产品开发中，硬件和软件的设计可以完全独立进行。（错误）  
答案：错误，硬件和软件设计需要相互协调。
145. 智能产品开发不需要考虑产品的可制造性。（错误）  
答案：错误，可制造性是智能产品开发中的重要考虑因素。
146. 物联网（IoT）技术在智能产品开发中只用于数据收集。（错误）  
答案：错误，IoT 技术还用于设备间的通信和远程控制等。

147. 智能产品开发中，数据分析是产品发布后才开始的工作。（错误）  
答案：错误，数据分析通常在产品开发的早期阶段就开始了。
148. 智能产品开发中，原型制作是验证产品概念的重要步骤。（正确）  
答案：正确。
149. 在智能产品开发中，用户反馈对于产品迭代不重要。（错误）  
答案：错误，用户反馈对于产品迭代至关重要。
150. 智能产品开发中，不需要考虑数据安全和隐私保护。（错误）  
答案：错误，数据安全和隐私保护是智能产品开发的关键考虑因素。
151. 智能产品开发中，功能越多越好，可以吸引更多用户。（错误）  
答案：错误，功能过多可能会影响用户体验和产品性能。
152. 智能产品开发中，不需要考虑产品的能耗问题。（错误）  
答案：错误，能耗是智能产品开发中的一个重要考量。
153. 智能产品开发中，不需要进行市场调研就可以直接进入产品设计阶段。（错误）  
答案：错误，市场调研对于确定产品方向和用户需求至关重要。
154. 智能产品开发中，软件测试只包括功能性测试。（错误）  
答案：错误，软件测试还包括性能测试、安全测试等。
155. 智能产品开发中，用户界面（UI）设计只关注视觉效果。（错误）  
答案：错误，UI 设计还需关注易用性、交互逻辑等。
156. 智能产品开发中，不需要考虑产品的可扩展性。（错误）  
答案：错误，可扩展性是确保产品适应未来需求变化的关键。
157. 智能产品开发中，产品上市后可以停止对其进行更新和维护。（错误）  
答案：错误，持续的更新和维护对于保持产品的竞争力和用户满意度至关重要。
158. 智能产品开发中，技术实现是唯一成功标准。（错误）  
答案：错误，产品的商业成功还需要考虑市场需求、用户体验等因素。
159. 智能产品开发中，团队只需要技术人员，不需要设计师和市场人员。（错误）  
答案：错误，跨职能团队对于智能产品开发至关重要。
160. 智能产品开发中，创新意味着必须完全摒弃现有技术。（错误）  
答案：错误，创新可以在现有技术的基础上进行改进和扩展。
161. 物联网(IoT)仅指通过互联网连接的物理设备。（错误）  
答案：错误，物联网不仅仅是物理设备的连接，还包括数据的收集、交换、分析和智能操作。
162. 物联网设备不需要考虑数据安全和隐私保护。（错误）  
答案：错误，物联网设备收集和传输的数据往往涉及用户隐私，因此需要考虑数据安全和隐私保护。
163. 物联网的互操作性允许来自不同制造商的设备无缝协同工作。（正确）  
答案：正确，物联网设备应遵循标准化的通信协议，以实现互操作性。
164. 物联网的可扩展性意味着系统只能处理固定数量的设备和数据。（错误）  
答案：错误，物联网系统设计时需考虑可扩展性，以支持不断增长的设备数量和数据量。
165. 物联网中的数据仅用于实时监控，而不能用于预测分析。（错误）  
答案：错误，物联网中的数据不仅用于实时监控，还广泛应用于预测分析和决策支持。
166. 物联网设备通常需要定期的软件更新来修复安全漏洞。（正确）  
答案：正确，定期更新是确保物联网设备安全性的重要措施。
167. 物联网平台不需要考虑用户界面设计。（错误）  
答案：错误，物联网平台通常需要提供用户界面，以使用户能够监控和控制连接的设备。
168. 物联网的实现完全依赖于无线通信技术。（错误）

- 答案：错误，物联网的实现可以依赖于有线和无线通信技术的组合。
169. 物联网设备可以独立于云平台运行。（正确）  
答案：正确，尽管许多物联网设备使用云平台进行数据处理和存储，但它们也可以设计为独立运行。
170. 物联网应用中的边缘计算提高了数据的处理速度并减少了延迟。（正确）  
答案：正确，边缘计算允许数据处理更接近数据源，从而减少延迟。
171. 物联网设备不需要用户交互，完全自动化运行。（错误）  
答案：错误，物联网设备可能需要用户交互来进行配置、授权或其他操作。
172. 物联网中的传感器只能检测一种类型的数据。（错误）  
答案：错误，物联网中的传感器可以设计用于检测多种类型的数据。
173. 物联网的实现不依赖于人工智能和机器学习技术。（错误）  
答案：错误，人工智能和机器学习技术常用于物联网系统，以实现智能分析和决策。
174. 物联网设备通常具有很长的电池寿命，因为它们设计为低功耗运行。（正确）  
答案：正确，物联网设备通常设计为低功耗，以延长电池寿命。
175. 物联网技术无法应用于传统行业中以提高效率。（错误）  
答案：错误，物联网技术可以广泛应用于各个行业，包括制造业、农业、医疗等。
176. 物联网的标准化是不必要的，因为每个设备都是独特的。（错误）  
答案：错误，物联网的标准化对于确保设备之间的兼容性和互操作性至关重要。
177. 物联网设备在设计时不需要考虑环境因素。（错误）  
答案：错误，物联网设备在设计时需要考虑其将被部署的环境因素，如温度、湿度等。
178. 物联网应用的开发不需要考虑法规遵从性。（错误）  
答案：错误，物联网应用的开发必须遵守相关的法律法规，特别是数据保护法规。
179. 物联网中的所有设备都可以直接连接到互联网。（错误）  
答案：错误，一些物联网设备可能需要通过网关或其他中间设备连接到互联网。
180. 物联网的安全性仅依赖于设备的加密技术。（错误）  
答案：错误，物联网的安全性需要多层次的保护，包括设备安全、网络安全、数据安全等。
181. 智能控制技术可以完全取代人工操作。（错误）  
答案：错误，智能控制技术可以辅助或增强人工操作，但在许多情况下仍需人工干预。
182. 智能控制系统的设计不需要考虑成本因素。（错误）  
答案：错误，智能控制系统的设计需要综合考虑性能、成本和实用性。
183. 模糊逻辑控制器是智能控制技术的一种应用。（正确）  
答案：正确，模糊逻辑控制器可以处理不确定性和模糊性问题。
184. 智能控制技术只能用于复杂的系统。（错误）  
答案：错误，智能控制技术可以应用于各种复杂度的系统。
185. 神经网络控制是一种基于生物神经网络的智能控制技术。（正确）  
答案：正确，神经网络控制模仿生物神经网络的结构和功能。
186. 智能控制系统中的传感器仅用于数据收集。（错误）  
答案：错误，传感器在智能控制系统中不仅用于数据收集，还用于环境感知和状态监测。
187. 智能控制技术可以提高系统的稳定性和响应速度。（正确）  
答案：正确，智能控制技术通过优化控制策略可以提高系统性能。
188. 智能控制技术不需要考虑系统的实时性。（错误）  
答案：错误，实时性是智能控制技术中的一个重要考虑因素。
189. 遗传算法是一种可用于智能控制系统优化的算法。（正确）  
答案：正确，遗传算法可以用于搜索最优或近似最优解。

190. 智能控制系统的自学习能力意味着它可以独立于外部输入。（错误）  
答案：错误，智能控制系统的自学习能力通常需要基于外部输入的数据进行训练。
191. 智能控制技术可以应用于非线性系统。（正确）  
答案：正确，智能控制技术如神经网络和模糊逻辑可以处理非线性系统。
192. 智能控制技术中的自适应控制不需要模型信息。（错误）  
答案：错误，某些自适应控制策略可能需要模型信息来调整控制参数。
193. PID 控制器不是智能控制技术的一部分。（错误）  
答案：错误，PID 控制器可以与智能控制技术结合使用，以提高控制性能。
194. 智能控制技术可以减少系统的能耗。（正确）  
答案：正确，通过优化控制策略，智能控制技术可以降低能耗。
195. 智能控制技术在设计时不需要考虑系统的安全性。（错误）  
答案：错误，安全性是智能控制系统设计的重要考虑因素。
196. 智能控制技术可以应用于分布式控制系统。（正确）  
答案：正确，智能控制技术可以有效地应用于分布式控制系统。
197. 智能控制技术中的预测控制不需要未来信息。（错误）  
答案：错误，预测控制通常需要基于模型预测未来系统行为。
198. 智能控制技术不能处理多变量系统。（错误）  
答案：错误，智能控制技术如神经网络可以处理多变量系统。
199. 智能控制技术在设计时不需要考虑系统的鲁棒性。（错误）  
答案：错误，鲁棒性是智能控制系统设计的关键考虑因素之一。
200. 智能控制技术可以应用于实时监控和诊断系统。（正确）  
答案：正确，智能控制技术可以实时监控系统状态并进行故障诊断。
201. 机电一体化系统只包含机械和电子组件。（错误）  
答案：错误，机电一体化系统还包括软件、控制逻辑等。
202. 传感器在机电一体化系统中只用于检测位置。（错误）  
答案：错误，传感器可以检测多种物理量，如温度、压力、速度等。
203. 伺服电机可以用于实现精确的速度和位置控制。（正确）  
答案：正确。
204. PLC（可编程逻辑控制器）是机电一体化系统中常用的控制器类型。（正确）  
答案：正确。
205. 步进电机不需要反馈系统即可实现精确控制。（错误）  
答案：错误，步进电机通常需要反馈系统来提高控制精度。
206. 机电一体化系统中的执行器只能用于产生直线运动。（错误）  
答案：错误，执行器可以用于产生直线和旋转运动。
207. 液压系统在机电一体化中不能用于精确控制。（错误）  
答案：错误，液压系统通过适当的控制可以实现精确控制。
208. 电磁兼容性（EMC）在机电一体化设计中不重要。（错误）  
答案：错误，EMC 对于确保系统稳定运行和减少干扰至关重要。
209. 气动系统在机电一体化中通常比电动系统成本更低。（正确）  
答案：正确。
210. 模数转换器（ADC）可以将模拟信号转换为数字信号，用于数字控制系统。（正确）  
答案：正确。
211. 机电一体化系统中的传感器和执行器之间没有直接关系。（错误）  
答案：错误，传感器和执行器在控制系统中协同工作。



212. 所有机电一体化系统都需要复杂的编程知识。（错误）  
答案：错误，一些简单的机电一体化系统可能不需要复杂的编程。
213. 伺服控制系统在机电一体化中只用于旋转运动控制。（错误）  
答案：错误，伺服控制系统也可用于直线运动控制。
214. 机电一体化系统中的控制器必须具有实时处理能力。（正确）  
答案：正确。
215. 机械制动器不能用于机电一体化系统中的紧急停止。（错误）  
答案：错误，机械制动器常用于紧急停止。
216. 机电一体化系统中的传感器只能检测静态量。（错误）  
答案：错误，许多传感器可以检测动态变化的量。
217. 机电一体化系统中的传动装置只用于传递动力。（错误）  
答案：错误，传动装置还用于改变运动方向和速度。
218. 机电一体化技术可以应用于任何行业和领域。（正确）  
答案：正确。
219. 机电一体化系统中的自动化组件可以完全替代人工操作。（错误）  
答案：错误，自动化组件可以辅助或增强人工操作，但不一定完全替代。
220. 机电一体化技术的发展不依赖于新材料和新工艺。（错误）  
答案：错误，新材料和新工艺对机电一体化技术的发展至关重要。
221. 智能制造系统完全自动化，不需要人工干预。（错误）  
答案：错误，智能制造系统虽然高度自动化，但在某些环节可能仍需人工干预。
222. 智能制造只关注生产效率，不关心环境影响。（错误）  
答案：错误，智能制造同样注重可持续发展和环境影响。
223. 数字孪生技术在智能制造中用于创建物理对象的虚拟副本。（正确）  
答案：正确。
224. 智能制造中的物联网(IoT)技术主要用于数据收集。（正确）  
答案：正确。
225. 智能制造系统的设计不包括机器学习算法。（错误）  
答案：错误，机器学习算法是智能制造系统设计的重要组成部分。
226. 工业 4.0 是智能制造的同义词。（正确）  
答案：正确，工业 4.0 代表了智能制造和互联网技术的融合。
227. 智能制造中的数据分析仅用于优化生产过程。（错误）  
答案：错误，数据分析还用于预测维护、质量控制和决策支持等。
228. 智能制造不涉及产品生命周期管理。（错误）  
答案：错误，产品生命周期管理是智能制造的关键组成部分。
229. 智能制造中的自适应控制允许机器自动调整生产参数。（正确）  
答案：正确。
230. 智能制造技术无法应用于小规模生产。（错误）  
答案：错误，智能制造技术可以应用于各种规模的生产。
231. 智能制造中的虚拟现实(VR)技术主要用于产品设计。（正确）  
答案：正确。
232. 智能制造系统不需要考虑网络安全。（错误）  
答案：错误，网络安全是智能制造系统的关键考虑因素。
233. 智能制造中的机器人仅用于执行重复性任务。（错误）  
答案：错误，智能制造中的机器人可以执行复杂和灵活的任务。

234. 智能制造不涉及供应链管理。（错误）  
答案：错误，智能制造涉及整个供应链的优化和管理。
235. 智能制造中的预测性维护仅依赖历史数据。（错误）  
答案：错误，预测性维护还结合实时数据和机器学习模型。
236. 智能制造中的定制化生产增加了生产成本。（错误）  
答案：错误，虽然可能初期成本较高，但长期看可以降低浪费，提高效率。
237. 智能制造技术只适用于高科技行业。（错误）  
答案：错误，智能制造技术适用于各种行业。
238. 智能制造中的智能物流系统可以减少库存成本。（正确）  
答案：正确。
239. 智能制造不关注员工的技能发展和培训。（错误）  
答案：错误，员工的技能发展和培训是智能制造成功实施的关键。
240. 智能制造中的数据分析不能帮助提高产品质量。（错误）  
答案：错误，数据分析可以帮助识别质量问题并优化生产过程。
241. 增材制造技术只能用于塑料材料的制造。（错误）  
答案：错误，增材制造技术可用于多种材料，包括塑料、金属、陶瓷等。
242. 熔融沉积成型（FDM）是一种常见的增材制造技术。（正确）  
答案：正确。
243. 选择性激光烧结（SLS）技术不能用于制造金属零件。（错误）  
答案：错误，SLS 技术可以用于制造金属零件。
244. 数字光处理（DLP）是一种增材制造技术，使用数字光源来固化光敏树脂。（正确）  
答案：正确。
245. 增材制造技术无法制造复杂的内部结构。（错误）  
答案：错误，增材制造技术特别适合制造具有复杂内部结构的零件。
246. 电子束熔化（EBM）是一种使用电子束作为能量源的增材制造技术。（正确）  
答案：正确。
247. 增材制造技术在生产过程中不会产生任何材料浪费。（错误）  
答案：错误，尽管增材制造技术可以显著减少材料浪费，但并非完全不产生浪费。
248. 增材制造技术可以用于制造一次性的原型和最终用途的零件。（正确）  
答案：正确。
249. 所有增材制造技术都需要使用支撑结构来制造悬空部分。（错误）  
答案：错误，某些增材制造技术可以设计出无需支撑结构的悬空结构。
250. 增材制造技术在珠宝设计中无法制造出精细的装饰细节。（错误）  
答案：错误，增材制造技术可以制造出非常精细的细节。
251. 增材制造技术可以用于制造生物可降解的医疗植入物。（正确）  
答案：正确。
252. 使用增材制造技术制造的零件总是比传统制造技术制造的零件更精确。（错误）  
答案：错误，增材制造技术的精度取决于多种因素，包括设备精度、材料特性和工艺参数。
253. 增材制造技术在航空航天领域主要用于制造大型结构件。（错误）  
答案：错误，增材制造技术在航空航天领域更多用于制造复杂形状的小型部件。
254. 增材制造技术可以减少产品从设计到市场的时间。（正确）  
答案：正确。
255. 增材制造技术在汽车行业中主要用于制造汽车整车。（错误）  
答案：错误，增材制造技术在汽车行业中主要用于制造原型、工具或某些复杂零部件。

256. 增材制造技术无法用于制造多材料的零件。（错误）  
答案：错误，某些增材制造技术可以用于制造由多种材料组成的零件。
257. 增材制造技术在建筑行业中主要用于制造大型建筑结构。（错误）  
答案：错误，增材制造技术在建筑行业中主要用于制造建筑模型、构件或装饰元素。
258. 使用增材制造技术制造的零件不需要任何后处理工序。（错误）  
答案：错误，大多数增材制造技术制造的零件需要后处理工序，如去除支撑、表面处理等。
259. 增材制造技术可以用于制造具有动态性能的机械部件。（正确）  
答案：正确。
260. 增材制造技术在食品行业中无法制造出可食用的产品。（错误）  
答案：错误，特定的增材制造技术可以用于制造巧克力、糖果等可食用产品。
261. 人工智能(AI)只能执行预先编程好的任务。（错误）  
答案：错误，人工智能能够通过学习不断改进和适应新任务。
262. 机器学习是人工智能的一个分支。（正确）  
答案：正确。
263. 在人工智能中，自然语言处理(NLP)的目标是使计算机能够理解人类语言。（正确）  
答案：正确。
264. 深度学习不需要大量的数据就能训练模型。（错误）  
答案：错误，深度学习通常需要大量的数据来训练模型。
265. 人工智能可以完全取代人类的创造力和直觉。（错误）  
答案：错误，人工智能目前还不能完全取代人类的创造力和直觉。
266. 计算机视觉是人工智能中让计算机识别图像和视频中的对象的任务。（正确）  
答案：正确。
267. 强化学习是一种让机器通过试错来学习如何完成任务的方法。（正确）  
答案：正确。
268. 人工智能在医疗领域只能用于患者诊断。（错误）  
答案：错误，人工智能在医疗领域有多种应用，包括辅助诊断、患者监护、药物研发等。
269. 卷积神经网络(CNN)主要用于处理序列数据。（错误）  
答案：错误，卷积神经网络主要用于处理具有明显网格状拓扑结构的数据，如图像。
270. 人工智能无法处理不确定或模糊的信息。（错误）  
答案：错误，某些人工智能技术，如模糊逻辑，可以处理不确定或模糊的信息。
271. 神经网络中的“神经元”是模仿人脑神经元构建的。（正确）  
答案：正确。
272. 人工智能无法进行艺术创作，如绘画或音乐创作。（错误）  
答案：错误，人工智能可以进行艺术创作，已有AI创作的艺术作品。
273. 人工智能在决策过程中不能考虑道德和伦理因素。（错误）  
答案：错误，人工智能系统可以被设计来考虑道德和伦理因素。
274. 聊天机器人是人工智能在客户服务中的一个应用。（正确）  
答案：正确。
275. 人工智能技术无法帮助提高能源效率。（错误）  
答案：错误，人工智能技术可以优化能源使用，提高能源效率。
276. 人工智能在教育领域只能用于自动化评分。（错误）  
答案：错误，人工智能在教育领域的应用还包括个性化学习、智能辅导等。
277. 人工智能无法识别和分类不同的物体。（错误）  
答案：错误，人工智能可以识别和分类不同的物体，这是计算机视觉领域的一个任务。

278. 人工智能系统总是需要大量的手工编程来实现智能行为。（错误）  
答案：错误，许多人工智能系统能够通过学习数据来改进其行为，而不需要手工编程。
279. 人工智能在金融领域只能用于股票交易。（错误）  
答案：错误，人工智能在金融领域的应用还包括风险管理、欺诈检测、信贷评估等。
280. 人工智能在自动驾驶汽车中主要用于处理传感器数据和做出驾驶决策。（正确）  
答案：正确。
281. 作业策划仅涉及产品开发阶段，不包括生产过程。（错误）  
答案：错误，作业策划涉及产品从概念到生产的整个流程。
282. 物料管控的主要目的是减少库存成本和提高物料使用效率。（正确）  
答案：正确。
283. 设备造型设计只需考虑设备的外观，无需考虑功能和操作便利性。（错误）  
答案：错误，设备造型设计需要综合考虑外观、功能和操作便利性。
284. 产品先期质量策划(AQP)是在产品开发后期进行的。（错误）  
答案：错误，AQP 是在产品设计和开发早期阶段进行的。
285. 工艺文件编制规范要求工艺文件必须包含所有操作细节。（正确）  
答案：正确。
286. 零部件管理规范中，零部件的存储条件不会影响其性能和寿命。（错误）  
答案：错误，存储条件对零部件的性能和寿命有重要影响。
287. 计量和检测仪器的校准周期可以随意更改，不受任何标准限制。（错误）  
答案：错误，校准周期应遵循国家计量标准或制造商建议。
288. 作业策划中，风险评估是不必要的，因为所有风险都是可以预见的。（错误）  
答案：错误，风险评估是作业策划的重要环节，有助于识别和管理不确定性。
289. 物料管控中，先进先出的库存管理方法可以减少物料过期的风险。（正确）  
答案：正确。
290. 设备造型设计时，设备的人体工程学设计对操作者的安全与健康没有影响。（错误）  
答案：错误，人体工程学设计对操作者的安全与健康至关重要。
291. 产品先期质量策划中，质量功能展开(QFD)是一种将客户需求转化为设计要求的工具。（正确）  
答案：正确。
292. 工艺文件编制规范要求所有工艺文件都应有唯一的文件编号。（正确）  
答案：正确。
293. 零部件管理规范中，零部件的追溯性对于质量管理不重要。（错误）  
答案：错误，零部件的追溯性对于质量管理至关重要。
294. 计量和检测仪器的精度越高，测量结果越可靠。（正确）  
答案：正确。
295. 作业策划中，项目时间表的制定不需要考虑潜在的风险和延误。（错误）  
答案：错误，项目时间表应考虑潜在风险和延误。
296. 物料管控中，物料需求计划(MRP)是一种基于库存的计划方法。（错误）  
答案：错误，MRP 是基于生产需求的计划方法。
297. 设备造型设计应确保设备的所有控制按钮都易于操作者识别和访问。（正确）  
答案：正确。
298. 产品先期质量策划不包括对产品生产过程的质量控制。（错误）  
答案：错误，产品先期质量策划包括对生产过程的质量控制。
299. 工艺文件编制规范要求工艺文件应定期进行评审和更新。（正确）  
答案：正确。

300. 零部件管理规范中，所有零部件都应有明确的验收标准和程序。（正确）  
答案：正确。
301. 装配时，所有零件都应精确到设计图纸的最小公差。（错误）  
答案：错误，合理的装配需要考虑零件间的配合公差。
302. 在机械装配中，过盈配合总是比过渡配合更稳定。（错误）  
答案：错误，过盈配合和过渡配合各有适用场景，并非总是一种更优。
303. 装配图上不需要标注零件的表面粗糙度要求。（错误）  
答案：错误，装配图上应标注零件的表面粗糙度要求。
304. 机械设计中，为了简化装配，所有零件都应设计为易于手工装配。（错误）  
答案：错误，零件设计需要考虑装配的便利性，但也要兼顾功能和成本。
305. 装配过程中，使用力量越大，装配效果越好。（错误）  
答案：错误，过度的力量可能导致零件损坏或影响装配质量。
306. 在装配过程中，不需要考虑零件的热膨胀系数。（错误）  
答案：错误，对于精密装配，零件的热膨胀系数是必须考虑的因素。
307. 装配时，只要零件尺寸符合公差要求，就一定能顺利完成装配。（错误）  
答案：错误，零件尺寸符合公差要求是装配的必要条件，但非充分条件。
308. 装配顺序对于装配结果没有影响。（错误）  
答案：错误，合理的装配顺序对于保证装配质量和效率至关重要。
309. 在机械设计中，所有零件都应设计为标准化零件以降低成本。（错误）  
答案：错误，标准化零件可以降低成本，但设计时应根据功能需求灵活选择。
310. 装配时，使用垫片可以调整零件间的间隙大小。（正确）  
答案：正确，垫片可用于调整间隙或过盈量。
311. 装配过程中，不需要对装配环境进行清洁。（错误）  
答案：错误，清洁的装配环境有助于防止污染和提高装配质量。
312. 在装配过程中，润滑油的使用是可选的。（错误）  
答案：错误，适当的润滑油可以减少摩擦，防止磨损，对装配至关重要。
313. 装配时，所有螺栓都应一次性拧紧到规定扭矩。（错误）  
答案：错误，螺栓应按照规定的扭矩分步拧紧，以避免零件变形或损坏。
314. 装配精度完全取决于零件制造精度。（错误）  
答案：错误，装配精度不仅取决于零件制造精度，还与装配工艺和方法有关。
315. 在机械设计中，对称结构可以提高装配的容错性。（正确）  
答案：正确，对称结构有助于简化装配过程，提高装配容错性。
316. 装配时，所有零件的清洁度对装配质量没有影响。（错误）  
答案：错误，零件的清洁度对防止早期磨损和故障至关重要。
317. 装配过程中，使用蛮力可以解决所有装配问题。（错误）  
答案：错误，使用蛮力可能导致零件损坏或影响装配精度。
318. 在机械设计中，为了提高装配效率，可以忽略零件间的配合性质。（错误）  
答案：错误，零件间的配合性质对确保机械性能和寿命至关重要。
319. 装配过程中，不需要对装配工具进行定期维护和校准。（错误）  
答案：错误，定期维护和校准装配工具可以保证装配精度和质量。
320. 装配时，对零件进行预装配检查是不必要的，因为最终装配时会再次检查。（错误）  
答案：错误，预装配检查有助于提前发现问题，避免返工和延误。
321. 皮带传动是机械传动中效率最低的一种方式。（错误）  
答案：错误，皮带传动的效率可以很高，但会受到滑动和弹性变形的影响。

322. 在部件装配工艺中，装配顺序对最终装配质量没有影响。（错误）  
答案：错误，装配顺序对确保部件正确安装和避免损坏至关重要。
323. 密封部件装配优化知识中，所有密封部件都应使用同一种材料。（错误）  
答案：错误，不同的密封部件可能需要不同的材料以适应不同的工作环境。
324. 密封设计原理中，机械密封适用于所有类型的流体。（错误）  
答案：错误，机械密封主要用于液体，而不适用于所有类型的流体，如高粘度流体。
325. 电磁屏蔽控制知识中，金属外壳可以提供完全的电磁屏蔽。（错误）  
答案：错误，金属外壳可以提供有效的电磁屏蔽，但不是完全屏蔽，仍可能存在缝隙。
326. 电控部件装配工艺知识中，所有电控部件都应接地以防止电磁干扰。（正确）  
答案：正确，接地是减少电磁干扰影响的重要措施。
327. 机械传动基础知识中，齿轮传动不能用于变速传动。（错误）  
答案：错误，齿轮传动可以通过多种方式实现变速，如可变齿轮比设计。
328. 部件装配工艺知识中，装配过程中不需要考虑部件的热膨胀特性。（错误）  
答案：错误，热膨胀可以影响部件的配合和功能，需要在装配时考虑。
329. 密封部件装配优化知识中，O型圈不适用于高温环境。（正确）  
答案：正确，O型圈通常由橡胶制成，不适用于高温环境，可能会因热分解而失效。
330. 密封设计原理中，动密封比静密封更容易实现。（错误）  
答案：错误，动密封通常比静密封更复杂，因为需要在运动中保持密封性能。
331. 电磁屏蔽控制知识中，接地是电磁兼容性设计中不必要的。（错误）  
答案：错误，接地是电磁兼容性设计中的关键环节，有助于减少电磁干扰。
332. 电控部件装配工艺知识中，电控部件的装配不需要特殊的防静电措施。（错误）  
答案：错误，电控部件装配过程中需要采取防静电措施以保护敏感元件。
333. 机械传动基础知识中，链传动比皮带传动具有更高的承载能力。（正确）  
答案：正确，链传动通常比皮带传动能承受更高的负载。
334. 部件装配工艺知识中，使用蛮力装配部件是可接受的，只要部件能够装配到位。（错误）  
答案：错误，使用蛮力装配部件可能导致部件损坏或影响装配质量。
335. 密封部件装配优化知识中，密封部件的尺寸精度对密封效果没有影响。（错误）  
答案：错误，密封部件的尺寸精度对确保密封效果至关重要。
336. 密封设计原理中，双作用密封可以用于双向流体。（正确）  
答案：正确，双作用密封设计用于在两个方向上都能提供密封。
337. 电磁屏蔽控制知识中，屏蔽效能只与屏蔽材料的导电性有关。（错误）  
答案：错误，屏蔽效能与多种因素有关，包括材料的导电性和磁导率，屏蔽层的厚度和完整性。
338. 电控部件装配工艺知识中，电控部件的装配不需要考虑信号完整性。（错误）  
答案：错误，信号完整性是电控部件装配中的一个重要考虑因素，影响系统性能。
339. 机械传动基础知识中，蜗轮蜗杆传动主要用于高速传动。（错误）  
答案：错误，蜗轮蜗杆传动通常用于产生高扭矩和低速度，而不是高速传动。
340. 部件装配工艺知识中，装配过程中不需要对部件进行清洁。（错误）  
答案：错误，清洁部件是装配过程中的一个重要步骤，有助于防止污染和确保配合精度。
341. 先期质量策划(AQP)是在产品开发后期进行的。（错误）  
答案：错误，AQP是在产品开发的早期阶段进行的。
342. 先进制造技术与提高生产效率无关。（错误）  
答案：错误，先进制造技术通常用于提高生产效率。
343. 机电产品调验工作只关注产品的电气性能。（错误）  
答案：错误，机电产品调验工作关注产品的多个性能方面，包括机械和电气性能。

344. 机电产品性能知识不包括产品的可靠性分析。（错误）  
答案：错误，产品的可靠性是机电产品性能的重要组成部分。
345. 先期质量策划中的质量功能展开(QFD)主要用于将客户需求转化为设计要求。（正确）  
答案：正确。
346. 先进制造技术中的自动化生产线可以减少生产成本。（正确）  
答案：正确。
347. 机电产品调验中的环境适应性测试是为了确保产品能在极端环境下正常工作。（正确）  
答案：正确。
348. 先期质量策划中，控制计划是产品交付后制定的。（错误）  
答案：错误，控制计划是在产品开发早期阶段制定的。
349. 先进制造技术中的机器人主要用于执行重复性高、精度要求高的任务。（正确）  
答案：正确。
350. 机电产品调验中的耐久性测试用于评估产品在长期使用下的稳定性。（正确）  
答案：正确。
351. 先期质量策划中，潜在失效模式及影响分析(FMEA)是在产品发布后进行的。（错误）  
答案：错误，FMEA是在产品设计和开发阶段进行的。
352. 先进制造技术中的3D打印技术可以用于制造复杂的几何形状。（正确）  
答案：正确。
353. 机电产品调验中的振动测试与产品的电气性能无关。（错误）  
答案：错误，振动测试可能影响产品的电气连接和性能。
354. 先期质量策划中，生产件批准过程(PPAP)不包括产品的设计记录。（错误）  
答案：错误，PPAP包括产品设计记录和所有相关质量文件。
355. 先进制造技术中的智能制造系统可以自主优化生产过程。（正确）  
答案：正确。
356. 机电产品调验中的精度测试不适用于评估电机的性能。（错误）  
答案：错误，精度测试适用于评估电机的旋转精度等性能指标。
357. 先期质量策划中，过程流程图是在产品生产过程中绘制的。（错误）  
答案：错误，过程流程图是在产品开发阶段绘制的。
358. 先进制造技术中的模块化设计允许快速更换产品组件。（正确）  
答案：正确。
359. 机电产品调验中的扭矩测试对于评估电机的性能是不必要的。（错误）  
答案：错误，扭矩测试是评估电机性能的重要测试之一。
360. 先期质量策划中，测量系统分析(MSA)是为了确保测量设备的准确性和一致性。（正确）  
答案：正确。
361. 产品检测设计知识中，抽样检验是一种全面检验方法。（错误）  
答案：错误，抽样检验只检查部分产品。
362. 设备故障维修知识中，所有设备故障都需要立即维修。（错误）  
答案：错误，有些故障可以计划维修或在下次维护时修复。
363. 产品检测知识中，产品的可靠性测试是为了评估产品在规定时间内功能。（正确）  
答案：正确。
364. 设备故障维修知识中，定期维护可以预防设备故障。（正确）  
答案：正确。
365. 产品检测知识中，环境因素不会影响产品性能测试结果。（错误）  
答案：错误，环境因素如温度和湿度可能影响产品性能。

366. 设备故障维修知识中，设备故障的诊断仅依赖于视觉检查。（错误）  
答案：错误，故障诊断通常需要多种检查方法，包括听觉、触觉和仪器检测。
367. 产品检测设计知识中，控制图用于评估生产过程的稳定性。（正确）  
答案：正确。
368. 设备故障维修知识中，设备的故障率随时间增加而增加。（错误）  
答案：错误，设备的故障率可能随时间变化，但并非总是增加。
369. 产品检测知识中，破坏性测试可以提供产品的耐久性信息。（正确）  
答案：正确。
370. 设备故障维修知识中，维修记录对于预防未来的故障没有用处。（错误）  
答案：错误，维修记录有助于识别故障模式和预防未来的故障。
371. 产品检测设计知识中，产品规格是产品必须满足的最小性能要求。（正确）  
答案：正确。
372. 设备故障维修知识中，更换磨损部件是恢复设备性能的唯一方法。（错误）  
答案：错误，有时通过调整或维修也可以恢复设备性能。
373. 产品检测知识中，产品寿命测试的目的是确定产品能使用多长时间。（正确）  
答案：正确。
374. 设备故障维修知识中，设备的预防性维护不能减少故障发生。（错误）  
答案：错误，预防性维护可以减少故障发生并延长设备寿命。
375. 产品检测设计知识中，测试计划应涵盖所有可能的使用情况。（正确）  
答案：正确。
376. 设备故障维修知识中，设备故障的修复工作只能由专业技术人员完成。（错误）  
答案：错误，一些简单的故障可以由操作员或用户自己修复。
377. 产品检测知识中，产品的视觉检查不能检测到所有类型的缺陷。（正确）  
答案：正确。
378. 设备故障维修知识中，设备的故障诊断不需要使用任何工具或仪器。（错误）  
答案：错误，通常需要使用各种工具和仪器来诊断设备故障。
379. 产品检测设计知识中，产品测试结果的准确性与测试方法的选择无关。（错误）  
答案：错误，测试方法的选择直接影响测试结果的准确性。
380. 设备故障维修知识中，设备的紧急维修应优先于预防性维护。（正确）  
答案：正确，但在资源允许的情况下，预防性维护同样重要。
381. 家电产品设计只需考虑功能性，无需考虑美观性。（错误）  
答案：错误，家电产品设计需要综合考虑功能性、美观性、用户体验等多方面因素。
382. 人体工程学在家电产品设计中没有重要作用。（错误）  
答案：错误，人体工程学对于提高家电产品的用户体验至关重要。
383. 家电设计更改的流程中，风险评估是不必要的步骤。（错误）  
答案：错误，风险评估是设计更改流程中的重要步骤，有助于识别和缓解潜在风险。
384. 家电产品设计更改的规范要求中，成本因素不需要考虑。（错误）  
答案：错误，成本因素是设计更改时必须考虑的重要因素之一。
385. 家电产品设计原理中，模块化设计可以降低生产成本。（正确）  
答案：正确，模块化设计有助于降低生产成本，提高生产效率。
386. 家电设计更改流程中，设计评审是第一步。（错误）  
答案：错误，设计更改流程的第一步通常是问题识别。
387. 家电产品设计中，颜色选择不会影响产品的销售。（错误）  
答案：错误，颜色选择是产品设计中影响销售的重要因素之一。



388. 家电产品设计更改的规范要求中，技术可行性不需要考虑。（错误）  
答案：错误，技术可行性是设计更改中必须考虑的因素之一。
389. 家电产品设计原理中，能效标准不是重要的设计考虑因素。（错误）  
答案：错误，能效标准是家电产品设计中的重要考虑因素。
390. 家电设计更改流程中，市场调研在设计更改后进行。（错误）  
答案：错误，市场调研通常在设计更改前进行，以确定更改需求。
391. 家电产品设计更改的规范要求中，法规合规性不是考虑因素。（错误）  
答案：错误，法规合规性是设计更改中必须考虑的重要因素。
392. 家电产品设计原理中，材料选择只影响成本，不影响性能。（错误）  
答案：错误，材料选择同时影响产品的成本和性能。
393. 家电设计更改流程中，成本效益分析应在设计实施之后进行。（错误）  
答案：错误，成本效益分析应在设计更改决策过程中进行。
394. 家电产品设计更改的规范要求中，设计美观性不是考虑因素。（错误）  
答案：错误，设计美观性是家电产品设计中的重要考虑因素。
395. 家电产品设计原理中，安全性设计是法律要求，与用户体验无关。（错误）  
答案：错误，安全性设计不仅与法律要求相关，也直接影响用户体验。
396. 家电设计更改流程中，不需要与供应链合作伙伴沟通。（错误）  
答案：错误，与供应链合作伙伴沟通是设计更改流程的重要组成部分。
397. 家电产品设计更改的规范要求中，产品重量不是考虑因素。（错误）  
答案：错误，产品重量是设计更改中需要考虑的因素之一。
398. 家电产品设计原理中，环保材料的使用会增加产品成本。（正确）  
答案：正确，环保材料的使用可能会增加成本，但有助于提高产品的环保性能。
399. 家电设计更改流程中，客户反馈在设计更改后收集。（错误）  
答案：错误，客户反馈应在设计更改前收集，以指导更改方向。
400. 家电产品设计更改的规范要求中，产品尺寸可以随意更改。（错误）  
答案：错误，产品尺寸的更改需要考虑制造工艺、成本和用户体验等多方面因素。
401. 家电产品设计原理中，声音设计不会影响用户对产品的感受。（错误）  
答案：错误，声音设计是影响用户感受的重要因素之一。
402. 家电设计更改流程中，设计实施是最后一步。（正确）  
答案：正确，设计实施通常标志着设计更改流程的结束。
403. 家电产品设计更改的规范要求中，产品颜色不能作为更改的依据。（错误）  
答案：错误，产品颜色可以作为设计更改的依据，尤其是当它影响用户体验时。
404. 家电产品设计原理中，易用性设计可以牺牲产品的美观性。（错误）  
答案：错误，易用性设计应与美观性设计相结合，共同提升用户体验。
405. 家电设计更改流程中，不需要进行技术评估。（错误）  
答案：错误，技术评估是设计更改流程中的关键步骤，确保更改的技术可行性。
406. 家电产品设计更改的规范要求中，产品维修性不需要考虑。（错误）  
答案：错误，产品维修性是设计更改中需要考虑的因素之一。
407. 家电产品设计原理中，产品标识设计对品牌识别不重要。（错误）  
答案：错误，产品标识设计对品牌识别和用户体验都很重要。
408. 家电设计更改流程中，法规合规性检查应在设计更改前进行。（正确）  
答案：正确，法规合规性检查有助于确保设计更改不违反相关法规。
409. 家电产品设计更改的规范要求中，产品兼容性不需要考虑。（错误）  
答案：错误，产品兼容性是设计更改中需要考虑的因素之一，尤其是对于需要与其他设备配合

使用的产品。

410. 家电产品设计原理中，产品的形状设计完全取决于设计师的创意。（错误）

答案：错误，产品的形状设计需要考虑功能性、用户体验、制造工艺等多方面因素。

411. 使用任何工具时应注意周围人员及自身的安全，防止因挥动工具、工具脱落造成人员伤害。

（ √ ）

412. 电力设施的运行与电气的安装、维修工作，必须由专业人员进行，并遵守有关的安全技术操作规程。（ √ ）

413. 电磁兼容由二部分组成，一部分是指电磁干扰性（EMI），另一部分是指无线电抗干扰性（EMS）。

（ √ ）

414. 电磁兼容性就是指设备或系统在其电磁环境能正常工作且不对该环境中任何事物构成不能承受的电磁骚扰的能力。（ √ ）

415. 国家标准对机械制图的基本规定：图样中的尺寸以厘米为单位时，不需标注其计量单位；（ × ）

416. 国家标准对机械制图的基本规定：数字和字母写成直体。（ × ）

417. 关键工序是指加工质量不易或不能通过其后的检验和试验充分得到验证的工序。（ √ ）

418. 重要工序是指对产品质量起决定性作用的工序。它是主要质量特性形成的工序（重要），也是生产过程中需要严密控制的工序。（ √ ）

419. 对产品结构、规格、质量和检验方法所做的技术规定，称为产品标准。（ √ ）

420. 我国的产品标准分国家标准（GB）、地方标准（DB）二级。（ × ）

421. 蒸汽型电熨斗在工作时不用加水。（ × ）

422. 在检修家电时一般不需切断电源才可进行检修。（ × ）

423. 电饭锅工作温度达到  $103 \pm 2^\circ\text{C}$  时，磁钢限温器使电路断电。

424. 吊扇启动困难但被拨动后能运行，一般原因是启动电容损坏。（ √ ）

425. 相对滚筒式而言，波轮式洗衣机洗净率高，衣服磨损率也高。（ √ ）

426. 单相异步电动机又称单相感应电动机，只需单相交流电源供电。（ √ ）

427. 永磁式直流电动机的特点是结构简单、体积小，转速不稳定。（ × ）

428. 抽头调速电动机的绕组是由主绕组、副绕组、中间绕组三个绕组组成。（ √ ）

429. 双金属片控温元件是利用两种具有相同温度膨胀系数的金属制成的。（ × ）

430. 高频电磁炉使用的高频电流是 20KHz 以上。（ √ ）

431. 家用电器中用的漏电保护器的整定电流是 22.5mA。（ √ ）

432. PTC 元件为正温度系数的热敏电阻，使用它启动电机比重力启动继电器启动电机噪声更大。（ √ ）

433. 电热水器实用控制电路中的水位开关不能控制水位的高低。（ × ）

434. 电热水器实用控制电路中的水位开关可控制水位的指示。（ √ ）

435. 电热水器实用控制电路中的水位开关只控制水位达到 2/6 高度才能通电加热。（ √ ）

436. 电热水器实用控制电路中的水位开关只控制水位达到设定高度才能通电加热。（ × ）

437. 热泵型空调器夏季制冷时四通换向阀的线圈处于断电状态。（ √ ）

438. 在继电器控制的开关电路中，继电器线圈两端必须并联正向二极管。（ × ）

439. 在使用 LM393 为电压比较器时，输出端必须外接上拉电阻。（ √ ）

440. 用 LM393 为电压比较器构成温度检测电路，可直接输出开关信号。（ × ）

441. 电风扇大多采用电容启动及运转型异步电动机。（ √ ）

442. 电风扇电动机所用电容器为无极性电容器，耐压为 350~500V。（ √ ）

443. 电风扇电动机所用电容器为无极性电容器，电容量为 1~2.5 $\mu\text{F}$ 。（ √ ）

444. 电风扇离合器式摇头控制是：当离合器处于分离状态时，电风扇不摇头。（√）
445. 制冷系统发生泄漏故障修补好，都要更换干燥过滤器。（√）
446. 空调在制冷运行时兼有除湿作用。（√）
447. 电风扇离合器式摇头控制是：当上下离合块啮合时，电风扇不摇头。（×）
448. 单相电容运转式异步电动机的过载能力比电阻启动式单相异步电动机好。（√）
449. 在双向晶闸管调速电路中，常用 RC 串联移相触发电路。（×）
450. 在压缩机中，制冷剂吸收热量，其温度和压力不变化。（×）
451. 铝蒸发器内漏时可用银焊补漏。（√）
452. 在冷凝器中，制冷剂放出热量，其温度和压力不变化。（×）
453. 窗式空调器属于整体式空调器。（√）
454. 在毛细管中，制冷剂放出热量，其温度和压力不变化。（×）
455. 电冰箱全封闭式压缩机的电机通常有主绕组和副绕组两部分构成。（√）
456. 为了使制冷剂气体中不含液体，需要使制冷剂过热。（√）
457. 在夏季，电冰箱温度控制器设定温度应调低些。（×）
458. 往复式压缩机中的活塞顶面与阀板地面间的余隙容积是不可避免的。（√）
459. 热泵型空调器比单冷型空调器仅多了一个电磁阀。（×）
460. 电热型空调器的制热方式是通过电热管加热的。（√）
461. 热泵型空调器的制热方式是通过制冷剂冷凝放热。（√）
462. 空调器中电磁四通阀的作用是改变制冷剂在换热器中的流动方向。（√）
463. 压缩机启动频繁一定是由于启动继电器失效。（×）
464. 变频式空调器的节流元件可使用毛细管。（√）
465. 若冰箱冷冻室内周期性结霜和化霜，则表明制冷系统发生脏堵。（×）
466. 变频式空调器的节流元件是电子膨胀阀。（√）
467. 变频空调器制热时，利用除霜电磁阀改变电磁四通换向阀的工作状态进行除霜。（×）
468. 家用空调器压缩机频繁起停应首先判断为压缩机故障。（×）
469. 普通双桶洗衣机的洗涤电动机和脱水电动机可以互换使用。（×）
470. 普通双桶洗衣机的洗涤电动机的定子绕组分为启动绕组和运转绕组。（√）
471. 分体式空调器室内机组、室外机组的连接管道有两根，一根为高压液管，较粗；另一根为低压气管，较细。（×）
472. 热泵辅助电热型空调器是以电热制热为主。（×）
473. 普通双桶洗衣机的脱水桶盖打开时，脱水电动机不会转动。（√）
474. 波轮式全自动套筒洗衣机脱水时，脱水桶逆时针方向转动。（√）
475. 波轮式全自动套筒洗衣机脱水时，脱水桶顺时针方向转动。（×）
476. 铝电解电容可以不分正负极进行安装焊接。（×）
477. 新的发光二极管（直插封装）两条引脚一长一短，其中短的一条为正极。（×）
478. 三极管的三条引脚分别称为：控制极、集电极、发射极。（×）
479. 单向可控硅的三条引脚分别称为：阳极、阴极、基极。（×）
480. 装配工作完毕后，应将设备和工具的电、气、水、油源断开。清理工作场地后方可离开岗位。（√）
481. 用直流电流来驱动的电动机叫直流电动机。（√）
482. 限温器是一种动作温度可以是固定的或可调的热敏装置。在正常工作期间，当器具或器具部件的温度达到预定值时，便接通电路或断开电路。（√）
483. 保险丝越粗则电路越安全。（×）
484. 当发现不合格品时，首先应当送去返工。（×）

485、电阻可以不分正负极进行安装焊接。（ ✓ ）

题库的答案仅供参考